

EXAMEN ARBITRE TIR EN CAMPAGNE AVRIL 2014

Question n° 1

1 - 1. Quelles sont les catégories d'armes et catégories d'âges admises lors du championnat de France "Jeunes" de tir en campagne ?

1 - 2 Citez les différentes sortes de parcours de tir en campagne sélectifs pour le championnat de France qu'un organisateur peut proposer aux compétiteurs sur 1 journée.

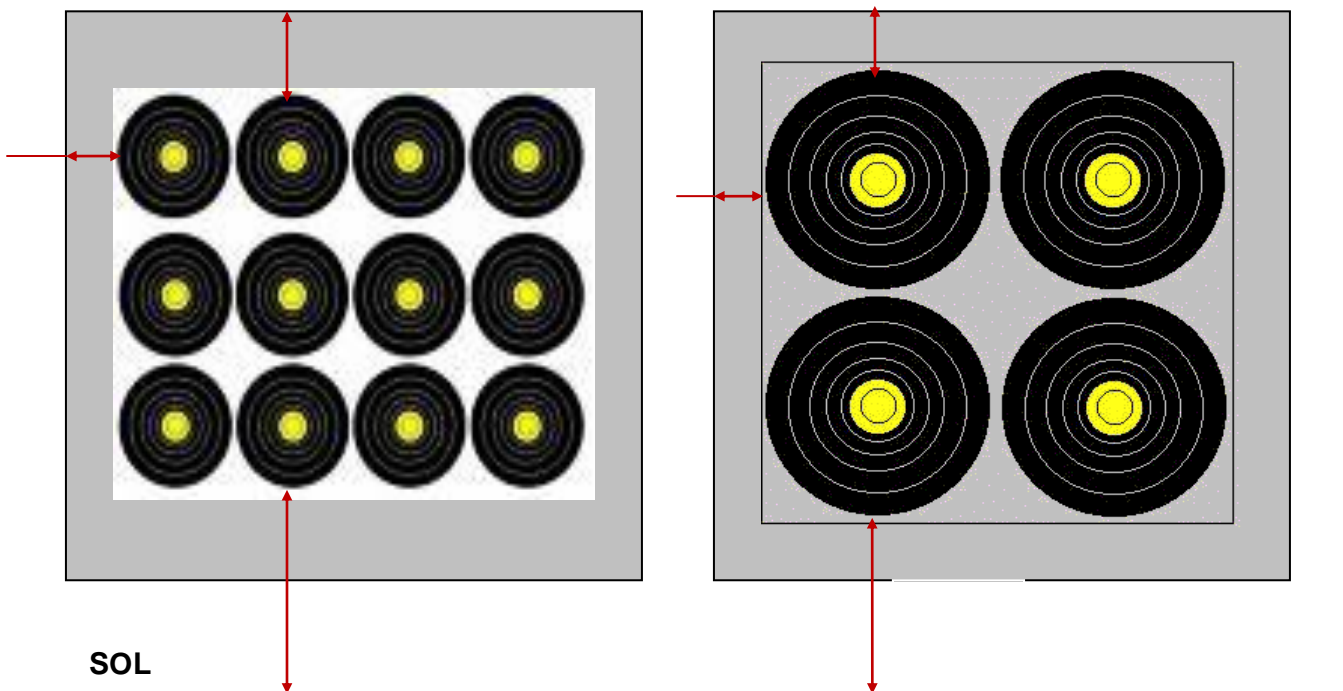
1 – 4 Positionnez les différents blasons du tir en Campagne sur les schémas des buttes qui vous sont proposés (*).



Vous préciserez les cotes minimales et/ou maximales d'implantation sur chaque butte, accompagnées du diamètre du (ou des) blason(s).

(*) Les schémas proposés ci-dessous peuvent être plus nombreux que nécessaire.

Blason de 20cm

blason de 40cm

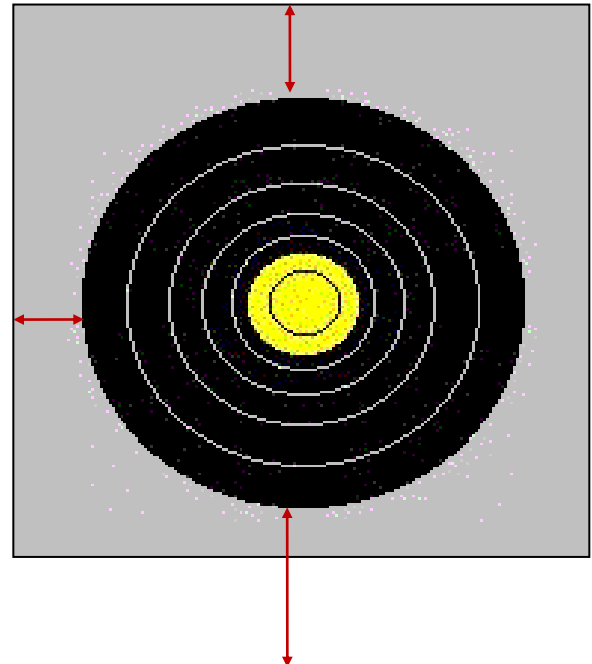
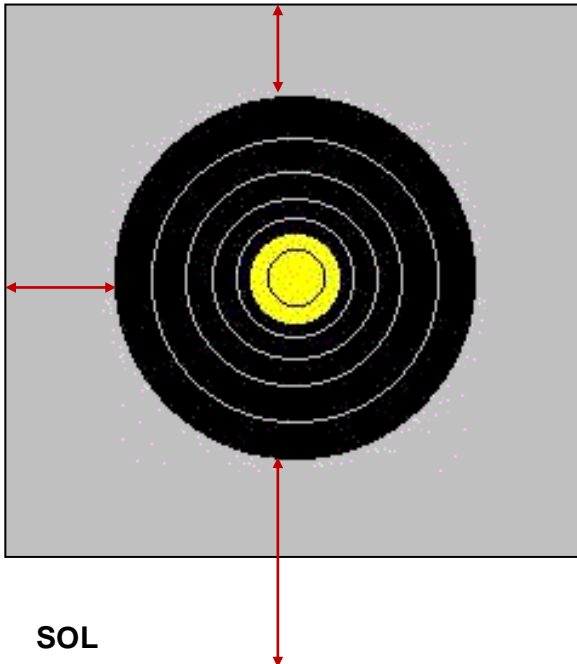




SOL

blason de 60cm

blason de 80cm



SOL

Commentaire(s) éventuel(s) :

1 - 5 A la fin de la phase de qualification d'une compétition avec finales et après saisie des scores, il y a nécessité de procéder à un barrage. Lorsque vous appelez les compétiteurs, il y en a un qui est absent.

1- Que faites-vous en pareille circonstance ?

2- Citez la ou les phases où cette situation ne peut être rencontrée.

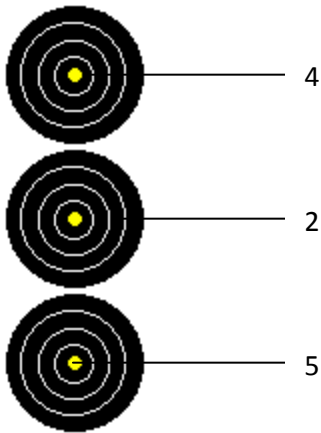
QUESTION N ° 2

2 – 1 Lors de votre visite préliminaire du parcours « campagne », support d'un championnat départemental, une butte de tir vous semble particulièrement dangereuse.

Votre demande de modification ne peut aboutir, car la dangerosité relative de cette butte est le prix à payer pour sa technicité.

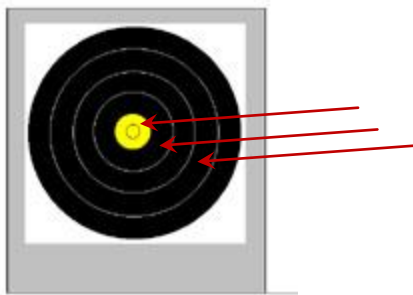
Comment gérez vous ce problème ?

2 – 2 Pour chaque cas ci après, donnez la valeur de la volée en précisant la valeur de chaque flèche et le total de la volée.



Avant de se planter dans le 2, cette flèche a percuté la flèche plantée dans le 5

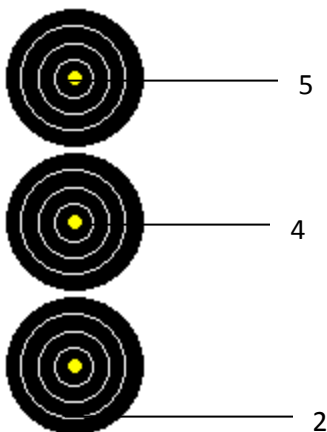
Valeur de la volée :



Même cas que le précédent

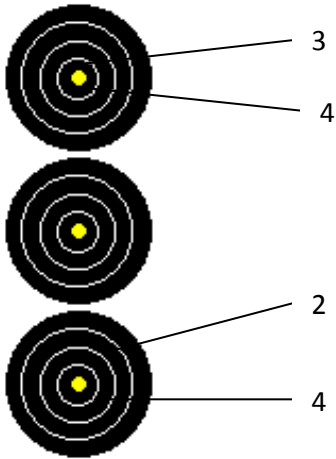
Réponse :

Blason 60cm



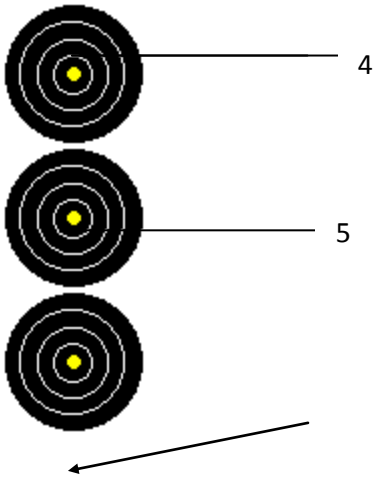
Lors de la 1/2 finale du championnat de France, un arbitre accompagne le peloton. Après que l'arbitre ait donné le signal de fin de tir ("stop"), l'archer a tiré une flèche. L'arbitre et les autres compétiteurs ont vu clairement que cette flèche est celle qui est dans le 2.

Valeur de la volée :



La flèche dans le 2 a été tirée hors temps

Valeur de la volée :



La troisième flèche a percuté la flèche dans le 5 : elle est tombée au sol.

Valeur de la volée :

2 - 3 Lors d'un match de 1/2 finale du championnat de ligue, un arbitre accompagne le peloton et surveille les impacts.

- **Décrivez la procédure à suivre pour le contrôle du temps de tir d'une volée.**
- **L'un des compétiteurs tire sa dernière flèche hors temps et l'arbitre voit que c'est un 2.**

Que doit faire l'arbitre ?

2 - 4 Finale du championnat de ligue. Pour ce match :

*** chaque archer aura tiré combien de flèches ?**

*** à la fin du match pour la médaille de bronze, les deux archers (BB) sont crédités chacun de 56 points.**

Que se passe-t-il ?

Expliquer en détail vos deux réponses

QUESTION 3

Indiquer de quels équipements personnels (matériel de l'arbitre) doit être pourvu un arbitre lorsqu'il s'apprête à diriger une compétition officielle.