

# EXAMEN ECRIT D'ARBITRE FEDERAL - Session 1-2015

## OPTION CAMPAGNE

### QUESTION 1 (45 points)

1.1 Quelles catégories d'âge et d'armes sont admises lors du championnat de France « Jeunes » de tir en campagne ? (10 points)

1.2 Citez les caractéristiques du matériel suivant : (10 points)

Bare bow	Arc classique

1.3 Départage des ex-aequo (15 points)

A la fin de la phase de qualification d'une compétition avec finales et après saisie des scores, il y a nécessité de procéder à un tir de barrage. Lorsque vous appelez les compétiteurs, il y en a un qui est absent.

- 1- Que faites-vous en pareille circonstance ?
- 2- Citez la ou les phases où cette situation ne peut être rencontrée



NOM :

Prénom :

N° d'anonymat :


Page 2 sur 6

N° d'anonymat :

#### 1.4 QCM (10 points)

	V	F
Un archer ayant élaboré le parcours (avec des inconnues) peut participer au concours		
La distance à respecter pour 12 cibles du piquet rouge est entre 310m et 330m		
Le diamètre maxi du tube de la flèche est de 9.4 mm		
Le temps limite pour tirer 3 flèches est de 3 minutes		
La catégorie minime arc à poulies est une catégorie officielle		
Il y a 2 blasons de 40 cm par butte		
La tolérance de mesure des distances supérieures à 15m est de +/- 1 mètre		
Pour l'arc nu, le pianotage est autorisé		
La prise méditerranéenne comporte 2 doigts au-dessus de l'encoche et un doigt en dessous		
Un peloton peut être composé de 2 archers		
Un arc brisé peut être remplacé par un arc de rechange ou emprunté		
Le temps limite pour un tir de barrage est de 40 secondes		
On peut utiliser une feuille de papier format A4 maximum pour se protéger du soleil		
En match pour la finale, si l'archer tire une flèche hors temps, on lui retire la valeur de cette flèche		
Un appel peut être fait 15 minutes après la fin des tirs		
Une équipe a 6 minutes pour tirer ses flèches après avoir quitté le pas d'attente		
En tir par équipe, sur un blason unique, les équipes tirent simultanément		
En tir par équipe, les 1/8 et 1/4 se tirent sur une boucle de 8 cibles connues		
Le capitaine d'équipe peut accompagner ses archers à tous les piquets de tir		
Un viseur multipoints sur un arc à poulies est autorisé pour toutes les distances		

#### QUESTION 2 (45 points)

**2.1 Au cours d'une compétition, vous constatez qu'au pas rouge d'une cible et suite aux conditions météorologiques, les archers ne parviennent pas à se stabiliser dans le temps réglementaire. Quatre pelotons ont déjà effectué leur tir sur cette butte sans que vous ayez été informé de ce problème. Que faites-vous en pareil cas ? (5 points)**

**2.2 Alors que vous contrôlez le matériel d'un archer, vous avez un doute concernant le tranche-fil d'une corde d'un arc nu qui pourrait servir d'aide à la visée, que faites-vous ? (5 points)**



NOM :

Prénom :

N° d'anonymat :


Page 3 sur 6

N° d'anonymat :

2.3 Lors d'une compétition, un arbitre contrôle la puissance des arcs à poulies à la cible 18. Lors de ce contrôle un archer est trouvé à 60,5 livres et un autre à 63 livres. Que doit faire l'arbitre ? A-t-il le droit de faire un contrôle en cours de compétition alors que l'archer est passé au contrôle du matériel avant le concours ? (5 points)

2.4 Vous êtes le président de la commission technique d'un concours campagne. Lors d'un parcours 2 fois 12 cibles, il apparaît que la cible 6 est vraiment dangereuse. L'organisateur refuse de faire les changements que vous lui demandez car selon lui c'est le prix à payer pour avoir une cible technique. Comment traitez-vous le problème ? (5 points)

2-5 Avant le début de la compétition, l'arbitre responsable annonce, grâce à la sonorisation, la composition du jury d'appel. Un journaliste vous demande ce qu'est le jury d'appel. Que pouvez-vous lui répondre ? (5 points)

2.6 Valeurs de flèches (10 points) :

Pour chaque cas ci après, donnez la valeur de la volée en précisant la valeur de chaque flèche et le total de la volée ainsi que votre raisonnement pour arriver à ce résultat.



NOM :

Prénom :

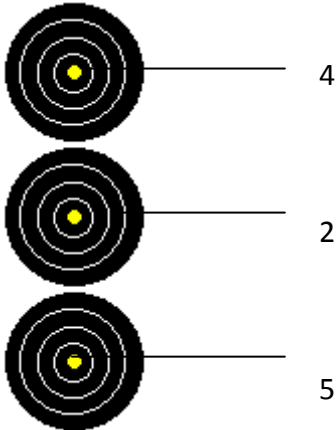
N° d'anonymat :

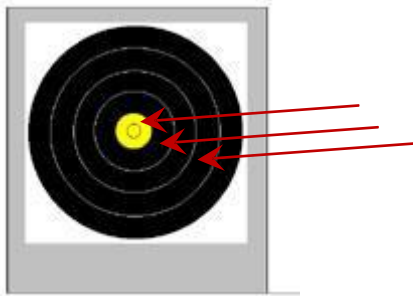
Page 4 sur 6

N° d'anonymat :

Avant de se planter dans le 2, cette flèche a percuté la flèche plantée dans le 5



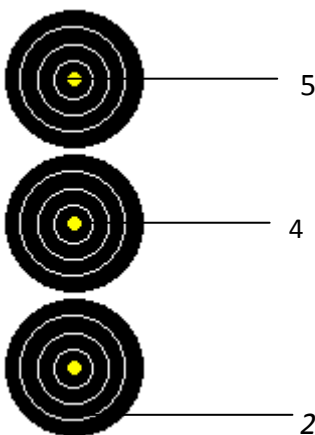
**Valeur de la volée :**



Même cas que le précédent

**Valeur de la volée :**

Blason 60cm



Lors de la 1/2 finale du championnat de France, un arbitre accompagne le peloton. Après que l'arbitre ait donné le signal de fin de tir ("stop"), l'archer a tiré une flèche. L'arbitre et les autres compétiteurs ont vu clairement que cette flèche est celle qui est dans le 2.

**Valeur de la volée :**



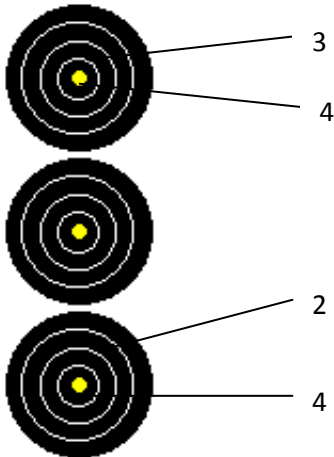
NOM :

Prénom :

N° d'anonymat :

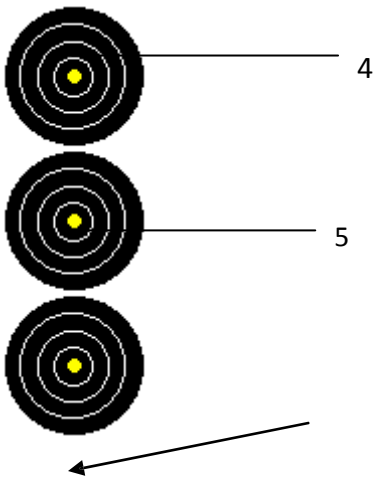
Page 5 sur 6

N° d'anonymat :



Lors d'un match, la flèche dans le 2 a été tirée hors temps

Valeur de la volée :



La troisième flèche a percuté la flèche dans le 5 : elle est tombée au sol.

Valeur de la volée :

**2.7 Finale du championnat de ligue. Pour ce match :**

- chaque archer aura tiré combien de flèches ?
- à la fin du match pour la médaille de bronze, les deux archers (BB) sont crédités chacun de 56 points.

Que se passe-t-il ?

Expliquer en détail vos deux réponses  
(10 points)



**NOM :**

**Prénom :**

**N° d'anonymat :**


Page 6 sur 6

**N° d'anonymat :**

**QUESTION 3 (10 points)**

**Un poussin souhaite faire des compétitions "officielles" (= sélectives pour le championnat de ligue). Expliquez à ses parents ce qui est :**

- **obligatoire**
- **autorisé**
- **interdit**

