

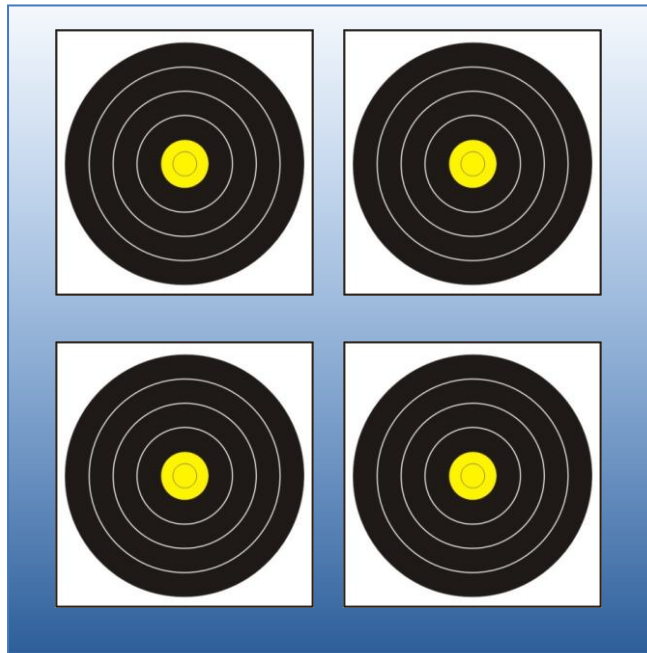
QUESTION 1 (45 points)

1.1 Indiquez les catégories ouvertes dans toutes les divisions d'arc pouvant participer aux championnats régionaux de tir en campagne. Précisez la couleur du pas de tir correspondant. **(15 points)**

Catégories						
	Femmes	Hommes	Femmes	Hommes	Femmes	Hommes
Benjamins						
Minimes						
Cadets						
Juniors						
Seniors						
Vétérans						
Super vétéran						

1.2. Précisez l'ordre de tir et les colonnes attribuées à chaque archer sur une cible équipée en blasons de 20 cm et en blasons de 40 cm . **(10 points)**

1.3 Indiquez les dimensions d'implantation des blasons de 40 cm sur une butte de tir. (10 points)



1.4 QCM (10 points)

	V	F
Le peloton ne doit pas quitter la cible avant que tous les impacts n'aient été cochés		
Départage des égalités concernant l'admission aux épreuves éliminatoires : nb de 6 et 5		
Une ombre protectrice, de la taille maximale d'une feuille de papier de format A4 est autorisé dans toutes les phases de la compétition		
L'appel doit se faire dans les 15 minutes après la fin de la compétition		
Un téléphone utilisé en appareil photo est autorisé après le tir du dernier archer du peloton		
Il existe 4 catégories d'arc en tir campagne		
La tolérance de mesure des distances supérieures à 15 m est de +/- 2 mètres		
Il est interdit de fumer sur le parcours		
Lors des ½ finales le tir de barrage est effectué sur la dernière cible tirée		
Les marqueurs doivent comparer leurs résultats après avoir retiré les flèches de la cible		
Dans les matchs l'arbitre montre un carton jaune pour indiquer les 30 secondes		
30 minutes sont allouées pour réparer le matériel		
Les organisateurs désignent les cibles sur lesquelles les différents pelotons commencent à tirer		

Les tireurs peuvent se positionner uniquement à 1 mètre derrière le piquet		
Les wraps doivent avoir une longueur maximale de 22 cm		
L'overdraw pour un arc classique est de 4 cm maximum		
La longueur totale du viseur ne peut pas dépasser 2.5 cm		
Les marques de fabrique sur la face interne de la branche du haut sont autorisées		
La tolérance pour l'anneau de 12,2 cm est de +/-0,05 mm		
En arc nu les repères de lèvres sont autorisés sur la corde		

QUESTION 2 (45 points)

2.1 Lors d'une compétition qualificative pour le championnat de France, au poste 23, vous chronométrez un peloton qui provoque un ralentissement, le dernier tireur à quitter le pas de tir a largement dépassé le temps normal de tir.
 Expliquez la procédure dans cette situation. **(10 points)**

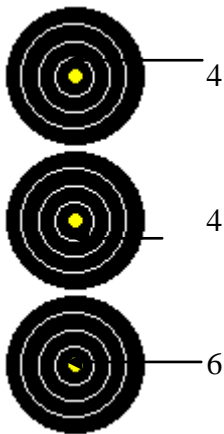
2.2 Lors du contrôle du terrain vous constatez que le pas de tir (piquet rouge) de la cible à 60 m est devenu particulièrement dangereux après les fortes pluies de la nuit. Que conseillez vous à l'organisateur pour supprimer ce point dangereux ? **(10 points)**

2.3. Pour accéder au championnat de France par équipe de club, il est nécessaire de passer par les qualifications.
 Comment est constituée une équipe, que doit - elle comprendre obligatoirement ? **(5 points)**

2.4 Pour chaque cas ci-après, donnez la valeur de la volée en **expliquant comment vous valorisez** chaque flèche. Une valorisation non expliquée sera considérée comme non valable.

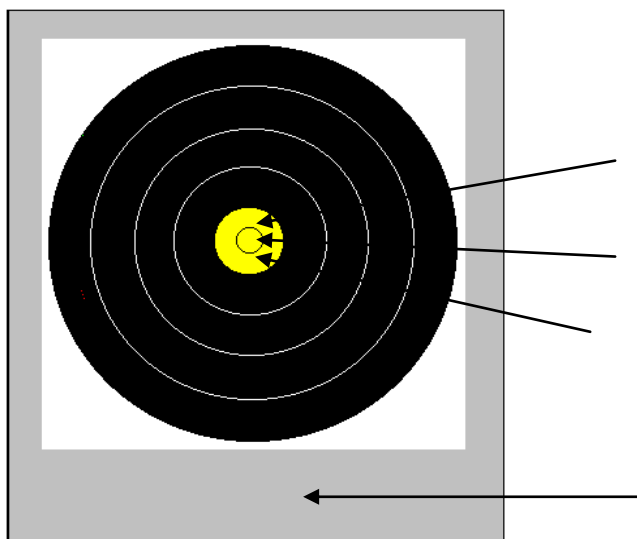
(4 points par bonne réponse (5x4) = 20 points)

Cas n°1



Avant de se planter dans le 4, cette flèche a percuté la flèche plantée dans le 6.

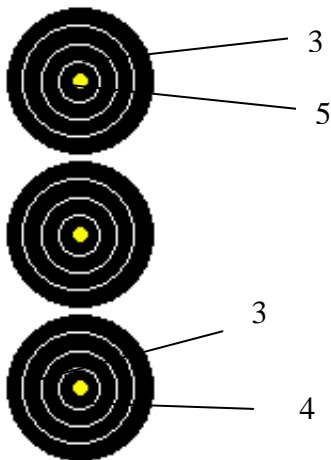
Cas n°2



sol

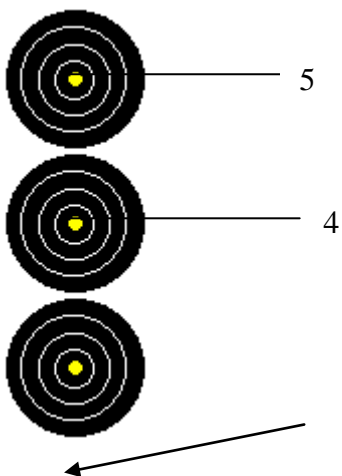
Cette flèche hors zone a percuté le 5 avant de tomber au

Cas n°3



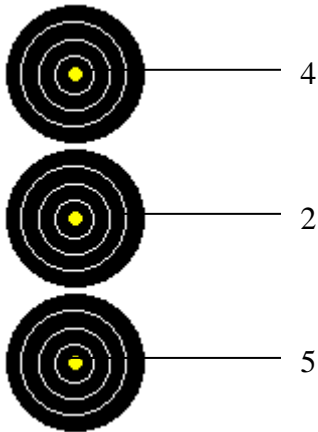
La flèche dans le 4 a été tirée en dépassement de temps

Cas n°4



La troisième flèche a percuté la flèche dans le 4 : elle est tombée au sol.

Cas n°5



Avant de se planter dans le 2, cette flèche a percuté la flèche plantée dans le 5

QUESTION 3 (10 points)

Le contrôle des licences au greffe.

3.1 Quels sont les types de licence ouvrant droit à une compétition officielle FFTA ?

3.2 Par qui est opéré le contrôle des licences au greffe ?

3.3 Quel(s) document(s) ou justificatif(s) doit présenter un tireur pour être admis sur une compétition ?

3.4 Le certificat médical peut-il être exigé au greffe ? Pourquoi ?