

QUESTION 1 (45 points)

- 1.1** Dans quelle situation trouve-t-on un directeur des tirs ? Quel est son rôle ? (2 points)
- 1.2** Vous accompagnez un peloton lors des 1/2 finales du championnat régional individuel. Pour chronométrer les concurrents, expliquez comment vous allez procéder. (4 points)
- 1.3** Pour le tir en campagne, citez les championnats donnant droit aux titres de « champion de France » ou de « championne de France » (2 points)
- 1.4** Citez les blasons utilisés pour un parcours de 2 x 24 cibles, par tailles et quantités nécessaires au départ. (6 points)
- 1.5** Pour la catégorie seniors, citez les catégories d'armes admises en compétition jusqu'au championnat régional en indiquant la couleur du piquet de tir (6 points)
- 1.6** Comment sont sélectionnées les équipes de clubs pour participer au championnat de France par équipes de Clubs de tir en campagne ? (5 points)
- 1.7** Sur un parcours dominical vous avez en charge une boucle de quatre cibles et vous constatez que deux pelotons posent problème et provoquent des ralentissements. Expliquez comment vous allez procéder (10 points)

EXAMEN ECRIT ARBITRE FEDERAL - Session 1-2017 - Option Campagne
CORRIGE

1.8 QCM

(10 points)

	V	F
Un junior arc nu tire du piquet rouge		
La distance à respecter pour 12 cibles du piquet rouge est entre 310m et 330m		
En France il faut un bouchon pour pouvoir chronométrer un peloton		
Le temps alloué pour un incident de matériel (quand c'est autorisé) est de 30 minutes		
En cas de dépassement de temps on supprime la dernière flèche tirée		
Les zones marquantes ne doivent pas être à plus de 15 cm du sol		
Lors d'un barrage si les scores sont différents on retire le barrage		
Un archer peut prendre un autre arc si le sien casse		
C'est toujours la même paire qui commence à tirer sur chaque cible		
Un cache œil peut être utilisé par un vétérans arc nu		
En prise méditerranéenne (longbow) les 3 doigts peuvent être séparés au moment du tir		
Un viseur multipoint est autorisé en arc classique		
La tolérance de mesure pour une distance de 17m est de +/- 25 cm		
En aucun cas la distance exacte d'une cible ne sera inscrite au piquet de tir sur les parcours distances connues		
La longueur totale du viseur avec une fibre droite ne peut excéder 20 mm		
Le « pianotage » est autorisé en barebow		
En barebow l'arc nu tendu doit passer dans un anneau de 12.2 cm		
Les wraps doivent faire moins de 22 cm si la flèche mesure moins de 9 mm de diamètre		
En longbow seules les futs en bois sont autorisés		
Pour qualifier une équipe de club il faut 1 arc nu, 1 arc classique et 1 arc à poulies		

QUESTION 2 (45 points)

2.1 Que devez-vous faire en tant qu'arbitre responsable d'un concours sélectif ?

(15 points)

2.2 Lors d'un concours sélectif sur 2 jours, l'organisateur ne veut pas changer les distances des inconnues le deuxième jour car il n'a pas le temps de le faire. Qu'est-ce que cela implique ?

(6 points)

2.3 Vous êtes arbitre à cette cible (tir individuel).

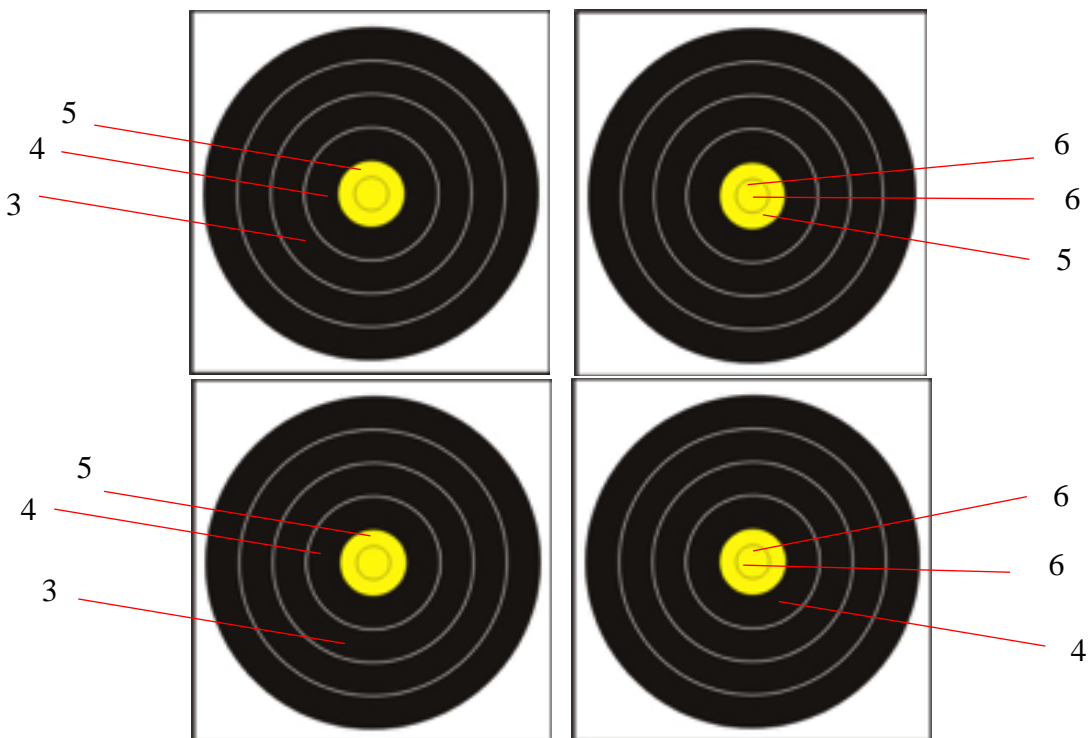
Sachant que: L'archer "A" a tiré sur le blason "C"

L'archer "C" a tiré sur le blason "A"

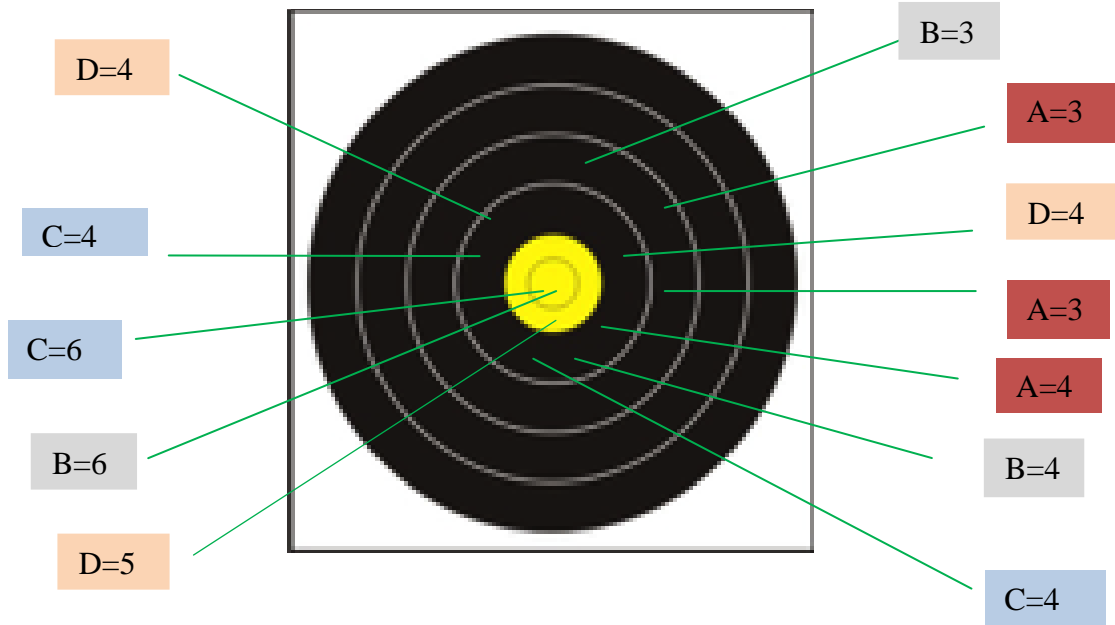
Les archers "B" et "D" ont tiré sur le blason qui leur était attribué,

Donnez les valeurs des flèches de chaque archer





(6 points)







2.4 Vous avez constaté que le peloton qui vient de tirer cette cible provoque un ralentissement et que l'archer dont les flèches sont notées "C" a commis sur cette cible un deuxième dépassement de temps. (6 points)

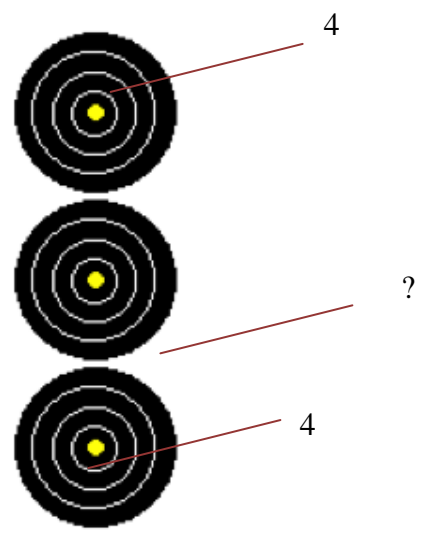


Indiquez comment vous gérez cette situation et comment vous validez la marque de chacun des archers sur cette cible.

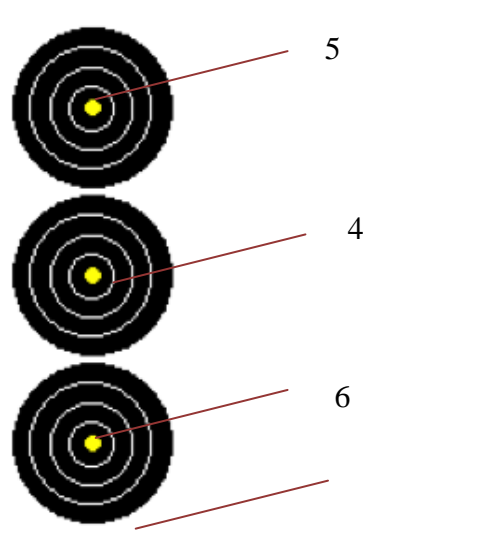
	A	
	B	
	C	
	D	

- 2.5 Valorisez les flèches (la flèche située entre les blasons deux et trois est plantée hors zone marquante après avoir percuté la flèche du blason du haut). (6 points)

	<p>Valeur de la volée (expliquez votre démarche)</p>
---	--

- 2.6 Valorisez les flèches (la flèche plantée sous le blason du bas a percuté la flèche du blason du milieu (le 4)) (6 points)

	<p>Valeur de la volée (expliquez votre démarche)</p>
---	--

QUESTION 3 (10 points)

Décrivez les règles de constitution du Jury d'appel ainsi que la procédure de dépôt d'une réclamation et de traitement de celle-ci.

- 3.a Qui doit constituer le Jury d'Appel ?
- 3.b Comment le constituer ? (qui peut être désigné, qui ne peut être désigné ?)
- 3.c Quel est le rôle du Jury d'Appel ?
- 3.d Quelle est la procédure pour déposer la réclamation ?
- 3.e Quelle est la procédure pour traiter la réclamation et rendre la décision ?