

NOM :

Prénom :

N° d'anonymat :

Page 1 sur 8

N° d'anonymat :

EXAMEN ECRIT D'ARBITRE FEDERAL - Session 2-2017 OPTION CIBLES ANGLAISES

Madame, Mademoiselle, Monsieur

Cette épreuve concrétise les compétences relatives aux modules FITA/Salle/Fédéral acquises au cours de votre formation d'Arbitre Fédéral.

Si vous remplissez ce questionnaire c'est que vous êtes titulaire, outre du tronc commun, des modules VI, VII, VIII et XIII des formations d'Arbitres Fédéraux, félicitations et bon travail.

La C.N.A.

Pour répondre :

- Vous rendrez la liasse de feuilles support des questions après l'avoir complétée.
- Si les espaces dévolus aux réponses s'avéraient insuffisants vous utiliserez des feuilles blanches format A4, en repérant sans ambiguïté les questions auxquelles elles se rapportent.

Il est vivement conseillé d'éviter de rendre un travail réalisé au crayon à papier et merci de penser aux correcteurs et d'écrire lisiblement (une copie illisible ne sera pas corrigée)

Vos NOM et PRENOM doivent être portés, au moins sur la première feuille réponse si l'ensemble est agrafé, sur toutes les feuilles s'il existe un risque de dissociation de la liasse.

N'ÉCRIVEZ PAS DANS LES 4CM SUPÉRIEURS DE VOS FEUILLES PERSONNELLES D'AUTRES ÉLÉMENTS QUE VOS NOM, PRENOM ET N'ÉCRIVEZ PAS NON PLUS SUR LES 4 CM SUPÉRIEURS AU DOS DES FEUILLES. CES 4 CM SONT DÉTACHÉS DE LA COPIE AU MOMENT DE L'ANONYMISATION.

Les épreuves devant être "anonymes", il ne pourra être toléré de signes distinctifs apposés par le candidat arbitre sur l'une quelconque d'entre-elles.

Le temps alloué pour l'épreuve est de deux heures : 2h

IMPORTANT

Les questions sont au nombre de 3 :

- question 1 notée sur 45 points
 - question 2 notée sur 45 points
 - question 3 (commune à toutes les options) notée sur 10 points
- soit un total maximum de 100 points

Toute non réponse à une question ou à une sous question est éliminatoire

Pour être admis, le candidat devra obtenir un minimum de 70 points, correspondant à 14/20



NOM :

Prénom :

N° d'anonymat :

Page 2 sur 8

N° d'anonymat :

QUESTION 1 (45 points)

1.1 Contrôle du matériel (6 points)

1/2 point par bonne réponse A 1 pour B et 3 pour C

Avant le début de la compétition, les arbitres vérifient l'équipement des archers :

- A Parmi les situations suivantes lesquelles ne sont pas autorisées ? **Toutes**
- 1 – deux clickers
 - 2 – une nasette et une sucette
 - 3- des tubes de diamètre 9,4mm
 - 4 – un poids monté sur un bare bow avec un joint caoutchouc évitant d'abimer la peinture de l'arc
- B Pour les arcs à poulies : quelle est la puissance maximale autorisée **60lbs**
- C Lors du contrôle vous trouvez un arc à poulies avec une puissance supérieure à la limite autorisée. Vous demandez à l'archer de baisser sa puissance. Etes-vous autorisé à refaire un contrôle plus tard durant la compétition ? **oui**
Si oui précisez comment opérez-vous ? **Même peson**
Que se passe-t-il si la puissance relevée est à nouveau supérieure à la limite autorisée ?
Perte des points obtenus jusqu'au moment du contrôle – disqualification si 2° contrôle

1.2 Tir par équipe (8 points)

1 point par bonne réponse

Lors d'une épreuve par équipe régionale :

- A Dans quelles situations l'arbitre en charge d'un match (tir en simultané) est-il amené à montrer le carton jaune ?
- Passage de la ligne des 1 m avant le feu vert**
 - Mauvais passage de ligne**
 - Flèche sortie du carquois trop tôt (la pointe est visible)**
 - Décocheur accroché à la corde avant le passage de ligne**
- B Dans quelles situations l'arbitre en charge du match est-il amené à montrer le carton rouge ?
- Flèche tirée alors qu'un carton jaune est montré**
 - Flèche hors temps**
- C A qui l'arbitre montre-t-il le carton jaune (si nécessaire) ? **Coach**
Dans le cas où l'équipe est composée d'un archer handicapé est-il autorisé à rester sur la ligne et comment le tir est-il organisé ? **Oui – lève le bras/Go**

Catégories, distances et blasons (6 points)

Pour un concours dominical, citez tous les types de blasons pouvant être utilisés lors d'un tir en salle 2 x 18m.

- **Blasons de 40cm (à 10 zones de score pour les catégories CL et BB junior à SVet)**
- **Blasons de 40cm trispots verticaux pour arc classique, grand dix (à 5 zones de scores du 10 au 6)**
- **Blason triple triangulaire 40 cm classique**
- **Blasons de 40cm trispots verticaux pour les arcs à poulies, petit dix (à 5 zones de scores du 10 au 6)**
- **Blasons de 40cm trispots triangulaires (à 5 zones de scores du 10 au 6)**
- **Blasons de 60cm à 10 zones de scores (pour les catégories Benjamins et Minimes)**



NOM :

Prénom :

N° d'anonymat :

Page 3 sur 8

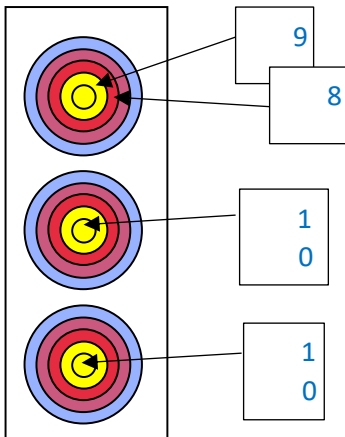
N° d'anonymat :

- *Blasons de 60cm à 10 zones de scores (pour les cadets HF BB)*
- *Blason triple vertical 60 cm*
- *Blason triple triangulaire 60 cm*
- *Blasons de 80cm à 10 zones de scores (pour la catégorie Poussin)*

1.3 Valeurs des flèches (25 points)

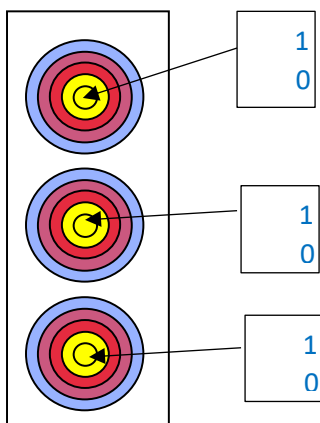
Pour chacune des 5 situations suivantes, donnez la valeur des flèches et de la volée en expliquant comment vous avez procédé. Une valorisation non justifiée sera considérée comme non valable.

A Spot 1 => 9, 8 Spot 2 => 10 (tirée hors temps) Spot 3 => 10 **8MM**



La flèche tirée dans le spot du milieu est tirée hors temps

B Spot 1 => 10 Spot 2=> 10 Spot 3 =>10 **10 10 M**
Une quatrième flèche est trouvée au sol – l’encoche de la flèche spot 1 est cassée



Une quatrième flèche est trouvée au sol – l’encoche de la flèche dans le spot 1 est cassée



NOM :

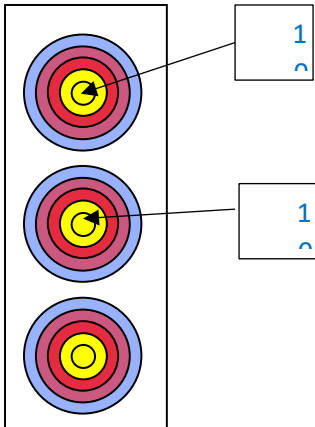
Prénom :

N° d'anonymat :

Page 4 sur 8

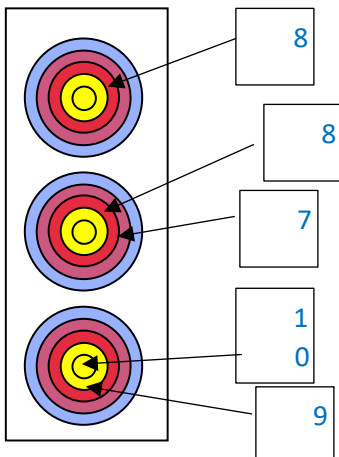
N° d'anonymat :

C Spot 1=> 10 Spot 2 => 10 Spot 3 pas de flèche 10 10 M
La troisième flèche est trouvée au sol – l'encoche de la flèche spot 2 est cassée



La troisième flèche est trouvée au sol – l'encoche de la flèche dans le spot 2 est cassée

D Spot 1 => 8 Spot 2 => 8, 7 Spot 3 => 10, 9 MMM
La dernière flèche a été tirée après le signal sonore



NOM :

Prénom :

N° d'anonymat :

Page 5 sur 8

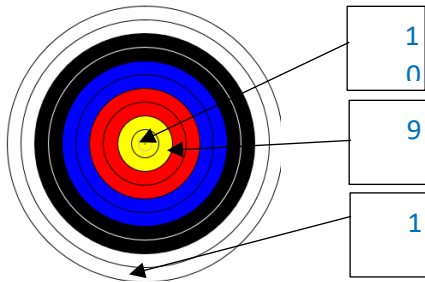
N° d'anonymat :

La dernière flèche a été tirée après le signal sonore

E Blason unique 10 9 1

10 9 1

L'encoche de la flèche 10 est cassée et les archers de la cible vous expliquent que la flèche au 1 a percuté celle du 10 avant de se planter en cible.



L'encoche de la flèche 10 est cassée et les archers de la cible vous expliquent que la flèche au 1 a percuté celle du 10 avant de se planter en cible.

Question 2 (45 points)

5 points par question

2.1 Un journaliste s'intéressant aux résultats publiés sur le tableau d'affichage aperçoit la liste nominative constituant le jury d'appel. Il vous interroge sur sa composition, son rôle et son fonctionnement : que lui répondez-vous ?

3+2suppléants saufs archers, arbitre de la compet, org et parents du resp arbitre

1 président

3 lors de l'examen de l'appel

Si contestation – par écrit jusqu'à 15m ou 5mn après un match si engage la progression– décision sans appel

Obligatoire à partir ch dpt

Ne concerne pas la valeur d'une flèche ou un carton jaune en tir par équipe

2.2 Quels sont les éléments que vous devez trouver sur un mandat (invitation) pour une compétition qualificative tir sur cibles extérieures avec duels ?

Club organisateur

Heure de la compétition – heure indicatives pour les duels éventuels - podiums

Heure et forme entraînement - Inspection matériel ?

Lieu de la compétition – prix

Type de compétition ou de catégories le cas échéant

Tenue

.....

2.3 Tracer dans le cadre ci-dessous les différentes lignes et couloirs pour un championnat Régional FITA avec duels. Indiquer les distances et tolérances éventuellement applicables.

Distances et tolérances



NOM :

Prénom :

N° d'anonymat :

Page 6 sur 8

N° d'anonymat :

Zone de repos des archers – ligne d'attente – couloir de presse – ligne de tir – ligne des 1m – ligne des 3m – boîtes pour coachs – couloirs éventuellement – ligne de cibles (aux différentes distances).

2.4 L'organisateur de la compétition que vous devez arbitrer lors du prochain week-end vous appelle et vous demande comment faire pour équarrer le terrain ? Que lui répondez-vous ?

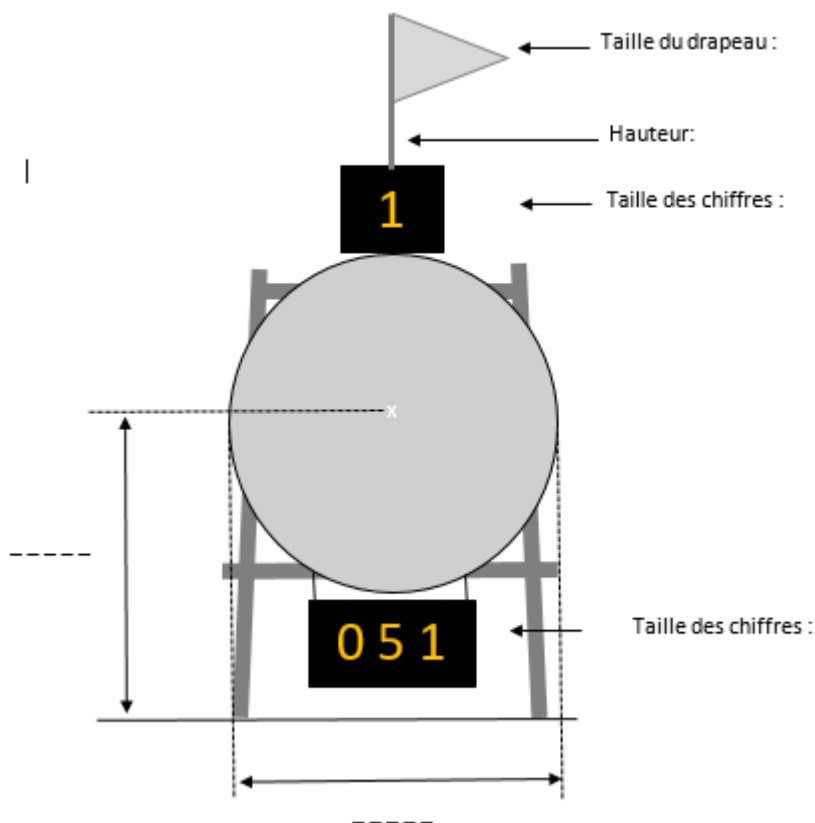
Théorème de Pythagore : méthode des 3 – 4 – 5

Il vous indique également qu'en parcourant le règlement il n'a vu aucune tolérance pour la ligne des 3 mètres et vous demande conseil pour tracer cette ligne. Que lui répondez-vous ?

La mesure doit être prise du milieu de la largeur de la ligne de tir au bord le plus éloigné de la ligne des 3m, la ligne des 3m faisant partie de la zone des 3m.

2.5 Coter les différents accessoires de la cible ci-dessous utilisée en tir extérieur.

Drapeau 25-30 ; Hauteur 40 au-dessus de la cible – N° cible 30 – Scoreur 25 – diamètre 124 – H 130+/-5



2.6 Lors d'une compétition dominicale TCE avec duels un archer vous appelle lors de l'épreuve de qualification. Une de ses flèches est plantée au-delà de la ligne des 3 mètres et il ne sait déterminer si l'aplomb de l'encoche dépasse la ligne ou pas.

Vous êtes l'arbitre : comment procéder vous dans tel cas ?

La situation est-elle identique lors du 1/8 finale de la même compétition ?



NOM :

Prénom :

N° d'anonymat :

Page 7 sur 8

N° d'anonymat :

- a- On vérifie en se mettant à l'aplomb après la volée – Si OK 40s pour tirer la flèche
- b- Non : pas d'incident – l'archer doit décider – l'arbitre vérifie depuis la position de l'archer sur la ligne de tir
- c- B.4.5.1 : l'arbitre dans son contrôle de près prend en considération le fait que le compétiteur doit être capable d'estimer la validité de son tir depuis la ligne de tir et, en cas de doute, que l'avantage sera donné au compétiteur.

2.7 Un archer et l'arbitre se rendent sur une cible pour constater une situation de rebond. Ils constatent que plusieurs impacts n'ont pas été marqués dont certains en zone non marquante. Quelle valeur donnez-vous à la flèche ayant rebondie ?

Valeur de l'impact non marqué le moins élevé en zone marquante

2.8 Donnez les différents temps alloués pour tirer une flèche lors d'une compétition en salle

- 3 flèches lors de l'épreuve qualificative
- 1 flèche sur incident de tir durant l'épreuve qualificative
- 1 flèche de barrage pour accéder aux phases éliminatoires (après l'épreuve de qualification)
- 3 flèches lors du ¼ finale (tir simultané)
- 1 flèche lors de la finale (tir alterné)

120 – 40 – 40 – 120 - 20

2.9 Lors de la 5° volée d'une épreuve de qualification l'archer de la cible 2A (déjà agité depuis le début de la compétition) fait un mouvement très large et déstabilise totalement son voisin en 2B. Ce dernier lâche sa flèche qui atterri dans l'herbe à une dizaine de mètres.

L'archer 2B vient vous voir et demande à retirer sa flèche. Il vous explique que cette situation étant de l'entière responsabilité de l'archer 2A, il ne comprendrait pas perdre la valeur d'une flèche qui de plus le priverait de podium.

Quelle est votre réponse ?

Au-delà de cette situation pouvez-vous expliquer les différents cas de figure où une flèche peut être considérée comme « non tirée » ?

Non

Zone des 3 mètres – blason ou cible tombée

Question 3 : 10 points

a- Quels sont les différentes actions que vous devez faire et points auxquels vous devez veiller avant une compétition pour laquelle vous venez d'être désigné comme arbitre.

b- Quelles sont les actions que vous devriez faire si vous deviez avoir un empêchement de dernière minute ?

a- (1 point par réponse)

En amont :

1. prendre connaissance de la convocation qui doit être adressée par l'organisateur aux arbitres.

Sur place :

2. effectuer toutes les vérifications nécessaires (terrain, distances, blasons) au bon déroulement du concours, en utilisant la liste du rapport d'arbitre ;



NOM :

Prénom :

N° d'anonymat :

Page 8 sur 8

N° d'anonymat :

3. prendre contact avec le responsable de l'équipe de terrain ;
4. s'assurer que le greffe contrôle bien la validité des licences, du passeport sportif et du certificat médical de chaque concurrent ;
5. contrôler l'affectation des cibles ;
6. contrôler l'installation des tireurs sur le terrain (tentes, parasols, arcs) ;
7. diriger l'échauffement, en concertation avec le directeur des tirs ;
8. contrôler la tenue vestimentaire des archers, le port correct du dossard.

b- (2 pts pour la réponse)

Informez le responsable et trouvez, en accord avec le PCRA, un remplaçant

