

EXAMEN ECRIT D'ARBITRE FEDERAL - Session 1-2018

OPTION CIBLES ANGLAISES

Madame, Mademoiselle, Monsieur

Cette épreuve concrétise les compétences relatives aux modules FITA/Salle/Fédéral acquises au cours de votre formation d'Arbitre Fédéral.

Si vous remplissez ce questionnaire c'est que vous êtes titulaire, outre du tronc commun, des modules VI, VII, VIII et XIII des formations d'Arbitres Fédéraux, félicitations et bon travail.

La C.N.A.

Pour répondre :

- Vous rendrez la liasse de feuilles support des questions après l'avoir complétée.
- Si les espaces dévolus aux réponses s'avéraient insuffisants vous utiliserez des feuilles blanches format A4, en repérant sans ambiguïté les questions auxquelles elles se rapportent.

Il est vivement conseillé d'éviter de rendre un travail réalisé au crayon à papier et merci de penser aux correcteurs et d'écrire lisiblement (une copie illisible ne sera pas corrigée)

Vos NOM et PRENOM doivent être portés, au moins sur la première feuille réponse si l'ensemble est agrafé, sur toutes les feuilles s'il existe un risque de dissociation de la liasse.

N'écrivez pas dans les 4cm supérieurs de vos feuilles personnelles d'autres éléments que vos NOM, Prénom et n'écrivez pas non plus sur les 4 cm supérieurs au dos des feuilles. Ces 4 cm sont détachés de la copie au moment de l'anonymisation.

Les épreuves devant être "anonymes", il ne pourra être toléré de signes distinctifs apposés par le candidat arbitre sur l'une quelconque d'entre-elles.

Le temps alloué pour l'épreuve est de deux heures : 2h

IMPORTANT

Les questions sont au nombre de 3 :

- question 1 notée sur 45 points
 - question 2 notée sur 45 points
 - question 3 (commune à toutes les options) notée sur 10 points
- soit un total maximum de 100 points

Toute non réponse à une question ou à une sous question est éliminatoire

Pour être admis, le candidat devra obtenir un minimum de 70 points, correspondant à 14/20

Question 1 (45 points)

1. Départage des égalités (6 points)

2 points par question

Le championnat départemental en salle pour lequel vous avez été désigné comme arbitre se déroule avec des duels individuels. Pour la catégorie SH arc classique on retiendra 16 archers pour ces duels

A l'issue du tir qualificatif :

- trois archers sont à égalité de points avec 512 points à la 16^e place (*ils sont respectivement 16^e 17^e et 18^e avec le même nombre de points*). Expliquer comment vous allez départager ces trois archers ?
- Deux archers sont à égalité de points avec 553 points pour la 1^e place. Expliquer comment vous allez départager **ces deux archers** ?
- Lors du 1/8 de finale, à l'issue du 5^e set, deux archers en match sont à égalité 5-5. Expliquer comment vous allez départager ces deux archers ?

1. Incidents en compétition (6 points)

1 point pour les questions 1 à 3

3 points pour la dernière question

Lors de la 3^e volée d'un tir sur cible extérieur à 70m, un archer vétérans arc classique vous appelle depuis sa position sur le pas de tir pour vous informer que son repose flèche s'est cassé

Pouvez-vous lui accorder une procédure d'incident de tir, et si oui de combien de temps disposera alors l'archer pour résoudre son problème ?

Un peu plus tard dans la compétition un autre archer vous informe qu'il s'est blessé et qu'il saigne et doit interrompre le tir. Pouvez-vous appliquer la même procédure ? (si oui quel délai dispose l'archer pour se soigner) ?

Ces procédures d'incident sont-elles possibles lors des phases finales d'une compétition ?

Dans le cas où vous êtes amené à accorder un incident de tir à un archer, expliquer la procédure que vous devrez suivre : à partir de quand le temps supplémentaire est-il accordé et comment vous déterminez le nombre de flèches à rattraper ?

1. **Tir handisport (4 points)**

1 point par bonne réponse

Un archer est-il autorisé à participer à une compétition inscrite au calendrier de la FFTA, s'il est uniquement licencié à la Fédération Française Handisport ?

Certaines catégories de handicaps visuels sont autorisées à utiliser une potence en guise de viseur. Lors d'une compétition, l'organisateur soucieux de préserver une ligne de tir libre de tout obstacle déplace par erreur cette potence après la 1^o volée marquante et la ramène dans la zone du matériel.

Etes-vous autorisé à donner une ou deux nouvelles volées de réglage à cet archer ?

En salle, Un archer en fauteuil peut-il demander à ce que son blason soit positionné plus bas que la position prévue par le règlement ?

Un archer à mobilité réduite est-il autorisé à disposer d'un agent pour aller à sa place aux cibles ?

1. **Blasons et catégories (4points)**

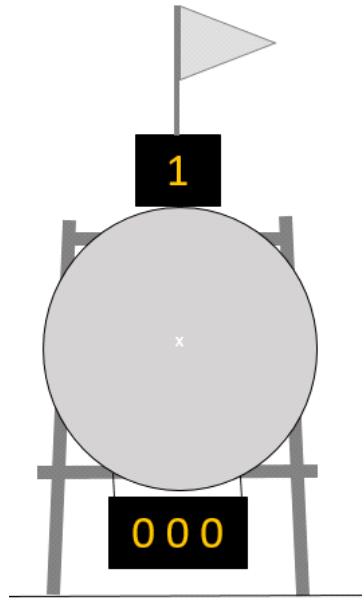
1 point pour les questions 1 & 2

2 points pour la question 3

Lors des matchs par équipe d'une épreuve de championnat départemental Arc à poulies :

Quel type et taille de blasons est à utiliser ?

Merci de les positionner sur la cible ci-dessous



Préciser comment les 3 archers de l'équipe doivent utiliser les blasons pour tirer leurs 6 flèches?

1. Valeurs des flèches (25 points)

Pour chacune des 5 situations suivantes, donnez la valeur des flèches et de la volée en expliquant comment vous avez procédé. Une valorisation non justifiée sera considérée comme non valable.

Cas °1 Deux flèches dans le Spot du haut (9 et 8)
Pas de flèche dans le spot du milieu
Deux flèches dans le Spot du haut (10 et 10)

Cas n°2 Une flèche au 10 dans chacun des spots

Une quatrième et une cinquième flèche du même archer sont trouvées dans le 9 et le 10 d'un blason de la cible d'à côté.

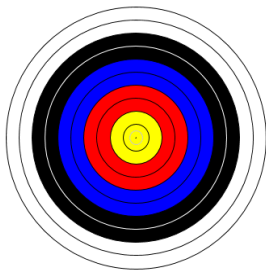
C Mécontent d'avoir tiré une mauvaise flèche (le M) l'archer tire une nouvelle flèche après le signal sonore qui va se planter au 6 du spot du milieu

D 3 flèches en cible

L'archer vous explique que la 4^e flèche plantée dans le pied du chevalet et cachée par un filet de protection est une flèche perdue lors de l'entraînement (non signalé à ce moment-là)

E Blason unique 10 9 5

Une flèche trouvée au sol a été tirée hors temps et a percuté le 10



Question 2 (45 points)

- **Flèches**

5 points (1 par élément de réponse)

Citer les éléments que vous pouvez être amenés à vérifier sur les flèches d'un archer lors du contrôle de matériel d'une compétition.

- **Retard d'un archer**

5 points (1 par élément de réponse)

Vous arbitrez une compétition en salle 2x18m suivi de phases éliminatoires et finales.
Le tir de qualification est prévu le matin. Les duels sont prévus l'après-midi à partir de 14h c'est à dire après une pause déjeuner.

Un archer arrive largement en retard sur le terrain de compétition. Il se présente à vous et demande à pouvoir rattraper le nombre de flèches tirées par les autres archers avant son arrivée.

Il demande également à pouvoir bénéficier de 20mn d'échauffement car le règlement stipule que c'est le temps minimal d'entraînement qu'il lui est autorisé.

Que lui répondez-vous ?

Le tir du matin s'étant terminé à 11h30 et le terrain étant prêt pour les duels, l'équipe d'arbitres ne souhaite pas attendre 14h pour poursuivre la compétition.

Toutefois un groupe d'archer a quitté le terrain pour aller déjeuner au restaurant.

Etes-vous autorisé à démarrer les duels sans attendre 14h et ce groupe d'archers ?

Si oui dans quelles conditions ?

Si non, quelle précautions auriez-vous du prendre pour avoir la possibilité de démarrer plus tôt ?

2.3 Tir

2 points + 3 points

Lors d'une compétition un archer est-il autorisé à tirer à nouveau si une de ses flèches est déviée par une raison totalement indépendante de l'archer ?

Préciser s'il existe des cas où, une flèche pourrait être considérée comme non tirée ?

2.4 Rebond

5 points

Lors d'une compétition de tir sur cibles extérieures, deux minimes tirent sur la même cible. Lors de la 1^o volée marquante, l'archer A subit un rebond sur une de ses flèches. Il ne vous en averti pas et continue à tirer.

Lorsque l'archer B tire sa dernière flèche il est lui aussi victime d'un rebond.

En arrivant en cible pour compter les points, les deux archers vous appellent pour résoudre la situation. Vous trouvez deux flèches (un pour chaque archer au pied de la cible) et deux impacts non cochés : Un 5 et un 6.


- Quelle valeur donnez-vous à la flèche ayant rebondi pour l'archer A ?
- Quelle valeur donnez-vous à la flèche ayant rebondi pour l'archer B ?
- Justifier votre décision

• Blasons trispots en salle


5 points

Implanter sur la cible ci-dessous 4 blasons tri spots pour un tir de qualification lors d'une épreuve en salle à 18m

Préciser la hauteur des ors, et l'écartement entre les blasons



Indiquer si la configuration ci-dessous est possible en salle à 18m – Si oui dans quelle circonstance ?



- **Tirs des poussins**

Les archers poussins sont-ils autorisés à participer à des compétitions officielles en salle et en extérieur ?

Si oui préciser à quelles conditions.

- **Abandon d'un archer**

Un archer décide d'abandonner après la 11^e volée de la phase de qualification d'une compétition sur cibles extérieures (sans duels)

Malgré cet abandon, le score établi le place sur le podium.

Peut-il prétendre à ce podium ou doit-il être considéré comme non classé car il n'a pas terminé la compétition

