

NOM :

Prénom :

N° d'anonymat :

Page 1 sur 10

N° d'anonymat :

EXAMEN ÉCRIT D'ARBITRE FÉDÉRAL - Session 2-2018 OPTION CIBLES ANGLAISES

Madame, Mademoiselle, Monsieur

Cette épreuve concrétise les compétences relatives aux modules FITA/Salle/Fédéral acquises au cours de votre formation d'Arbitre Fédéral.

Si vous remplissez ce questionnaire c'est que vous êtes titulaire, outre du tronc commun, des modules VI, VII, VIII et XIII des formations d'Arbitres Fédéraux, félicitations et bon travail.

La C.N.A.

Pour répondre :

- Vous rendrez la liasse de feuilles support des questions après l'avoir complétée.
- Si les espaces dévolus aux réponses s'avéraient insuffisants vous utiliserez des feuilles blanches format A4, en repérant sans ambiguïté les questions auxquelles elles se rapportent.

Il est vivement conseillé d'éviter de rendre un travail réalisé au crayon à papier et merci de penser aux correcteurs et d'écrire lisiblement (une copie illisible ne sera pas corrigée)

Vos NOM et PRÉNOM doivent être portés, au moins sur la première feuille réponse si l'ensemble est agrafé, sur toutes les feuilles s'il existe un risque de dissociation de la liasse.

N'ÉCRIVEZ PAS DANS LES 4CM SUPÉRIEURS DE VOS FEUILLES PERSONNELLES D'AUTRES ÉLÉMENTS QUE VOS NOM, PRÉNOM ET N'ÉCRIVEZ PAS NON PLUS SUR LES 4 CM SUPÉRIEURS AU DOS DES FEUILLES. CES 4 CM SONT DÉTACHÉS DE LA COPIE AU MOMENT DE L'ANONYMISATION.

Les épreuves devant être "anonymes", il ne pourra être toléré de signes distinctifs apposés par le candidat arbitre sur l'une quelconque d'entre-elles.

Le temps alloué pour l'épreuve est de deux heures : 2h

IMPORTANT

Toute non réponse à une question ou à une sous question est éliminatoire

Pour être admis, le candidat devra obtenir un minimum de 70 points, correspondant à 14/20

NOM :

Prénom :

N° d'anonymat :

Page 2 sur 10

N° d'anonymat :

Question 1 : (3 Points)

Lors d'un Championnat Régional de Tir sur Cibles Extérieures, un archer vient vous voir car il veut porter réclamation. D'après lui, le greffe a commis une erreur car il a qualifié un concurrent en 16ème de finale alors que celui-ci s'est arrêté de tirer à la 2ème volée de la 2ème série. Quelle sera votre décision ?

Question 2 : (2 Points)

Pendant l'entraînement d'un Championnat Départemental Fédéral Arcs à Poulies, un archer situé en A se plaint que l'archer B bénéficie de la présence de son coach à ses côtés et que ce dernier lui donne des conseils.

Que répondez-vous à cet archer ?

Question 3 : (10 Points)

Pour la 1ère fois, vous êtes nommé arbitre responsable d'une compétition salle, sélective au Championnat de France. Afin de ne rien oublier, vous rédigez une liste de vos principales obligations en tant que responsable de la commission arbitrale avant, pendant et après la compétition. (4 points par étape).

Attention : Pour l'attribution des 10 points, la liste entière du règlement n'est pas obligatoire.

NOM :

Prénom :

N° d'anonymat :

Page 3 sur 10

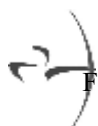
N° d'anonymat :

Question 4 : (2 Points)

Un archer vous informe qu'il veut déposer une réclamation auprès du Jury d'appel car un des arbitres de la compétition, appelé pour juger un cordon, lui a attribué un « 9 » alors que c'était un « 10 », le 3ème archer en est lui aussi convaincu. Que lui répondez-vous ?

Question 5: (3 Points)

Sur un Championnat Régional par équipes, un arbitre nouvellement reçu à son examen vient vous demander conseil. Il s'est rendu compte que les 3 archers d'une équipe sont en tee-shirts rouge et bleu avec pantalon blanc et que le coach a bien le même tee-shirt mais il a un pantalon bleu rayé de rouge (soi-disant la tenue de son club). Quelle réponse allez-vous lui donner ?



NOM :

Prénom :

N° d'anonymat :


Page 4 sur 10

N° d'anonymat :

Question 6: (6 Points)

Configurez la cible ci-dessous pour une compétition sur cibles extérieures arcs à poulies, rythme ABC, règlement français (hauteur, écartement, taille des blasons). Puis pour un tir de barrage entre 2 archers. (3 points par cible).

RYTHME ABC



BARRAGE



Question 7 : (3 Points)

Lors d'une volée un archer a été gêné par son voisin qui de par un mouvement brusque a cogné son arc au moment de la décoche , sa flèches a donc atterrie dans l'herbe. Cet archer vient vous voir pour vous expliquer la situation et vous demande à retirer cette flèche . Que faites-vous par rapport à cette demande ?

NOM :

Prénom :

N° d'anonymat :

Page 5 sur 10

N° d'anonymat :

Question 8 : (25 Points)

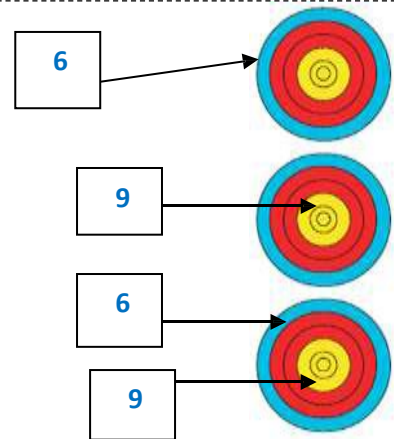
Quelle est la valeur des volées ci-dessous ? Pour chacune des 5 situations suivantes, donnez la valeur des flèches et de la volée en expliquant comment vous avez procédé. Une valorisation non justifiée sera considérée comme non valable.

Pour chaque situation, expliquez comment vous allez valoriser cette volée.

(Une valorisation non expliquée sera considérée comme non valable)

Situation 1

La flèche dans le 9 en bas a été tirée hors temps.



NOM :

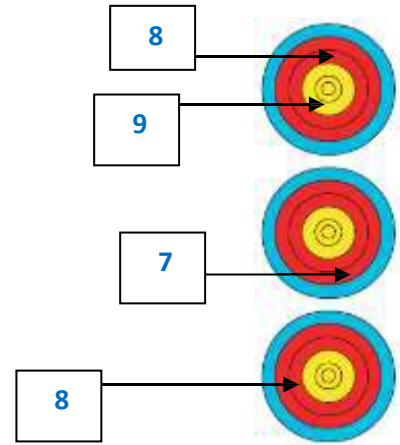
Prénom :

N° d'anonymat :

Page 6 sur 10

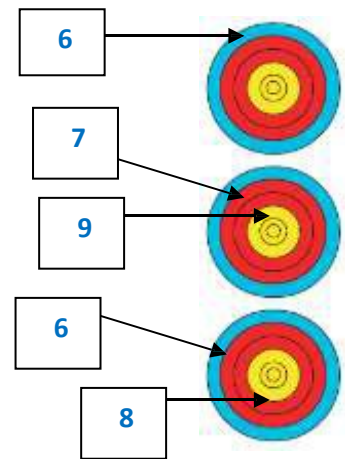
N° d'anonymat :

Situation 2



Situation 3

La flèche dans le 9 a été tirée avant le signal sonore de début de volée.



NOM :

Prénom :

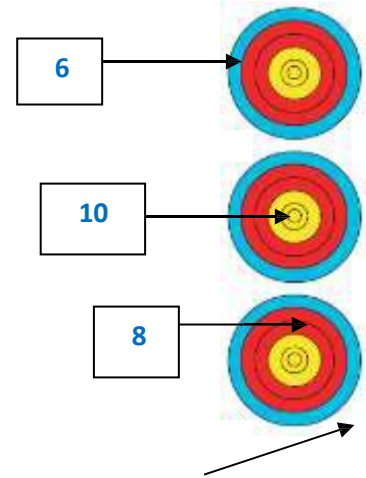
N° d'anonymat :

Page 7 sur 10

N° d'anonymat :

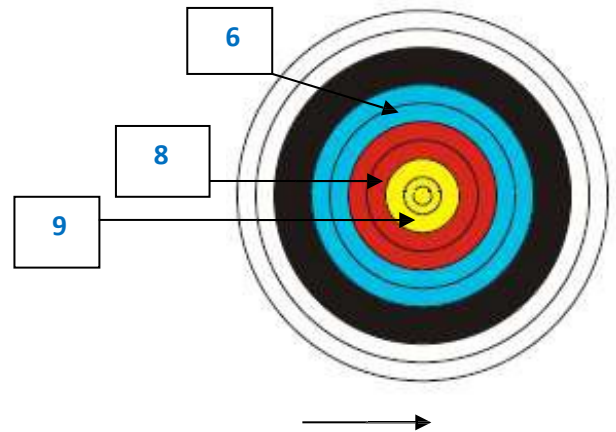
Situation 4

La flèche en bas a percuté le 8 avant de se planter hors zone



Situation 5

La flèche en bas a été tirée hors temps, a percuté le 9 puis s'est plantée hors zone.



NOM :

Prénom :

N° d'anonymat :

Page 8 sur 10

N° d'anonymat :

Question 9 : (5 Points)

Lors d'une compétition en salle, sélective pour le Championnat de France, une archère en fauteuil roulant vous dit que le positionnement qu'on lui a donné en cible 4 ne lui convient pas et demande qu'on lui accorde un espace de 120 cm sur le pas de tir pour lui permettre de placer son fauteuil. Que faites-vous ?

Question 10 : (4 Points)

Vous arbitrez une compétition en salle, l'archer B de la cible 12 qui tire avec un arc à poulies vous appelle car l'archer A à côté de lui s'est trompé de cible et a tiré dans son spot du milieu dans la zone 10. Il vous dit que ça le gêne pour tirer sa 3ème flèche , que faites-vous ?

Question 11 : (4 Points)

Vous êtes responsable d'une compétition TCE , suite à un problème automobile vous arrivez sur le terrain 5 minutes après le début de l'entraînement. Le pas de tir est complet, l'arbitre du club que vous aviez autorisé à commencer en vous attendant semble bien se débrouiller, mais en observant le terrain vous vous apercevez que la ligne des 3 mètres n'est pas tracée. Que décidez-vous ?

Question 12 : (8 Points)

- 1- Expliquez le déroulement des phases finales d'un tournoi individuel pour les arcs classiques.
- 2- Le déroulement d'un tournoi par équipes pour les arcs classiques est-il le même – sinon expliquer les différences.

NOM :

Prénom :

N° d'anonymat :

Page 9 sur 10

N° d'anonymat :

Question 13 : (4 Points)

Quelles sont les catégories d'armes autorisées pour une compétition sélective en salle. Pour chacune de ces catégories indiquer les catégories d'âge ouvertes à la compétition ?

Question 14 : (5 Points)

Lors d'un tir par équipes en Division Régionale, un archer franchit la ligne de 1m avec sa flèche sur l'arc. L'arbitre brandit le carton jaune en indiquant clairement au coach la nature de l'infraction, mais l'archer tire quand même ses deux flèches. Quelle doit être la réaction de l'arbitre ?

Question 15 : (3 Points)

Sur un Championnat Départemental en salle que vous arbitrez, suite au tir qualificatif, deux archers sont à égalité au cut prévu (16ème). Comment désignez-vous l'archer qui tirera les épreuves éliminatoires, sachant que L'archer B a plus de 10 que l'archer A?

NOM :

Prénom :

N° d'anonymat :

Page 10 sur 10

N° d'anonymat :

Question 16 : (3 Points)

Sur une compétition TCE individuelle avec une phase finale tir alterné : qui commence à chaque set (arc classique) ?

Question 17 commune à toutes les options (10 points)

Un archer Poussin de votre club souhaite faire des compétitions officielles. Ses parents viennent vous demander des informations sur les possibilités et les conditions dans lesquelles il y peut participer.