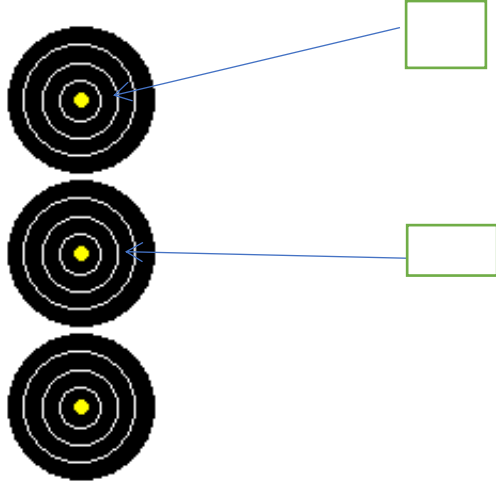


--	--	--	--	--

5) Donnez et expliquez les valeurs des volées suivantes :

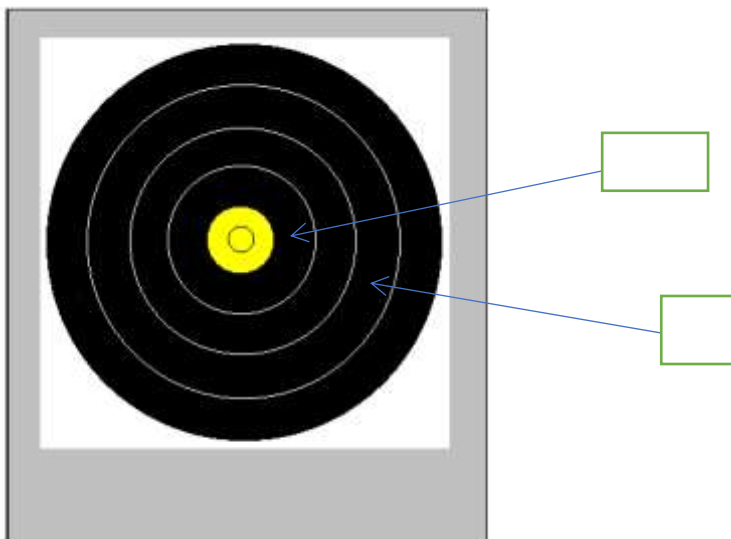
A) 5 points



La troisième flèche a heurté la flèche dans le 4 et s'est plantée dans le sol, la deuxième flèche est plantée dans le 2.



B) 5 points



Même cas de figure que précédemment, la troisième flèche a heurté la flèche dans le 4 avant de se planter dans le sol, la deuxième flèche est un 2.

6)Rappelez la procédure que vous mettez en place alors qu'après avoir contrôlé le temps de tir d'un archer, vous constatez qu'il a mis 3 minutes et 20 secondes et que c'est son premier dépassement de temps. (8 points)

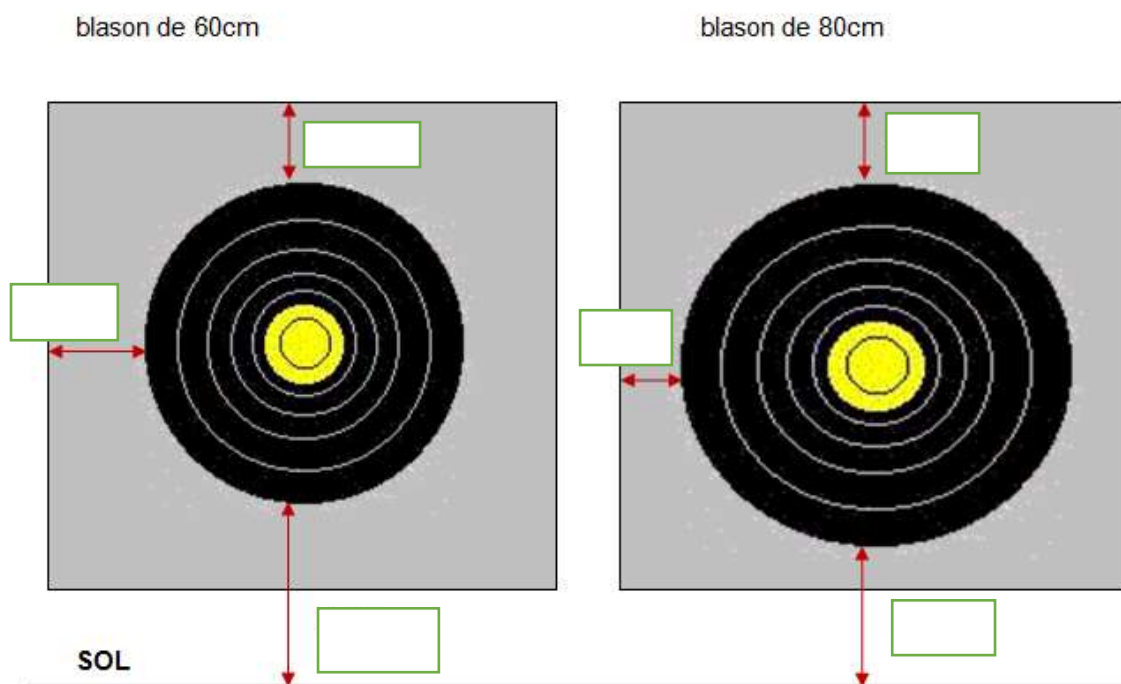
7) Un peloton arrive sur un « birdy », cibles de 20 cm, où vous êtes en poste pour chronométrer. Le premier binôme tire dans les colonnes 2 et 4, après leurs tirs, le second binôme s'avance sur le pas de tir et tire dans les colonnes 1 et 3. Que faites-vous ? (6 points)

8) Répondez par Vrai ou Faux. (18 points)

	V	F
On peut rencontrer des pelotons de 5 archers.		
Les piquets orange pour les benjamins sont obligatoires pour les cibles de 60 et 80 cm.		
Il peut y avoir des équipes mixtes lors du championnat de France par équipe.		
En demi-finale un archer peut invoquer un incident de tir et demander 30 minutes pour réparer son arc.		
Un archer peut tirer à 0.80 mètre à droite du piquet.		
Un téléphone portable peut être utilisé comme appareil photo.		
Un junior arc classique tir au piquet rouge.		
En distances connues la distance maximum de tir pour les arcs classiques est de 65m.		
Un archer qui tire avec un arc nu a 4 minutes pour tirer ses 3 flèches.		
Un archer qui est fatigué peut tirer assis.		
Une protection de type A4 contre le soleil est autorisée lors d'un concours dominical.		
Le départage des égalités lors d'un concours dominical, se fait au nombre de 6 puis de 5.		
Un archer doit tirer les mêmes flèches sur une cible.		
La tolérance pour les distances supérieures à 15 mètres est de +/- 1,50m.		
Le temps de tir d'une équipe est de 9 minutes pour 9 flèches.		
Un concours valable pour le classement national comprend 24 cibles connues ou 24 cibles inconnues.		
Un archer peut prendre un autre arc si le sien est cassé.		
Sur une cible de 40 cm, les 2 premiers archers du peloton tirent dans la colonne de gauche.		
On peut rencontrer des longbow tirant au piquet blanc.		
Les marques de fabrique sur la fenêtre d'arc faisant face à l'archer sont autorisées en arc nu.		

9) Rappelez les règles de départage en cas d'égalité de points entre deux concurrents sur un concours dominical. (5points)

10) Portez sur les dessins suivants les dimensions manquantes. (5 points)



Commentaire(s) éventuel(s) :

11) Ce modèle de scope est 'il autorisé sur les parcours de tir en campagne (1 point)

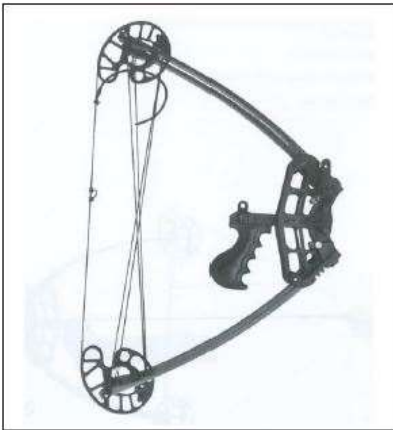


1) OUI

2) NON

Rayez la mention
inutile

12) L'overdraw de cet arc pistolet à poulies doit être : (1 point)



1) 4 centimètres

2) 5 centimètres

3) 6 centimètres

Rayez les mentions
inutiles.

13) une compétition qui a lieu dans sa dix-septième année l'archer sera classé en : (1 point)

cadet

junior

14) Seuls les séniors 1 et 2 disputent des finales aux championnats de France campagne. (1 point)

non

oui