

## EXAMEN AVRIL 2019 – CIBLES ANGLAISES

### Question 1 : (5 Points)

Quelles sont les catégories officielles utilisées lors des classements des championnats régionaux de tir en salle ?

### Question 2 : (10 Points)

A l'aide d'un tableau, donnez la liste des blasons utilisés lors d'un Championnat Régional en tir en salle (indiquez l'arme, la catégorie, la distance et la taille du blason).

### Question 3 : (5 Points)

Pendant la pause entre les 2 séries d'un concours départemental en salle, vous remarquez un archer qui s'avance sur le pas de tir et tire une flèche. Lorsque vous l'interpellez, il vous répond qu'il a eu un problème avec son clicker dans la 1<sup>ère</sup> série et qu'il voulait le régler. Quelle sera votre réaction ?

**Question 4 : (4 Points)**

Sur un Championnat Départemental avec phases finales, alors que le DOS vient de donner les 2 signaux sonores du match de quart de finale, un archer vous fait signe qu'il se retrouve seul sur le pas de tir. Que décidez-vous ?

**Question 5: (6 Points)**

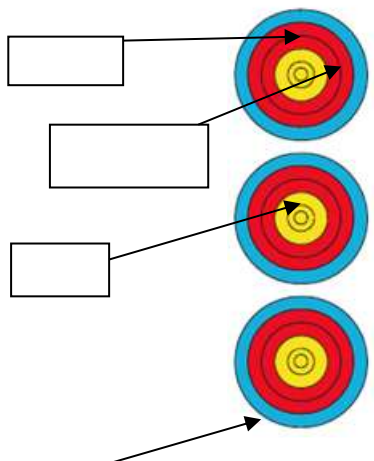
Sur un Championnat Régional, au cours d'un barrage entre 2 minimes, vous vous apercevez en arrivant aux cibles que l'archer A a fait un 10 dans le spot du haut et l'archer B a fait un 9 dans le spot du bas, quel sera votre jugement ?

**Question 6 : (25 Points)**

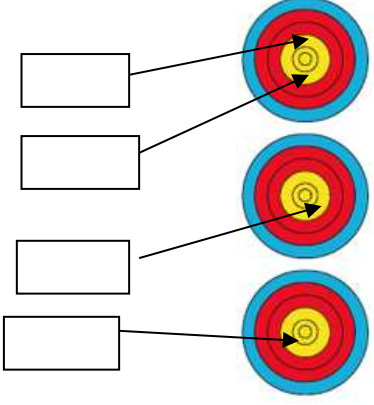
Quelle est la valeur des volées ci-dessous ? Pour chacune des 5 situations suivantes, donnez la valeur des flèches et de la volée en expliquant comment vous avez procédé.

**Attention : Une valorisation non justifiée sera considérée comme non valable.**

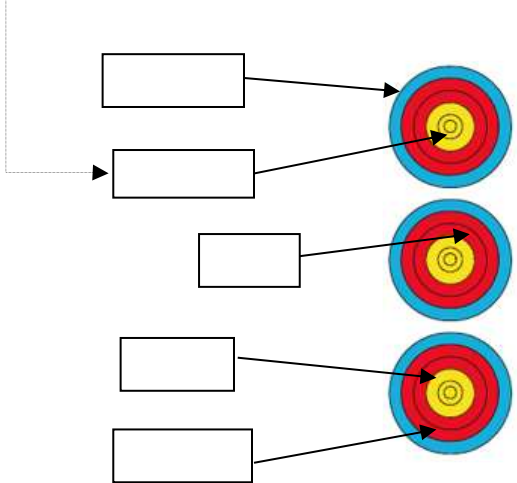
**Situation 1** (5 points)

 <p>Cette flèche a été tirée hors temps et s'est plantée hors zone</p>	<p>Valeur de la volée :</p>
---	-----------------------------

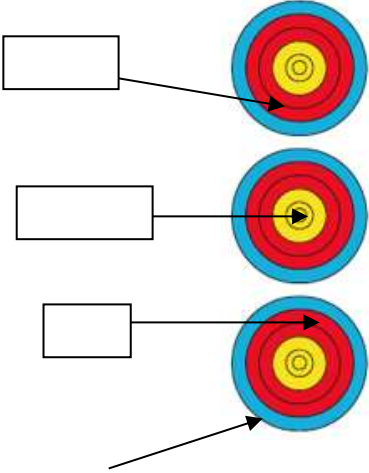
**Situation 2** (5 points)

	<p>Valeur de la volée :</p>
--	-----------------------------

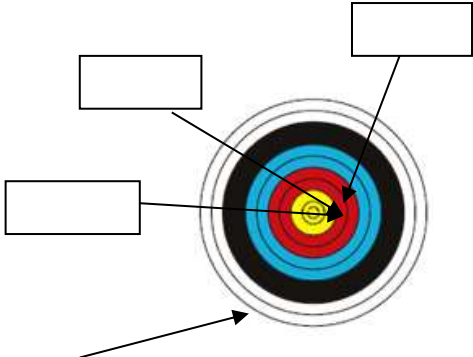
**Situation 3** (5 points)

<p>Cette flèche a été tirée avant le signal sonore</p> 	<p>Valeur de la volée :</p>
--	-----------------------------

**Situation 4** (5 points)

 <p>Cette flèche a percuté le 8 avant de se planter hors zone</p>	<p>Valeur de la volée :</p>
--	-----------------------------

**Situation 5** (5 points)

 <p>Cette flèche a été tirée hors temps et a percuté un 10 avant de se planter hors zone</p>	<p>Valeur de la volée</p>
--	---------------------------

**Question 7 : (5 Points)**

7-1. Dans le tir à l'arc extérieur (TAE), il existe une catégorie « Débutant ». Quelle est la spécificité de cette catégorie ?

**(2 Points)**

7-2. A l'aide d'un tableau, indiquez quelles sont les catégories, la distance et le blason spécifiques à cette catégorie « Débutant ».

**(3 Points)**

**Question 8 : (5 Points)**

Lors d'un concours TAE dominical, sélectif pour le Championnat de France, un archer vous dit qu'il possède la licence FFTA et FFH et vous demande la possibilité de tirer assis sur un tabouret. Que lui répondez-vous ?

**Question 9 : (3 Points)**

Vous arbitrez une compétition TAE et vous vous apercevez en montant aux cibles qu'un archer porte de discrets écouteurs reliés à son smartphone. Vous l'interpellez et il vous explique que c'est simplement pour s'isoler des bruits parasites environnants durant le tir et notamment de la musique diffusée par l'organisation. Que faites-vous ?

**Question 10 : (3 Points)**

Vous êtes responsable d'une manche de DRE. Suite aux tirs de qualifications, un capitaine d'équipe vous annonce qu'il souhaite apporter une modification dans son équipe pour les matches par équipes qui débiteront dans un peu plus d'une heure.

Son quatrième archer qui ne pouvait pas être présent lors du tir de qualification pour raison professionnelle vient d'arriver sur le terrain et il souhaite l'intégrer comme remplaçant au cas où un autre archer aurait un souci lors des matches. Il ne tirera donc que si un des 3 autres archers rencontre un souci.

Que lui répondez-vous ?

**Question 11 : (4 Points)**

Lors des phases éliminatoires d'un championnat départemental TAE, un archer vous signale que sa 2<sup>ème</sup> flèche qu'il vient de tirer a mal percuté la cible et s'y retrouve pendue. Que décidez-vous ?

**Question 12 : (15 Points)**

Donnez les dimensions et les noms des différentes lignes ou zones du terrain TAE, rythme ABC suivi de tir par équipes dessiné ci-après.

**- Question 3 : Suggestion de question commune à toutes les options (10 points)**

Quels sont les principaux éléments à respecter

- Lors de la composition d'un jury d'appel
- Lorsque ce dernier est amené à se réunir
- Quant à la procédure d'appel et quant à la décision prise par le jury d'appel

(1 point par élément présenté)

