

OPTIONS CIBLES

**QUESTION 1 : 10 points**

**1-1** Lors d'un Championnat Départemental en salle, un archer arc classique vous fait remarquer que les blasons sont des monospots de 40 cm et donc qu'il y a une erreur. Que lui répondez-vous ? (2 pts)

*A.7.1.3 : Lors des championnats régionaux et des championnats départementaux en salle, il est souhaitable que le règlement du Championnat de France concernant les blasons à utiliser soit appliqué (trispots), les régions et les départements restant libres de leur choix.*

**1-2** Lors d'un Championnat Régional individuel de tir en salle, en quoi consiste l'épreuve éliminatoire pour les arcs classiques ? (2 pts)

*A.7.5.1 : Pour les arcs classiques  
L'épreuve éliminatoire dans laquelle les 32 meilleurs archers sont positionnés en fonction de leurs résultats obtenus lors de l'épreuve de qualification. Ils tirent une série de matchs. Chaque match se tire au meilleur des 5 sets de 3 flèches.*

**1-3** Y a-t-il une différence pour les arcs à poulies ? (2 pts)

*A.7.5.2 : Ils tirent une série de matchs en duels. Chaque match se tire en 5 volées de 3 flèches (score cumulé aux points et non pas en sets).*

**1-4** Le signal d'arrêt des tirs retentit avant la fin du temps de tir réglementaire alors qu'un archer n'a pas fini de tirer sa dernière flèche. Le DOS avoue avoir été gêné par un photographe.

\* Que faites-vous dans ce cas-là ? (2 pts)

\* Que faites-vous dans le cas où l'archer surpris par le signal sonore lâche sa flèche et fait une paille? (2pts)

*Il est du ressort du DOS de bien vérifier que le pas de tir est entièrement dégagé avant de siffler la fin de la volée (surtout avant le temps imparti).*

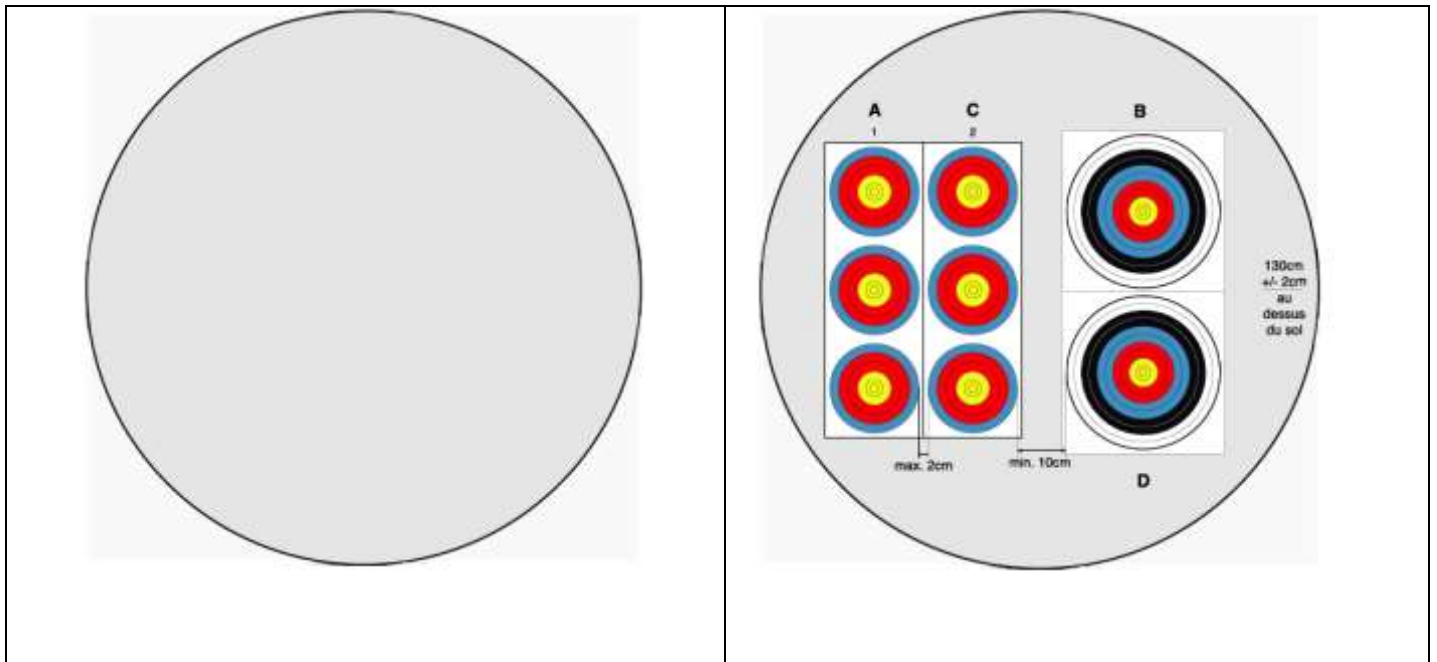
*- Dans le 1er cas j'accorde 40" à l'archer pour tirer sa 3ème flèche*

*- Dans le cas n°2, je lui réponds que je suis désolé pour lui mais que je ne peux l'autoriser à retirer sa flèche car le règlement dit qu'une flèche ne peut être tirée à nouveau sous aucun prétexte (sauf tombée dans la zone des 3 m ou que le blason se décroche ou que la cible tombe.).B.4.5.1*

**QUESTION 2 : 12 points**

**2-1** Lors d'un concours dominical, l'équipe organisatrice vous explique que sur le départ 2, rythme AB/CD, ils se retrouvent sur une même cible avec 2 arcs compounds et 1 arc classique.

Dessinez la mise en place des blasons et indiquez les mesures qui s'y rapportent (hauteur blasons, écartement...). (6 pts)



**2-2** A l'issue d'un Championnat Départemental salle, deux archers se retrouvent à égalité de points. Comment les départagez-vous dans le cas :

- d'un concours sans finales ? (3 pts)
- pour entrer dans l'épreuve éliminatoire ? (3 pts)

**B.6.5.1**

\* plus grand nombre de 10 ;

\* plus grand nombre de 9

\* si l'égalité subsiste, les compétiteurs sont déclarés *ex-æquo*.

\* Mais pour des raisons de classement, par exemple la position dans le tableau des matchs de l'épreuve éliminatoire, un tirage au sort décidera de la place.

**2-3** Lors du Championnat Régional en salle, un archer vous appelle à la saisie des scores de la troisième volée, un des archers de sa cible vient pour la troisième fois d'enlever ses flèches avant que les marqueurs aient pu vérifier leurs valeurs. Que faites-vous ? (2 pts)

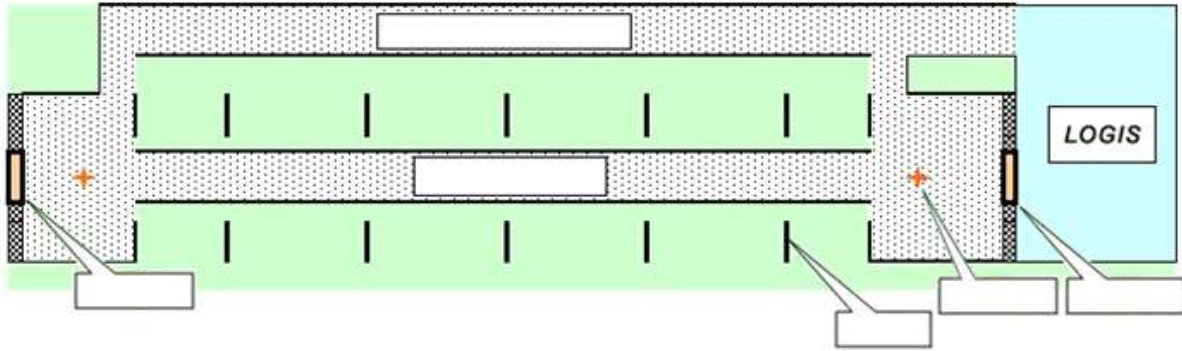
*B.6.1.3 Les marqueurs devront inscrire la valeur des flèches sur les feuilles de marque dans l'ordre décroissant, selon les indications de l'archer (ou de son agent) à qui appartient les lèches. Les autres archers de la cible devront vérifier la valeur de chaque flèche annoncée et, en cas de désaccord, appeler l'arbitre qui prendra la décision finale.*

*B.8.1.8.3 : J'informe l'archer fautif que sa démarche n'est pas réglementaire.*

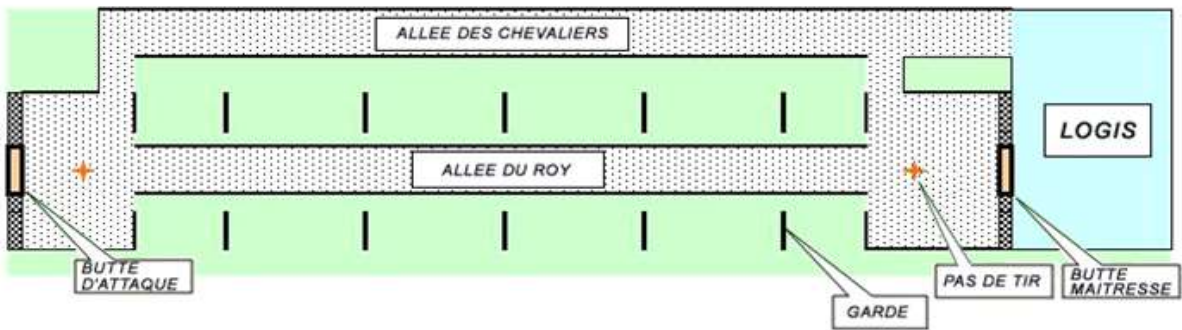
*Les flèches retirées de la cible avant confirmation des scores par les marqueurs seront donc marquées M (manquées). A la prochaine répétition, cette infraction aura pour conséquence la disqualification de l'archer.*

**QUESTION 3 : BEURSAULT - 16 points**

**3-1** Donner les noms des différents éléments de ce Beursault. (6 pts)



Réponse :



3-2 Un seul choix par question (10 pts : 0,5 pt par bonne réponse)

N°	Enumération	oui	non
1	La distance entre deux buttes de tir au beursault est de 60 mètres		
2	Le marmot de la cible du bouquet a un diamètre de 62 millimètres		
3	Une flèche dans le 3 correspond à un chapelet		
4	Les pelotons sont de 5 archers		
5	On appelle halte 1 aller et 1 retour		
6	Les archers doivent tirer à cheval sur la ligne		
7	Le temps imparti pour tirer une flèche ne doit pas excéder 60 secondes		
8	En cas d'incident matériel l'archer a 30 minutes pour réparer		
9	Si égalité, le départage se fait au plus grand nombre de 4 et 3		
10	Si une flèche atteint le marmot après avoir ricoché elle compte 4 points		
11	Les cadets arc droit tirent à 30 mètres		
12	En arc droit seules les flèches en bois ou en bambou sont autorisées		
13	Il faut tirer la flèche baguée 1 sur la butte d'attaque et celle baguée 2 sur la butte maitresse		
14	Le centre de la carte sera à 1 mètre du sol		
15	Le beursault est un tir sélectif au championnat de France		
16	Le temps pour une flèche de barrage est de 30 secondes en beursault		
17	Les archers tirent 20 haltes		
18	Il y a 45 minutes d'échauffement avant le début du tir		
19	Les archers sont autorisés à utiliser les jumelles		
20	L'honneur, le chapelet, le noir sont les zones de score de la carte beursault		

### Réponse :

N°	Enumération	oui	non
1	La distance entre deux buttes de tir au beursault est de 60 mètres		x
2	Le marmot de la cible du bouquet a un diamètre de 62 millimètres		x
3	Une flèche dans le 3 correspond à un chapelet	x	
4	Les pelotons sont de 5 archers	x	
5	On appelle halte 1 aller et 1 retour	x	
6	Les archers doivent tirer à cheval sur la ligne		x
7	Le temps imparti pour tirer une flèche ne doit pas excéder 60 secondes	X	
8	En cas d'incident matériel l'archer a 30 minutes pour réparer		x
9	Si égalité, le départage se fait au plus grand nombre de 4 et 3		x
10	Si une flèche atteint le marmot après avoir ricoché elle compte 4 points		x
11	Les cadets arc droit tirent à 30 mètres		x
12	En arc droit seules les flèches en bois ou en bambou sont autorisées	x	
13	Il faut tirer la flèche baguée 1 sur la butte d'attaque et celle baguée 2 sur la butte maitresse		x
14	Le centre de la carte sera à 1 mètre du sol	x	
15	Le beursault est un tir sélectif au championnat de France	x	
16	Le temps pour une flèche de barrage est de 30 secondes en beursault		x
17	Les archers tirent 20 haltes	x	
18	Il y a 45 minutes d'échauffement avant le début du tir		x
19	Les archers sont autorisés à utiliser les jumelles		X
20	L'honneur, le chapelet, le noir sont les zones de score de la carte beursault	X	

## QUESTION 4 : 8 points

Expliquer les différentes sanctions possibles lors d'un match par équipe (quand et pourquoi sont-elles données, comment sont-elles matérialisées ?) et expliquer ce que l'archer doit faire si une telle sanction est donnée

1 point par réponse

Sanction mineures = carton jaune = perte de temps

- Si franchissement de la ligne des 1m
- Si flèche sortie trop tôt
- Si décocheur sur la corde (compound)
- Si franchissement de ligne avant le feu vert

Sanction majeur = carton rouge

- Si tir alors que le carton jaune est levé
- Si tir hors temps

Ce qu'il faut faire

- Le carton est donné au coach
- L'archer doit revenir derrière la ligne des 1m et ranger sa flèche ou son décocheur si tel est le cas

## QUESTION 5 : 9 points

5-1 A l'aide d'un tableau, indiquer les blasons et distances par catégorie et arme sur une compétition sélective pour la **Coupe de France de TAE** (50 M + Disciplines Internationales et Olympique) (5 pts)

Réponse :

**Tableau n°3 :**

Distances et blasons sélectifs pour la Coupe de France de Tir à l'Arc Extérieur								
Catégories	TAE 50 m sur blason de 122cm				TAE Disciplines Internationale et Olympique			
	Arc Classique		Arc à Poulies		Arc Classique		Arc à Poulies	
	Distances	Blasons	Distances	Blasons	Distances	Blasons	Distances	Blasons
Juniors	50 m	122 cm	50 m	122 cm				
Seniors 1	50 m	122 cm	50 m	122 cm	70 m	122 cm	50 m	80 cm (5-X)
Seniors 2	50 m	122 cm	50 m	122 cm	70 m	122 cm	50 m	80 cm (5-X)
Seniors 3	50 m	122 cm	50 m	122 cm	60 m	122 cm	50 m	80 cm (5-X)

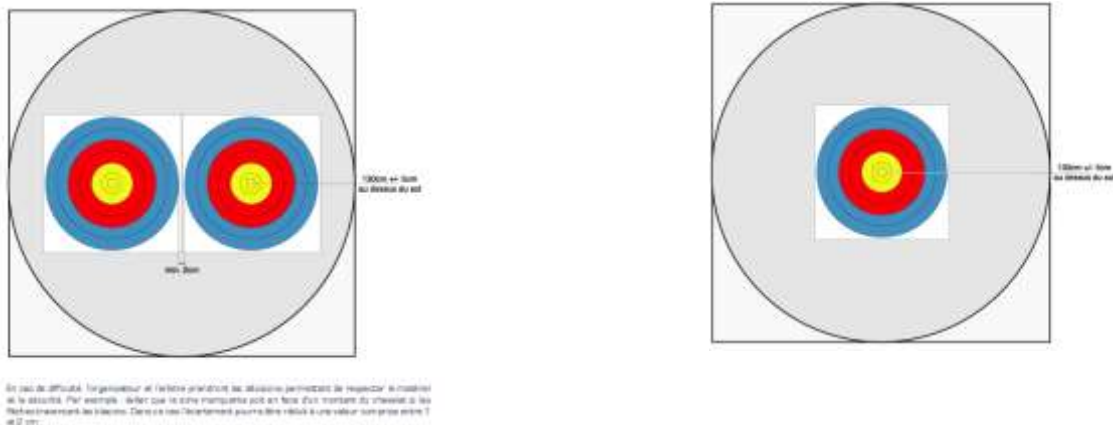
5-2 Sur un championnat régional, on vous confie la surveillance des cibles compounds. Décrivez les dispositions et le type de blasons pour les duels en individuel lors des épreuves éliminatoires ainsi que pour les finales (tir alterné). Vous pouvez vous aider d'un schéma pour compléter vos réponses. (4 pts)

*B.2.1.4.3 : Disposition des blasons pour les duels en arcs à poulies :*

*Les blasons de 80cm à 6 zones (5 – X) seront disposés sur les buttes de tir de la manière suivante :*

- Pour les Épreuves Éliminatoires (sans tir alterné) : 1 blason sera placé horizontalement à gauche du centre (l'athlète de gauche devra y tirer 3 flèches) et 1 blason sera placé à droite du centre (l'athlète de droite devra y tirer 3 flèches).*
- Pour les Finales (tir alterné), 1 blason sera placé sur chaque cible.*

*Voir illustrations ci-après.*



## QUESTION 6 : 10 points

6-1 Un parent d'un archer « poussin » vous demande si son fils pourrait participer au Championnat Départemental TAE Discipline Internationale et s'il y a des particularités, que lui répondez-vous ? (2 pts)

*TAE. A.7.1 Les archers de la catégorie « poussin » peuvent participer aux championnats TAE Disciplines Internationales et Olympique jusqu'au niveau régional. Ils tirent à une distance de 20 M sur un blason de 80cm dont le centre se situe à une hauteur de 1,10 M.*

6-2 Au cours d'une compétition TAE, vous êtes appelé pour un jugement de cordon, en vous avançant vers la cible vous trouvez une flèche à 3 mètres devant la cible en question. Cette flèche n'a pas été déclarée perdue lors de l'entraînement et il y a 6 flèches identiques en cible appartenant à l'archer. Quelle sera votre réaction ? (2 pts)

*B.8.2.6 : Si plus de 3 flèches (ou 6 flèches selon le cas) appartenant au même archer se trouvent dans la cible ou sur le sol dans les couloirs de tir, seules les 3 ou 6 flèches les plus mauvaises seront comptabilisées. Après avoir rayé le score de la meilleure flèche sur la feuille de marque et l'avoir remplacé par un « M » (manqué) l'arbitre apposera sa signature.*

6-3 Sur un concours TAE 50 M, un archer cadet vient vous voir avant le début des tirs car il souhaiterait être ponctuellement surclassé en junior arc à poulies. Quelle sera votre réponse ? (2 pts)

*C.3.2 les archers ne pourront pas se surclasser ponctuellement dans la catégorie supérieure avec une arme non reconnue dans leur catégorie de licence. La catégorie « cadet » n'étant pas reconnue en compounds, cet archer ne pourra pas se surclasser en junior.*

6-4 Vous arbitrez un barrage entre 2 archers arcs classiques sur un TAE. En arrivant aux cibles, vous constatez qu'ils ont tous les deux faits un « dix » comment allez-vous juger ? (2 pts)

*B.6.5.2.2 Si les deux archers ont un score de 10 (pour les arcs classiques) sur leur première flèche de barrage, alors le match est considéré comme à égalité et une deuxième flèche de barrage est nécessaire pour résoudre cette égalité.*

*✓ si l'égalité subsiste après le tir de la 2ème flèche, la flèche la plus près du centre donne la victoire.*

6-5 Au cours des tirs par équipes d'une épreuve de DR, vous êtes amené à donner un carton jaune pour mauvais franchissement de la ligne des 1m. Le coach de l'équipe sanctionnée n'est pas d'accord et à l'issue du match, il vient vous annoncer son intention de faire appel. Quelle sera la procédure ? (2 pts)

*J'annonce au coach qu'il n'y a pas de procédure à engager car lors des épreuves par équipes, la décision prise par un arbitre concernant l'utilisation du carton jaune (Cf. article B.8.3.1) est sans appel possible (B.10.7)*

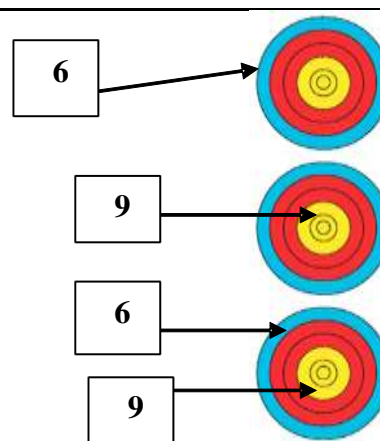
### QUESTION 7 : 25 points

Quelle est la valeur des volées ci-dessous ? Pour chacune des 5 situations suivantes, donnez la valeur des flèches et de la volée en justifiant votre décision.

>>Attention, une valorisation non justifiée sera considérée comme non valable.

Situation 1

La flèche dans le 9 en bas a été tirée hors temps.

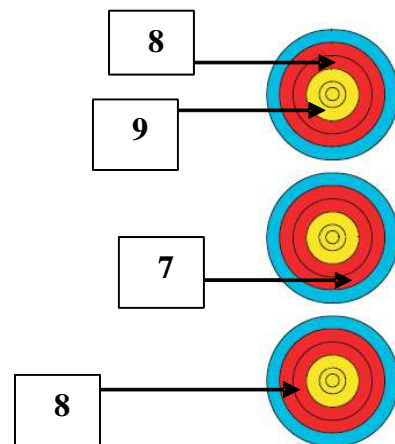


*Situation 1 : L'archer a tiré 4 flèches dont une hors temps, il y a deux flèches dans le blason du bas : l'archer a commis 3 erreurs:*

- 1 on retire la meilleure flèche du blason du bas le 9*
- 2 il a tiré 4 flèches on enlève la meilleure flèche qui reste de la volée soit le 9.*
- 3 il a tiré une flèche hors temps on enlève le 6.*

*Valeur de la volée : 6 M M = 6*

### Situation 2

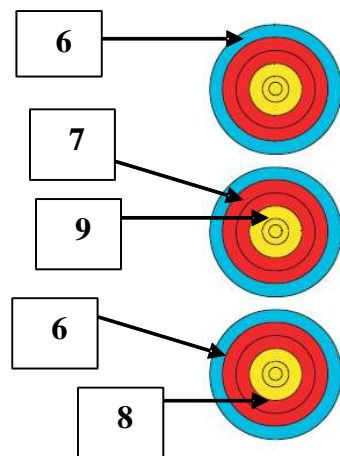


*Situation 2 : L'archer a tiré 4 flèches, il y a deux flèches dans le blason du haut : l'archer a commis 2 erreurs:*

- 1 on retire la meilleure flèche du blason du haut le 9*
  - 2 il a tiré 4 flèches, on enlève la meilleure flèche le 8*
- Valeur de la volée : 8 7 M = 15*

### Situation 3

La flèche dans le 9 a été tirée avant le signal sonore de début de volée.



*Situation 3 : L'archer a tiré 5 flèches, il en a tiré une avant le signal sonore, il y a 2 flèches dans le blason du milieu et 2 flèches dans celui du bas. L'archer a commis 5 erreurs:*

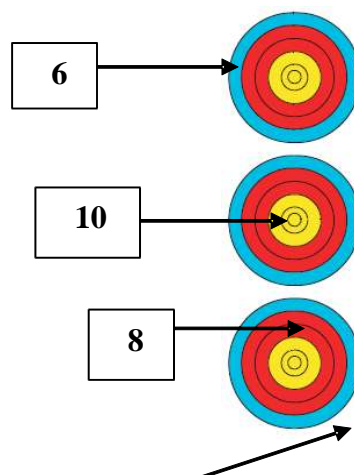
- 1 on retire la meilleure flèche du blason du milieu le 9*
- 2 on retire la meilleure flèche du blason du bas le 8*
- 3 il a tiré 5 flèches on enlève les 2 meilleures flèches restantes le 6 et le 7*
- 4 il a tiré avant le signal on enlève la meilleure flèche restante le 6*

*Valeur de la volée : M M M = 0*



#### Situation 4

La flèche en bas a percuté le 8 avant de se planter hors zone



*Situation 4 : L'archer a commis 2 erreurs:*

*L'archer a tiré 4 flèches,*

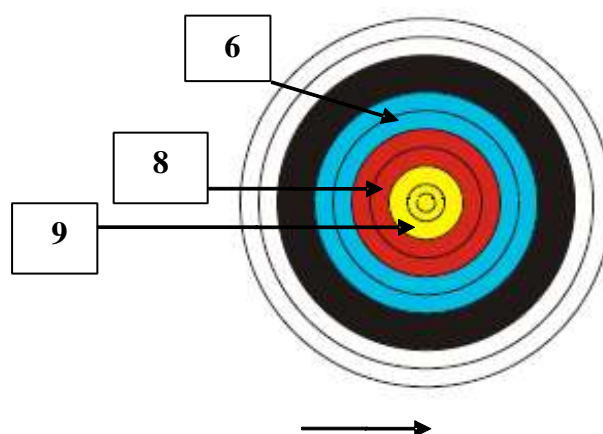
*La flèche hors zone prend la valeur de la flèche percutée 8 ce qui donne 2 valeurs de flèches pour le blason du bas*

- 1 Il a tiré 2 flèches dans le blason du bas on retire un 8*
- 2 il a tiré 4 flèches dans la volée on enlève la meilleure flèche le 10*

*Valeur de la volée : 8 6 M = 14*

#### Situation 5

La flèche en bas a été tirée hors temps, a percuté le 9 puis s'est plantée hors zone.



*Situation 5 : L'archer a commis 2 erreurs*

*L'archer a tiré 4 flèches dont une flèche hors temps*

*La flèche hors zone prend la valeur de la flèche percutée 9 ce qui donne 2 valeurs de 9*

*Il a tiré 4 flèches dans la volée on enlève la meilleure flèche un 9 Il a tiré une flèche hors temps on enlève l'autre 9*

*Valeur de la volée : 8 6 M = 14*

**QUESTION 8 : 10 points** commune à toutes les options

Proposition : interruption de la compétition.

Qui prend la décision, pourquoi, sous quelles conditions, conséquences.

*L'interruption définitive d'une compétition sélective ou qualificative pour les compétitions nationales (championnats ou Coupes).ne peut être décidée que par l'arbitre responsable de la compétition après concertation avec :*

- les autres arbitres
- l'organisateur
- les capitaines d'équipes (ou les compétiteurs)
- le jury d'appel (s'il existe)
- le délégué technique (s'il existe)

*L'interruption ne peut intervenir que pour un cas de force majeure (intempéries ou autres ...), au nom du principe de précaution.*

*L'interruption peut être prononcée à n'importe quel moment de la compétition mais il est indispensable que tous les concurrents aient tiré le même nombre de volées afin de pouvoir établir un classement équitable.*

*Quel que soit le nombre de flèches tirées, la compétition n'est pas annulée, elle est arrêtée sur décision de l'arbitre*

*Le classement est validé avec les scores acquis au moment de l'interruption. Ainsi :*

*o la remise des prix doit se tenir comme prévu*

*o l'organisateur n'a pas à rembourser les mises : il n'est pas responsable des intempéries*

*o la FFTA reconnaît le classement et les scores réalisés*