

NOM :

Prénom :

N° d'anonymat

:

Page 1 sur 7

N° d'anonymat

:

**EXAMEN ÉCRIT D'ARBITRE FÉDÉRAL - Session 1-2021  
"PASSERELLE" CIBLES ANGLAISES**

Madame, Mademoiselle, Monsieur

Cette épreuve vise à compléter les compétences relatives à l'option "Beursault" acquise afin d'obtenir l'option "Cible".

Pour répondre :

- Vous rendrez la liasse de feuilles support des questions après l'avoir complétée.
- Si les espaces dévolus aux réponses s'avéraient insuffisants vous utiliserez des feuilles blanches format A4, en repérant sans ambiguïté les questions auxquelles elles se rapportent.
- Ne rien écrire en dehors du cadre.
- Utiliser obligatoirement un stylo de couleur noire

**Merci de penser aux correcteurs et d'écrire lisiblement**  
**(une copie illisible ne sera pas corrigée)**

Vos NOM et PRÉNOM doivent être portés sur toutes les feuilles réponse, **au recto et au verso**, les liasses devant être dissociées pour numérisation.

**N'ÉCRIVEZ PAS DANS LES 4 CM SUPÉRIEURS DE VOS FEUILLES PERSONNELLES D'AUTRES ÉLÉMENTS QUE VOS NOM, PRÉNOM.**

**CES 4 CM SONT DÉTACHÉS DE LA COPIE AU MOMENT DE L'ANONYMISATION.**

Les épreuves devant être "anonymes", il ne pourra être toléré de signes distinctifs apposés par le candidat arbitre sur aucune des feuilles.

**Le temps alloué pour l'épreuve est de une heure (1h)**

**IMPORTANT**

Les questions au nombre de cinq sont notées sur un total de 50 points

**Toute non-réponse à une question ou à une sous question est éliminatoire**

**Pour être admis, le candidat devra obtenir un minimum de 35 points, correspondant à  
14/20**



NOM :

Prénom :

N° d'anonymat

:

Page 2 sur 7

N° d'anonymat

:

**Question 1-1 (8 points)**

Avant le début de la compétition, les arbitres vérifient l'équipement des archers :

A Parmi les situations suivantes lesquelles ne sont pas autorisées ?  
*(0,5 point par bonne réponse)*

- 1 – deux clickers
- 2 – une nasette et une sucette
- 3 - des tubes de diamètre 9,4mm
- 4 – un poids monté sur un bare bow avec un joint caoutchouc évitant d'abimer la peinture de l'arc

B Pour les arcs à poulies : quelle est la puissance maximale autorisée ?  
*(1point)*

C Lors du contrôle vous trouvez un arc à poulies avec une puissance supérieure à la limite autorisée. Vous demandez à l'archer de baisser sa puissance.

Êtes-vous autorisé à refaire un contrôle plus tard durant la compétition ?  
*(1point)*

Si oui, précisez comment vous opérez ce nouveau contrôle ?  
*(1point)*

Que se passe-t-il si la puissance relevée est à nouveau supérieure à la limite autorisée ? *(1point)*



NOM :

Prénom :

N° d'anonymat

:

Page 3 sur 7

N° d'anonymat

:

**Question 1-2 (8 points)**

Lors d'une épreuve par équipe régionale :

- A Dans quelles situations l'arbitre en charge d'un match (tir en simultané) est-il amené à montrer le carton jaune ? *(1 point par bonne réponse)*
- B Dans quelles situations l'arbitre en charge du match est-il amené à montrer le carton rouge ? *(1 point par bonne réponse)*
- C A qui l'arbitre montre-t-il le carton jaune (si nécessaire) ? *(1 point)*

Dans le cas où l'équipe est composée d'un archer handicapé est-il autorisé à rester sur la ligne et comment le tir est-il organisé ? *(1 point)*



NOM :

Prénom :

N° d'anonymat

:

Page 4 sur 7

N° d'anonymat

:

**Question 1-3 (3 points)**

Lors des phases éliminatoires d'un championnat départemental TAE, un archer vous signale que la 2<sup>ème</sup> flèche qu'il vient de tirer a mal percuté la cible et s'y retrouve pendue. Que décidez-vous ?

**Question 1.4 (6 Points)**

- A- Un archer décide d'abandonner après la 11<sup>°</sup> volée de la phase de qualification d'une compétition sur cibles extérieures (sans duels). **(2,5 Points)**  
Malgré cet abandon, le score établi le place sur le podium.  
Peut-il prétendre à ce podium ou doit-il être considéré comme non classé car il n'a pas terminé la compétition ?
- B- Si pour une compétition, cette fois, avec duel, vous rencontrez le même cas de figure (l'archer arrête de tirer après la 11<sup>°</sup> volée) du qualificatif.  
A la fin du qualificatif cet archer vient vous voir et vous demande si malgré cette volée non tirée il peut prétendre à participer aux duels ? Quelle sera alors votre réponse ? **(2,5 Points)**



NOM :

Prénom :

N° d'anonymat

:

Page 5 sur 7

N° d'anonymat

:

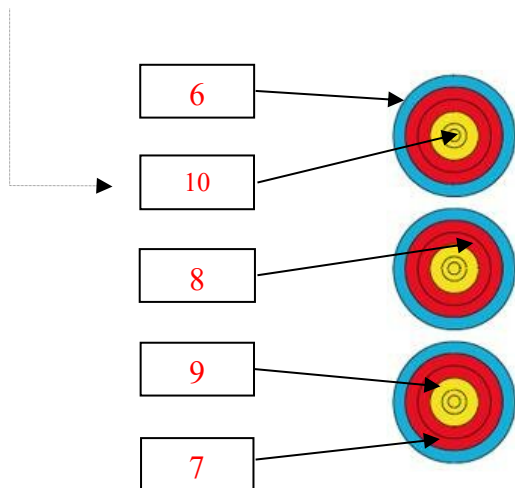
**Question 1.5 (25 points)**

Quelle est la valeur des volées ci-dessous ? Pour chacune des 5 situations suivantes, donnez la valeur des flèches et de la volée en expliquant comment vous avez procédé.

***Une valorisation non justifiée sera considérée comme non valable.***

**Situation1 : 5 pts**

Cette flèche a été tirée avant le signal sonore



**Valeur de la volée :**



NOM :

Prénom :

N° d'anonymat

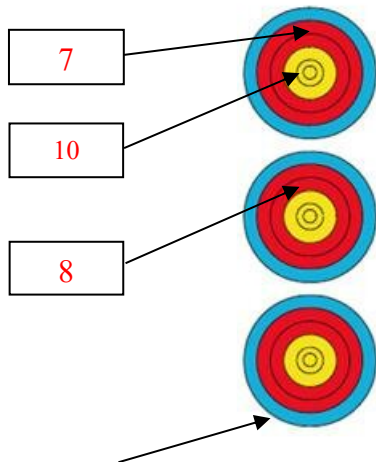
:

N° d'anonymat

:

Page 6 sur 7

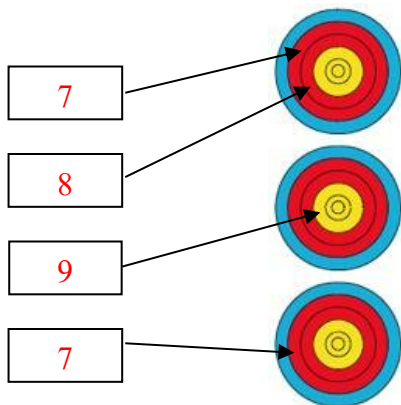
**Situation 2** : 5 pts



Cette flèche a été tirée hors temps et s'est plantée hors zone

Valeur de la volée :

**Situation 3** : 5 pts



Valeur de la volée :



NOM :

Prénom :

N° d'anonymat

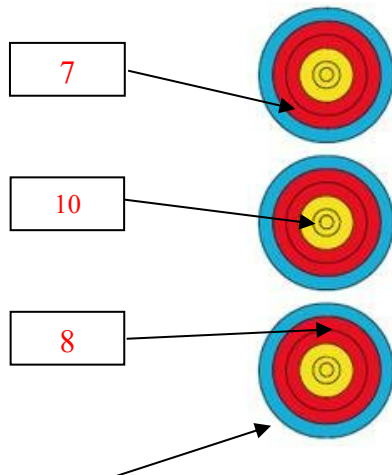
:

Page 7 sur 7

N° d'anonymat

:

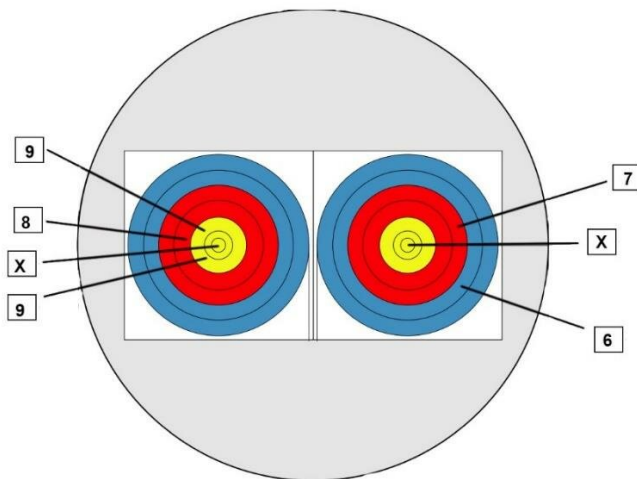
**Situation 4** : 5 pts



Cette flèche a percuté le 8 avant de se planter hors zone

**Valeur de la volée :**

**Situation 5** : 5 pts



Lors d'un tir par équipe poulies  
Le 1<sup>er</sup> archer a tiré le 9 et le 8  
dans le blason de gauche.

Le 2<sup>ème</sup> archer a tiré le 7 et le 6  
dans le blason de droite

Le 3<sup>ème</sup> archer a tiré X et 9 dans le  
blason de gauche. Cependant  
après s'être ravisé, il a tiré 1  
flèche dans le blason de droite  
(c'est un X) mais il a tiré hors  
temps.

**Valeur de la volée :**

