

NOM :

Prénom :

N° d'anonymat

:

N° d'anonymat

:

Page 1 sur 14

**EXAMEN ÉCRIT D'ARBITRE FÉDÉRAL - Session 1-2021
OPTION CIBLES**

Madame, Mademoiselle, Monsieur

Cette épreuve concrétise les compétences relatives aux modules CIBLES acquises au cours de votre formation d'Arbitre Fédéral.

Si vous remplissez ce questionnaire c'est que vous êtes titulaire des modules VI, VII, IX et XIII des formations d'Arbitres Fédéraux, félicitations et bon travail.

La C.N.A.

Pour répondre :

- Vous rendrez la liasse de feuilles support des questions après l'avoir complétée.
- Si les espaces dévolus aux réponses s'avéraient insuffisants vous utiliserez des feuilles blanches format A4, en repérant sans ambiguïté les questions auxquelles elles se rapportent.
- Ne rien écrire en dehors du cadre.
- Utiliser obligatoirement un stylo de couleur noire

Merci de penser aux correcteurs et d'écrire lisiblement
(une copie illisible ne sera pas corrigée)

Vos NOM et PRÉNOM doivent être portés sur toutes les feuilles réponse, **au recto et au verso**, les liasses devant être dissociées pour numérisation.

N'ÉCRIVEZ PAS DANS LES 4 CM SUPÉRIEURS DE VOS FEUILLES PERSONNELLES D'AUTRES ÉLÉMENTS QUE VOS NOM, PRÉNOM.

CES 4 CM SONT DÉTACHÉS DE LA COPIE AU MOMENT DE L'ANONYMISATION.

Les épreuves devant être "anonymes", il ne pourra être toléré de signes distinctifs apposés par le candidat arbitre sur aucune des feuilles.

Le temps alloué pour l'épreuve est de deux heures (2h)

IMPORTANT

Les questions sont regroupées en deux groupes plus une question commune à toutes les options :

- groupes de questions de 1 à 5 notées sur 90 points
- question 12, commune à toutes les options, notée sur 10 points
soit un total maximum de 100 points

Toute non-réponse à une question ou à une sous question est éliminatoire

**Pour être admis, le candidat devra obtenir un minimum de 70 points, correspondant à
14/20**



NOM :

Prénom :

N° d'anonymat

:

Page 2 sur 14

N° d'anonymat

:

Question 1-1 : Lors d'un Championnat Régional individuel en salle avec finales, décrivez la procédure de départage des égalités à mettre en œuvre lors des matchs, pour la progression vers l'étape suivante de la compétition.
Préciser également la procédure à utiliser si les matchs pour les médailles sont réalisés en tir alterné. **(6 Points)**

Question 1-2 : Vous arbitrez un match par équipes poulies à 50M. Donnez le type et la position des blasons pour chaque équipe. Expliquez la manière dont doit se dérouler le tir (règle de répartition des flèches sur la cible et conséquence d'un non-respect de cette règle). Précisez ce qui se passe en cas de barrage. **(4 Points)**

Question 1-3 : Au cours de la demi- finale d'un championnat départemental en salle, un barrage est annoncé entre 2 concurrents. L'arbitre responsable de la compétition vous charge du suivi de ce barrage. Quels sont les deux points que vous devez vérifier avant de lancer le tir de barrage ? **(2 Points)**



NOM :

Prénom :

N° d'anonymat

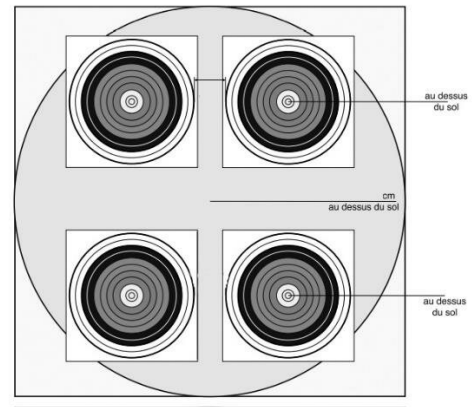
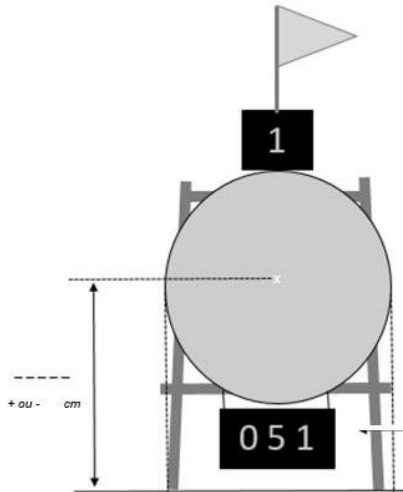
:

N° d'anonymat

:

Page 3 sur 14

Question 1-4 : Coter les différentes hauteurs de blasons pour un 70M, et un 18M (rythme AB/CD) blason 40cm en salle (y compris tolérance si nécessaire). (3 Points, soit 0,5pts / réponse).



Question 1-5 : Donnez les différents temps alloués pour tirer une flèche lors d'une compétition en salle. (5 Points)

- 3 flèches lors de l'épreuve qualificative :
- 1 flèche de barrage pour accéder aux phases éliminatoires (après l'épreuve de qualification) :
- 3 flèches lors du ¼ finale (tir simultané) :
- 1 flèche sur incident de tir durant les ¼ finale :
- 1 flèche lors de la finale (tir alterné) :



NOM :

Prénom :

N° d'anonymat

:

Page 4 sur 14

N° d'anonymat

:

Question 1-6 : Lors d'une compétition en Tir extérieur, un compétiteur s'aperçoit, au moment où c'est son tour de tirer, qu'il a oublié ses flèches en cible. Le tir sera-t-il interrompu ? Quelle est la procédure à suivre dans un tel cas ? **(5 Points)**

Question 1-7 : Vous êtes arbitre sur un TAE et vous êtes appelé à une cible sur laquelle se sont produits deux rebonds (refus) dans la même volée, de deux compétiteurs différents. Les deux flèches sont à terre, devant la cible. Vous constatez :

- deux impacts non cochés sur le blason, l'un au 9, l'autre au 7
- 3 autres impacts non marqués sur le blason, hors des zones marquantes

Comment déterminez-vous la valeur des deux flèches ayant rebondi ? **(3 Points)**

Question 1-8 : Quelle différence faites-vous entre un « score set » et des « points set » ? **(4 Points)**



NOM :

Prénom :

N° d'anonymat

:

Page 5 sur 14

N° d'anonymat

:

Question 1-9 : Un archer se met à saigner du nez pendant la phase qualificative. Il vous demande ce qu'il peut faire. Que faites-vous ? Que lui expliquez-vous ? **(4 Points)**

Question 1.10 : Sur une compétition TAE tirs individuels avec une phase finale tirs alternés : qui commence à chaque set (arc classique) ? **(4 Points)**

Question 2 : Quelle est la valeur des volées ci-dessous ? **(25 Points)**, soit **5pts par situation**

Pour chacune des 5 situations suivantes, donnez la valeur des flèches et de la volée en expliquant comment vous avez procédé. ***Une valorisation non justifiée sera considérée comme non valable.***



NOM :

Prénom :

N° d'anonymat

:

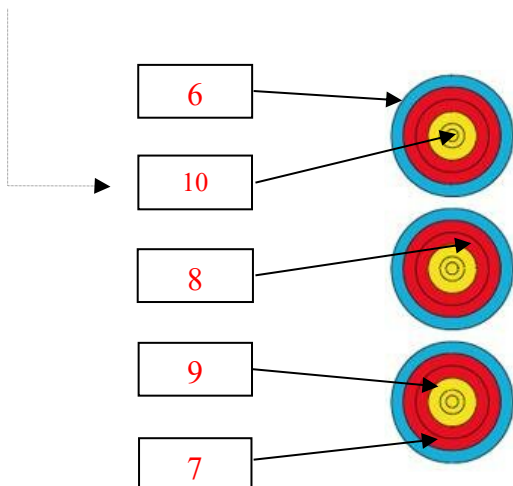
Page 6 sur 14

N° d'anonymat

:

Situation1 : 5 pts

Cette flèche a été tirée avant le signal sonore



Valeur de la volée :



NOM :

Prénom :

N° d'anonymat

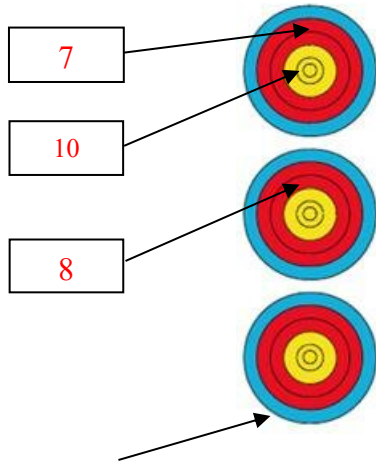
:

N° d'anonymat

:

Page 7 sur 14

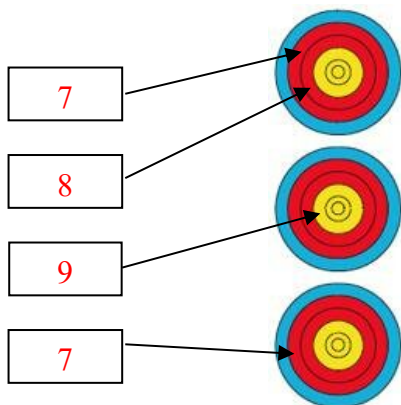
Situation 2 : 5 pts



Cette flèche a été tirée hors temps et s'est plantée hors zone

Valeur de la volée :

Situation 3 : 5 pts



Valeur de la volée :



NOM :

Prénom :

N° d'anonymat

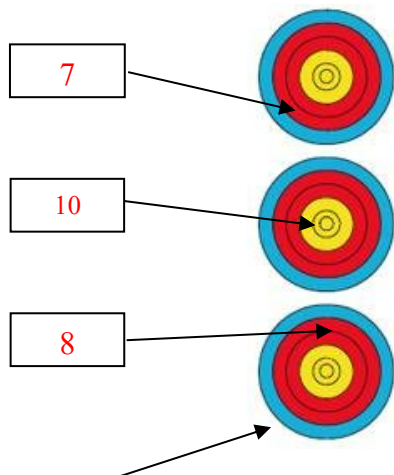
:

N° d'anonymat

:

Page 8 sur 14

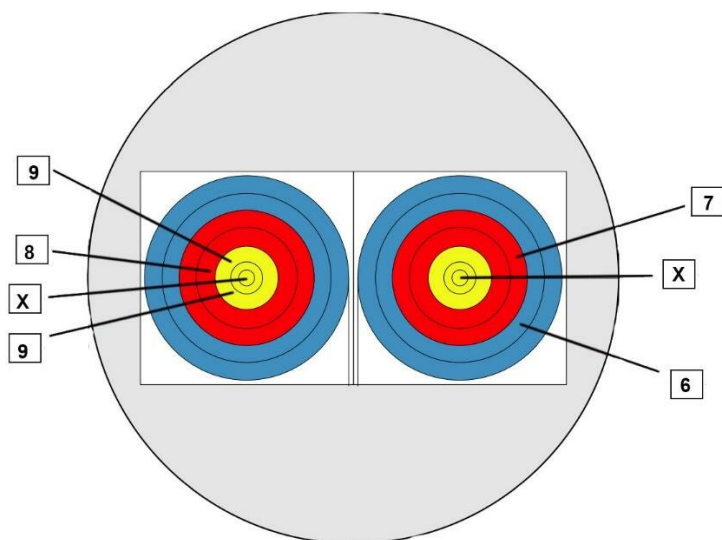
Situation 4 : 5 pts



Cette flèche a percuté le 8 avant de se planter hors zone

Valeur de la volée :

Situation 5 : 5 pts



Lors d'un tir par équipe poulies
Le 1^{er} archer a tiré le 9 et le 8 dans le blason de gauche.
Le 2^{ème} archer a tiré le 7 et le 6 dans le blason de droite
Le 3^{ème} archer a tiré X et 9 dans le blason de gauche.
Cependant après s'être ravisé, il a tiré 1 flèche dans le blason de droite (c'est un X) mais il a tiré hors temps.

Valeur de la volée :



NOM :

Prénom :

N° d'anonymat
:

Page 9 sur 14

N° d'anonymat
:

Question 3 : _Handisport (5 points, soit 0,5 pts/bonne réponse)

QUESTIONS	VRAI	FAUX
1- La fédération française Handisport (FFH) ne gère que les handicaps locomoteurs		
2- Pour bénéficier d'une assistance mécanique en compétition, l'archer doit le justifier par une carte de classification		
3- S'il possède une carte de classification l'archer n'a pas besoin d'une licence FFTA pour participer à un concours dominical		
4- Si, sur un concours dominical FFTA, un archer ne possède pas de carte de classification, l'arbitre ou le président du club peut lui en délivrer une provisoire (mais valable pour ce concours uniquement)		
5- Un archer handicapé visuel ne peut pas participer aux compétitions de niveau international		
6- Durant le tir, un archer en fauteuil n'a pas le droit de se servir de son fauteuil pour stabiliser son bras d'arc		
7- La catégorie « arc compound » n'est pas ouverte à un archer handicapé visuel		
8- Lors d'une compétition TAE certaines catégories FFH prévoit un tir aux mêmes distances et blasons que la FFTA		
9- Afin de faciliter les classements lors des compétitions dominicales, les catégories d'âges et d'armes sont les mêmes pour la FFSA (Sport Adapté) et la FFH		
10-Sur une compétition par équipe, l'archer en fauteuil pourra lever le bras pour annoncer le relai avec un coéquipier		



NOM :

Prénom :

N° d'anonymat

:

N° d'anonymat

:

Page 10 sur 14

Question 4 : Beursault (20 points)

4-1 Sur un concours Beursault qualificatif :

a- Combien tire-t-on de flèches (hors entraînement) ? (1 Point)

b- Quel est le nombre maximum de flèches d'entraînement autorisées ? (1 Point)

5-2 Les règles de tir en Beursault (3 Points) :

a. Quelle doit-être la position du compétiteur sur le pas de tir ? (1 Point)

b. De combien de temps le compétiteur dispose-t-il pour tirer une flèche ? (1 Point)

c. A partir de quand le temps est-il décompté ? (1 Point)

6-3 Dans le tableau ci-dessous, différentes armes apparaissent. Certaines ne sont pas reconnues en tir Beursault, désignez lesquelles et dans quelles catégories elles seront classées. (4 Points)

	Division d'arc ouverte OUI/NON	Pour un tireur utilisant cette arme, quelle est la catégorie de classement ?
Arc classique		
Arc Nu ou B.B		
Arc à poulies		
Arc à poulies nu		
Arc chasse		
Arc Longbow démontable en 2 parties		
Arc droit avec ouverture centrale		
Arc Longbow		



NOM :

Prénom :

N° d'anonymat

:

N° d'anonymat

:

Page 11 sur 14

4-4 En Beursault, combien (3 Points) :

a) de compétiteurs à chaque départ (par peloton) ? (1 Point)

b) de flèches sont tirées par halte? (1 Point)

c) de scores faut-il réaliser pour obtenir la qualification au Championnat de France ? (1 Point)

4-5 Sur le blason ci-dessous donnez la valeur des impacts : (5 Points)



NOM :

Prénom :

N° d'anonymat

:

Page 12 sur 14

N° d'anonymat

:

4-6 Vous êtes responsable d'un concours qualificatif Beursault:
Quels sont les points à vérifier sur le pas de tir ? **(3 Points)**



NOM :

Prénom :

N° d'anonymat

:

Page 13 sur 14

N° d'anonymat

:

Question 5 : (10 Points) (commune à toutes les options)

Décrivez les règles de constitution du Jury d'appel ainsi que la procédure de dépôt d'une réclamation et de traitement de celle-ci.

5.a Qui doit constituer le Jury d'Appel ? (1 Point)

5.b Comment le constituer ? (qui peut être désigné, qui ne peut être désigné ?) (2 Points)

5.c Quel est le rôle du Jury d'Appel lorsqu'il se réunit ? (1 Point)

5.d Quelle est la procédure pour déposer la réclamation ? (3 Points)



NOM :

Prénom :

N° d'anonymat

:

Page 14 sur 14

N° d'anonymat

:

5.e Quelle est la procédure pour traiter la réclamation et rendre la décision ? (3 Points)

