

NOM :

Prénom :

N° d'anonymat
:

Page 1 sur 11

N° d'anonymat
:

EXAMEN ÉCRIT D'ARBITRE FÉDÉRAL - Session 2-2021 OPTION TIR EN CAMPAGNE

Madame, Mademoiselle, Monsieur

Cette épreuve concrétise les compétences relatives aux modules TIR EN CAMPAGNE acquises au cours de votre formation d'Arbitre Fédéral.

Si vous remplissez ce questionnaire c'est que vous êtes titulaire des modules X et XIV des formations d'Arbitres Fédéraux, félicitations et bon travail.

La C.N.A.

Pour répondre :

- Vous rendrez la liasse de feuilles support des questions après l'avoir complétée.
- Si les espaces dévolus aux réponses s'avéraient insuffisants vous utiliserez des feuilles blanches format A4, en repérant sans ambiguïté les questions auxquelles elles se rapportent.
- Ne rien écrire en dehors du cadre.
- Utiliser obligatoirement un stylo de couleur noire

Merci de penser aux correcteurs et d'écrire lisiblement
(une copie illisible ne sera pas corrigée)

Vos NOM et PRÉNOM doivent être portés sur toutes les feuilles réponse, **au recto et au verso**, les liasses devant être dissociées pour numérisation.

N'ÉCRIVEZ PAS DANS LES 4 CM SUPÉRIEURS DE VOS FEUILLES PERSONNELLES D'AUTRES ÉLÉMENTS QUE VOS NOM, PRÉNOM. CES 4 CM SONT DÉTACHÉS DE LA COPIE AU MOMENT DE L'ANONYMISATION.

Les épreuves devant être totalement "anonymes", il ne pourra être toléré de signes distinctifs apposés par le candidat arbitre sur aucune des feuilles.

Le temps alloué pour l'épreuve est de deux heures (2h)

IMPORTANT

Les questions se répartissent de la façon suivante :

- questions de 1 à 12 concernant le Tir en Campagne notées sur 90 points
- question 13, commune à toutes les options, notée sur 10 points
soit un total maximum de 100 points

Toute non-réponse à une question ou à une sous question est éliminatoire

Pour être admis, le candidat devra obtenir un minimum de 70 points, correspondant à 14/20



NOM :

Prénom :

N° d'anonymat
:

Page 2 sur 11

N° d'anonymat
:

QUESTION 1 4 points

Lors de l'inspection du matériel vous remarquez un archer tirant en Arc Nu avec des marques de fabricant sur la face interne de sa fenêtre d'arc (c'est-à-dire celle face à l'archer). Que faites-vous ?

QUESTION 2 6 points

Lors d'une compétition dominicale, un peloton vous appelle car il est confronté au problème suivant : sur les 4 archers composant ce peloton il y a deux minimes qui par le fait du hasard ont des flèches de même couleur (plumes et encoches), ces flèches sont par ailleurs bien marquées au nom de chaque archer. Ils viennent tous de tirer et leurs flèches sont encore en cible. Mais lors du ramassage de flèches sur la cible précédente (une cible de 60 cm) les deux archers minimes A et B se sont involontairement échangé deux flèches lorsqu'ils les ont retirées de la cible.

Ils sont actuellement sur une cible de 40 cm, l'archer A a tiré une flèche lui appartenant et deux ne lui appartenant pas et l'archer B a tiré trois flèches à lui (il en avait d'autres dans son carquois). Comment procédez-vous pour l'attribution des points ?



NOM :

Prénom :

N° d'anonymat

:

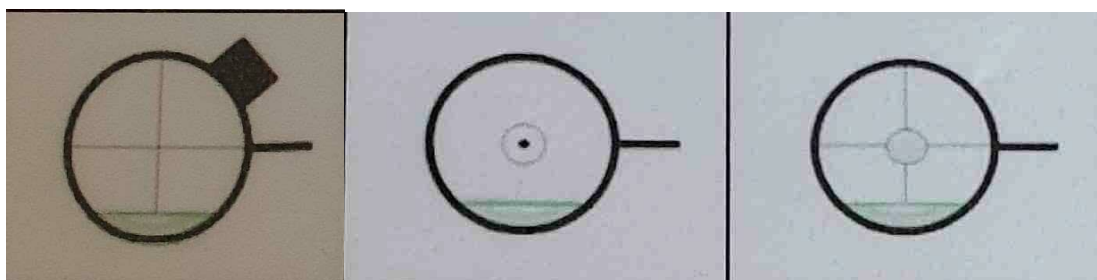
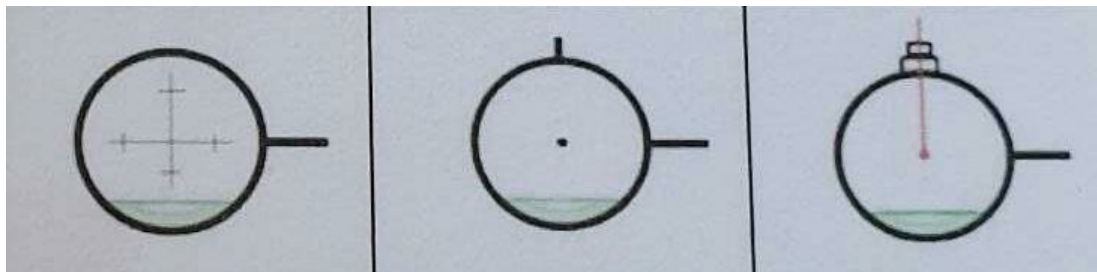
Page 3 sur 11

N° d'anonymat

:

QUESTION 3 8 points

Pour les scopes suivants, notez ceux qui sont autorisés en tir en campagne et ceux qui ne le sont pas, motivez vos réponses : (8 points)



QUESTION 4 20 points

VRAI / FAUX

		V	F
1	Un archer cadet peut être champion de France Elite		
2	Un sénior 3 peut être champion de France Elite		
3	Dans la catégorie Arc Droit, des silencieux de corde sont autorisés à moins de 20 cm du point d'encochage		
4	Les qualifications sur un championnat de France donnent droit aux distinctions Arrow Head de la WA		
5	Un archer peut changer de place dans le peloton avec l'accord des autres membres du peloton		



NOM :

Prénom :

N° d'anonymat

:

Page 4 sur 11

N° d'anonymat

:

6	L'ordre de tir sur les blasons de 40cm est AB à gauche et CD à droite		
7	L'ordre de tir sur les blasons de 20cm est A colonne 1, B colonne 2, C colonne 3 et D colonne 4		
8	L'archer peut tirer debout ou à genou		
9	Au piquet rouge Il est possible de tirer un blason de 60cm à 20m		
10	Dans la catégorie Arc Nu, un arc droit peut avoir des flèches en carbone		
11	Un benjamin va tirer les 3 cibles de 80cm connues à 30m		
12	Pour un arc classique senior la distance maximale à tirer est de 70 m		
13	Un parcours avec 24 cibles connues est sélectif au championnat de France		
14	Lors d'un championnat tous les arbitres doivent avoir un plan du parcours avec les distances		
15	Lors de la vérification du matériel, l'arbitre doit vérifier la jumelle du coach ou des archers		
16	Les archers peuvent avoir des notes indiquant la relation entre l'angle de la pente et le viseur		
17	Les archers peuvent avoir des notes qui sont des copies du règlement ou des réglages du viseur de l'archer		
18	L'arbitre doit vérifier que les piquets sont visibles depuis le pas d'attente		
19	Selon la topologie du terrain, le pas d'attente doit se trouver à au moins 5 m du piquet rouge		
20	Les chemins utilisés par le public ne doivent pas croiser la ligne de tir		

QUESTION 5 4 points

Pourquoi et à quelles cibles rencontre-t-on des piquets orange en tir en campagne ?



NOM :

Prénom :

N° d'anonymat

:

Page 5 sur 11

N° d'anonymat

:

QUESTION 6 4 points

Quelles sont les catégories d'arc reconnues pour les compétitions nationales en tir en campagne ?

QUESTION 7 4 points

Lors de l'installation des cibles qu'elle est la tolérance dans les mesures du pas de tir à la cible ?

QUESTION 8 4 points

Quelles sont les règles d'installation des blasons sur une butte de tir ?



NOM :

Prénom :

N° d'anonymat

:

Page 6 sur 11

N° d'anonymat

:

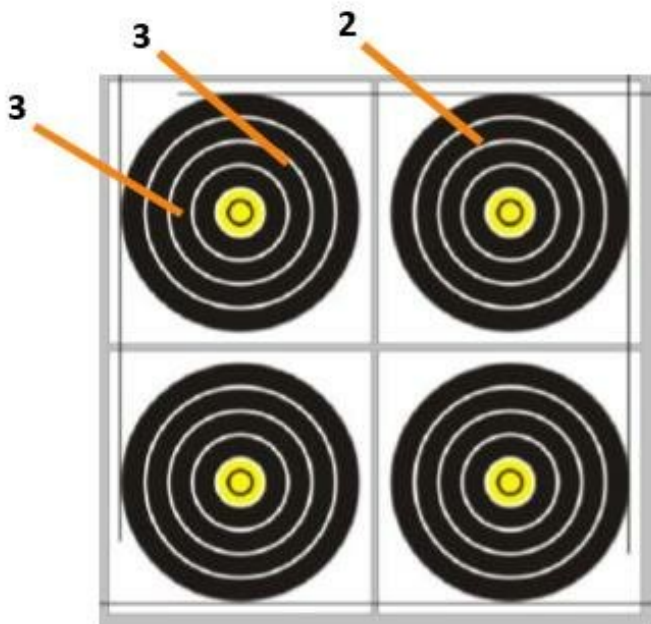
QUESTION 9 5 points

Vous êtes le président de la commission technique d'un concours campagne. Lors d'un parcours sélectif, il apparaît que la cible 9 est vraiment dangereuse. L'organisateur refuse de faire les changements que vous lui demandez car selon lui c'est le prix à payer pour avoir une cible technique. Comment traitez-vous le problème ?

QUESTION 10 10 points

Donner et expliquer les valeurs des volées suivantes :

A° L'archer A a tiré les trois flèches suivantes : (2 points)



3 flèches tirées en 3 minutes



NOM :

Prénom :

N° d'anonymat

:

Page 7 sur 11

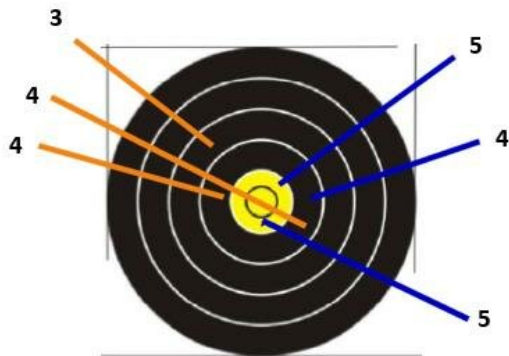
N° d'anonymat

:

B° (4 points)

ARCHER A

ARCHER B



Archer A : 3 flèches tirées en 3 minutes

Valeur des flèches : 3, 4, 4

Archer B : 3 flèches dont la dernière hors temps, c'est le premier dépassement de



NOM :

Prénom :

N° d'anonymat

:

Page 8 sur 11

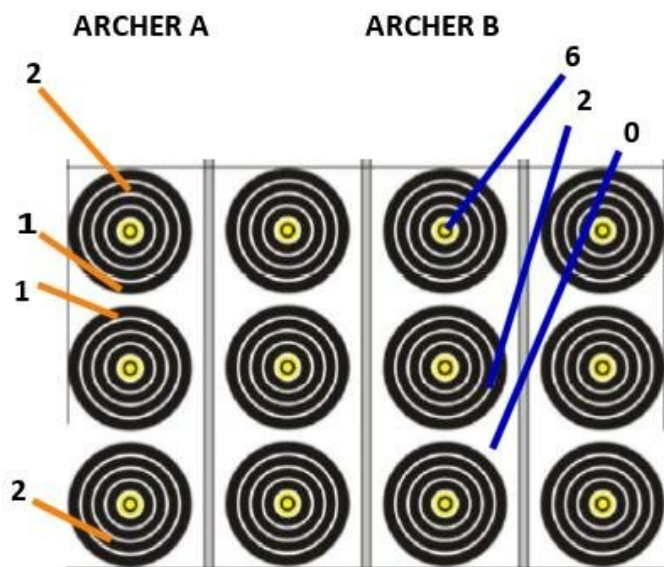
N° d'anonymat

:

C° (4 points)

Archer A : 4 flèches tirées en 3 minutes

Archer B : 3 flèches tirées en 3 minutes



QUESTION 11 9 points

Comment une équipe de club peut se sélectionner pour le Championnat de France par équipe de club ?



NOM :

Prénom :

N°
d'anonymat :

Page 9 sur 11

N°
d'anonymat :

QUESTION 12 12 points

QCM – Cocher la ou les bonne(s) réponse(s) - (2 points par question)

1 - A partir de quel moment une compétition officielle commence :

- À l'arrivée sur le lieu de la compétition
- À l'ouverture de l'entraînement officiel
- Au départ vers le parcours
- À la première flèche tirée

2 - L'épreuve des éliminatoires lors d'un championnat de France Elite comporte :

- Deux boucles de 6 cibles
- Trois boucles de 6 cibles
- Deux boucles de 4 cibles
- Trois boucles de 4 cibles

3 - L'épreuve de qualification d'un championnat de France Elite individuel comporte :

- Un parcours de 24 cibles inconnues
- Un parcours de 24 cibles connues
- Un parcours de 12 cibles inconnues + 12 cibles connues
- Deux parcours de 12 cibles (6 connues + 6 inconnues)

4 - Si les archers ne sont pas d'accord sur la valeur d'une flèche :

- C'est la valeur annoncée par l'archer qui prévaut
- C'est la valeur annoncée par le marqueur qui prévaut
- Les archers procèdent à un shifumi
- Les 3 autres archers procèdent à un vote pour/contre



NOM :

Prénom :

N°
d'anonymat :

Page 10 sur 11

N°
d'anonymat :

5 - L'entraînement se fait :

- Sur les 4 premières cibles du parcours
- À côté du greffe
- Près du point de rassemblement
- Sous le contrôle d'un Directeur des Tirs (DOS)

6 - Selon les conditions climatiques, l'archer peut porter lors des qualifications :

- Un pantalon de type Jean's
- Une blouse
- Un bikini pour les femmes
- Un T-shirt sans manche pour les hommes

QUESTION 13 10 points

Commune à toutes les options

Que se passe-t-il lorsqu'un orage violent et potentiellement dangereux s'installe sur votre compétition ?

Décisions à
prendre Résultats



NOM :

Prénom :

N° d'anonymat

:

Page 11 sur 11

N° d'anonymat

:

