

NOM :

Prénom :

N° d'anonymat
:

Page 1 sur 16

N° d'anonymat
:

**EXAMEN ÉCRIT D'ARBITRE FÉDÉRAL - Session 2-2021
OPTION CIBLES**

Madame, Mademoiselle, Monsieur

Cette épreuve concrétise les compétences relatives aux modules CIBLES acquises au cours de votre formation d'Arbitre Fédéral.

Si vous remplissez ce questionnaire c'est que vous êtes titulaire des modules VI, VII, IX et XIII des formations d'Arbitres Fédéraux, félicitations et bon travail.

La C.N.A.

Pour répondre :

- Vous rendrez la liasse de feuilles support des questions après l'avoir complétée.
- Si les espaces dévolus aux réponses s'avéraient insuffisants vous utiliserez des feuilles blanches format A4, en repérant sans ambiguïté les questions auxquelles elles se rapportent.
- Ne rien écrire en dehors du cadre.
- Utiliser obligatoirement un stylo de couleur noire

Merci de penser aux correcteurs et d'écrire lisiblement
(une copie illisible ne sera pas corrigée)

Vos NOM et PRÉNOM doivent être portés sur toutes les feuilles réponse, **au recto et au verso**, les liasses devant être dissociées pour numérisation.

N'ÉCRIVEZ PAS DANS LES 4 CM SUPÉRIEURS DE VOS FEUILLES PERSONNELLES D'AUTRES ÉLÉMENTS QUE VOS NOM, PRÉNOM.

CES 4 CM SONT DÉTACHÉS DE LA COPIE AU MOMENT DE L'ANONYMISATION.

Les épreuves devant être complètement "anonymes", il ne pourra être toléré de signes distinctifs apposés par le candidat arbitre sur aucune des feuilles.

Le temps alloué pour l'épreuve est de deux heures (2h)

IMPORTANT

Les questions sont regroupées en quatre groupes plus une question commune à toutes les options :

- groupes de questions de 1 à 4 notées sur 90 points
- question 5, commune à toutes les options, notée sur 10 points
soit un total maximum de 100 points

Toute non-réponse à une question ou à une sous question est éliminatoire

**Pour être admis, le candidat devra obtenir un minimum de 70 points, correspondant à
14/20**



NOM :

Prénom :

N° d'anonymat

:

Page 2 sur 16

N° d'anonymat

:

Question 1 (5 Pts)

Citez les éléments que vous pouvez être amenés à vérifier sur les flèches d'un archer lors du contrôle de matériel d'une compétition en salle.

1 point par élément cité dessous cité par le candidat (5pts max)

Question 2 (3 Pts) soit 0,5 pt / bonne réponse

Cet anneau, présent dans chaque valise d'arbitre, est utilisé pour vérifier très précisément certaines mesures, merci de compléter les 6 valeurs manquantes.



NOM :

Prénom :

N° d'anonymat
:

Page 3 sur 16

N° d'anonymat
:

Question 3 (6 Pts)

3-1 A l'issue des quarts de finale par équipes arc classique sur un championnat TAE, 2 équipes se retrouvent à égalité (4 sets partout). Expliquer comment se passe le départage de l'égalité et quelles sont les actions attendues de l'arbitre en charge de ce match. **(4 Pts)**

3-2 Que se passera-t-il si l'égalité persiste entre les 2 équipes à l'issue du tir de barrage ? **(2 Pts)**

Question 4 (5 Pts)

Les archers poussins sont-ils autorisés à participer à des compétitions officielles en salle et en extérieur ? Si oui sous quelles conditions.



NOM :

Prénom :

N° d'anonymat
:

Page 4 sur 16

N° d'anonymat
:

Question 5 (3 Pts)

Après le match de ¼ de finale d'un Championnat Régional par équipes, le coach d'une des 2 équipes vient vous voir et manifeste son intention de faire appel. Il prétend que durant le match un archer de l'équipe adverse est sorti afin de « bidouiller un truc sur son arc ».

Quelle sera votre réponse ?

Question 6 (3 Pts)

Quelles sont les catégories d'armes autorisées pour une compétition sélective en salle. Pour chacune de ces catégories indiquer les catégories d'âge ouvertes à la compétition.

Question 7 (2 Pts)

Un archer décide d'abandonner après la 11^o volée de la phase de qualification d'une compétition sur cibles extérieures. Malgré cet abandon, le score établi le place sur le podium cependant l'organisateur lui refuse la validation sous prétexte qu'il n'a pas tiré le nombre de flèches prévu au règlement.

Il demande votre jugement, que lui répondrez-vous ?



NOM :

Prénom :

N° d'anonymat

:

Page 5 sur 16

N° d'anonymat

:

Question 8 (6 Pts) (soit 3Pts/situation)

Lors d'un championnat de ligue FITA 2 x 70m, il y a 65 concurrents classés dans la catégorie "s1 hommes".

a) Il a été décidé, avant le début du concours, que la phase éliminatoire débiterait en 1/32 de finale.

Vous constatez que les 2 derniers compétiteurs sont à égalité de points pour l'accession au premier tour de la phase éliminatoire.

b) 2 compétiteurs sont à égalité de points à la 21ème place.

Dans les deux cas, comment allez-vous classer tous ces concurrents pour établir le tableau des matches du premier tour de la phase éliminatoire ?

Question 9 (3 Pts)

Lors d'un tir par équipes en Division Régionale, un archer franchit la ligne de 1m avec sa flèche sur l'arc. L'arbitre brandit le carton jaune en indiquant clairement au coach la nature de l'infraction, l'archer revient alors dans le carré de l'équipe, remet sa flèche dans le carquois puis repart au pas de tir. Au relai suivant, l'archer refait la même faute, l'arbitre brandit alors un carton rouge. Le coach proteste officiellement. Donner votre jugement.



NOM :

Prénom :

N° d'anonymat

:


Page 6 sur 16

N° d'anonymat

:

Question 10 (2 Pts)

Au cours de la saisie des résultats, un archer vous appelle et vous informe que sa 3^{ème} flèche a touché la cible avant de retomber au sol. Il vous montre selon lui l'impact sur le blason (le 9). Vous constatez la situation suivante, que faites-vous ? (2 Pts)



NOM :

Prénom :

N° d'anonymat

:

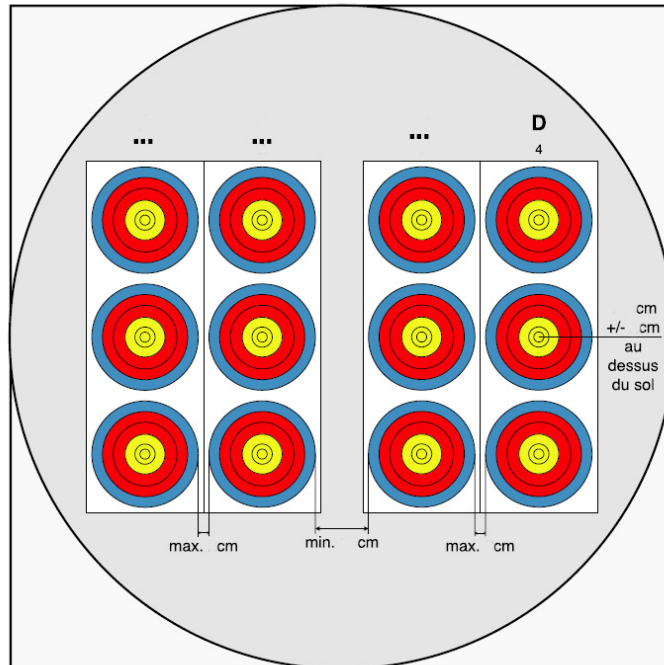
Page 7 sur 16

N° d'anonymat

:

Question 11 (2 Pts)

Complétez les valeurs manquantes (0,5 pt/bonne réponse) :



NOM :

Prénom :

N° d'anonymat

:

N° d'anonymat

:

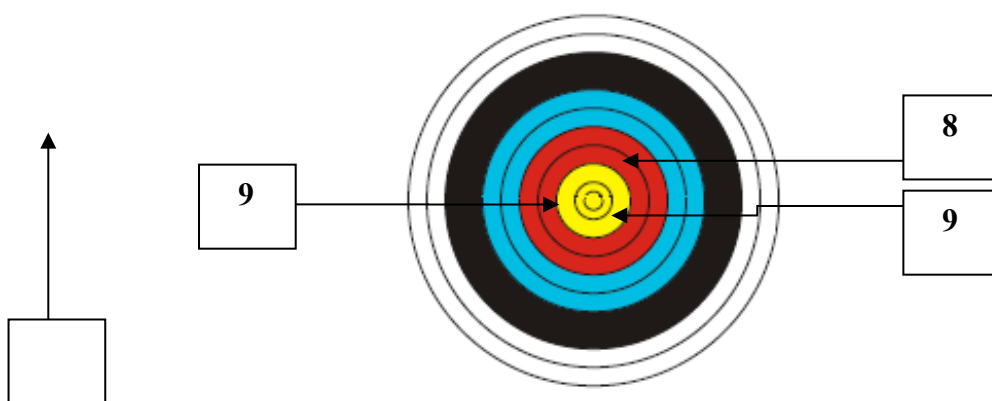
Page 8 sur 16

Question 12 (25 Pts)

Quelle est la valeur des volées ci-dessous ? soit **5 Pts par situation**

Pour chacune des 5 situations suivantes, donnez la valeur des flèches et le total de la volée en expliquant comment vous avez procédé. **Une valorisation non justifiée sera considérée comme non valable.**

Situation 1 (5 points)



Une flèche est retrouvée derrière la cible sans impact sur les flèches en cible.



NOM :

Prénom :

N° d'anonymat

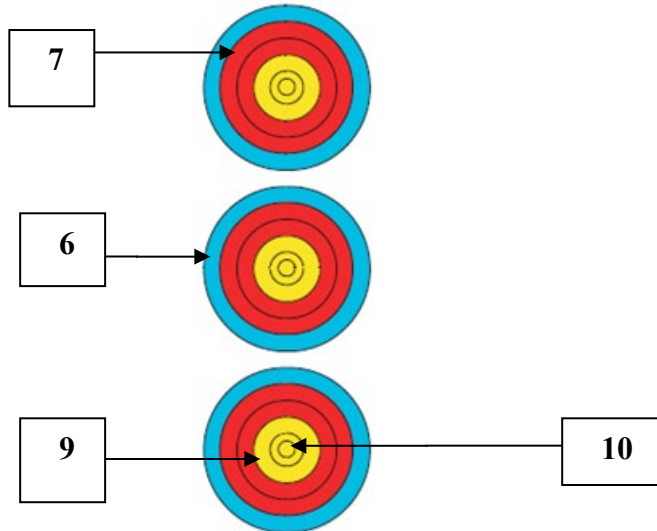
:

Page 9 sur 16

N° d'anonymat

:

Situation 2 (5 points)



Une flèche a été tirée hors temps.



NOM :

Prénom :

N° d'anonymat

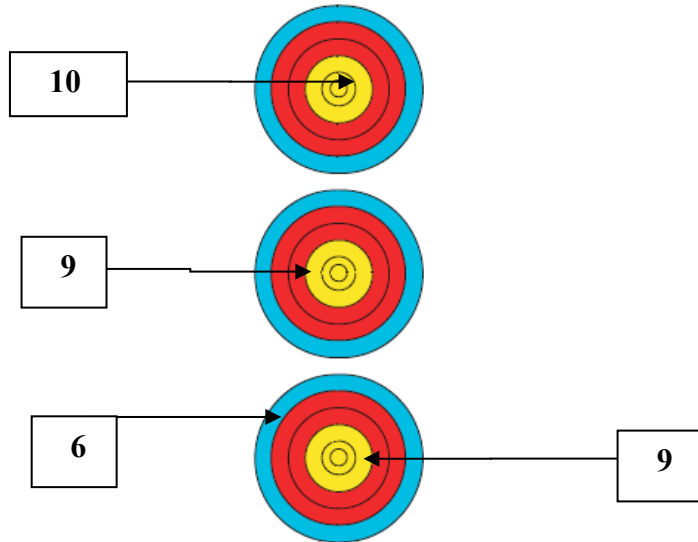
:

Page 10 sur 16

N° d'anonymat

:

Situation 3 (5 points)



NOM :

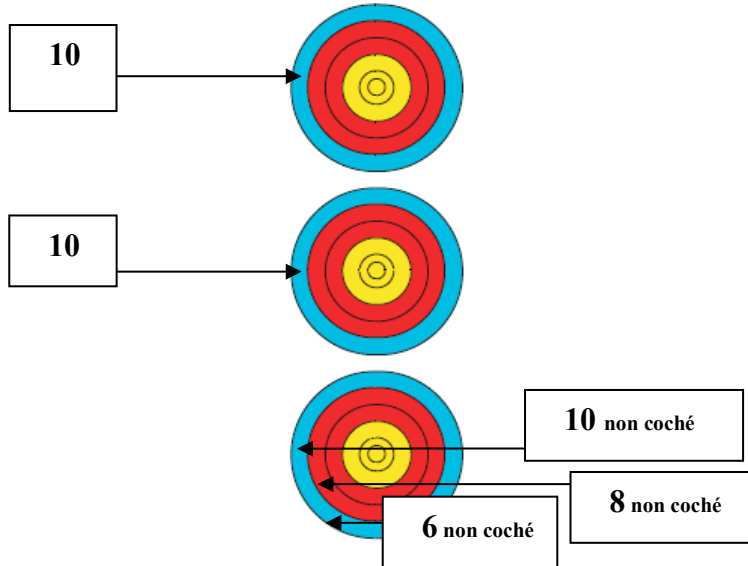
Prénom :

N° d'anonymat
:

Page 11 sur 16

N° d'anonymat
:

Situation 4 (5 points)



Une flèche ayant essuyé un refus, elle est au sol devant la cible. Il n'y a pas de flèche dans le spot du bas mais 3 impacts non cochés (valeurs indiquées) . Quelle est la valeur que vous attribuez à la volée ?



NOM :

Prénom :

N° d'anonymat

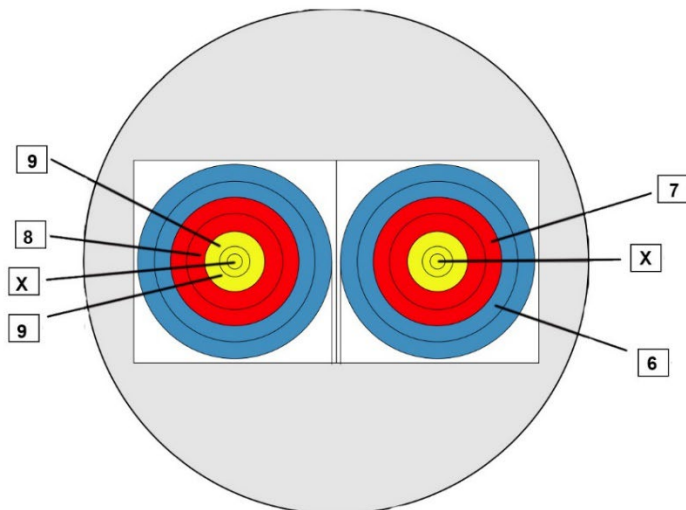
:

Page 12 sur 16

N° d'anonymat

:

Situation 5 (5 points)



Lors d'un tir par équipe pou-
lies

Le 1^{er} archer a tiré le 9 et le 8
dans le blason de gauche.

Le 2^{ème} archer a tiré le 7 et le
6 dans le blason de droite

Le 3^{ème} archer a tiré X et 9
dans le blason de gauche.

Cependant après s'être ra-
visé, il a tiré 1 flèche dans le
blason de droite (c'est un X)
mais il a tiré hors temps.

Valeur de la volée :



NOM :

Prénom :

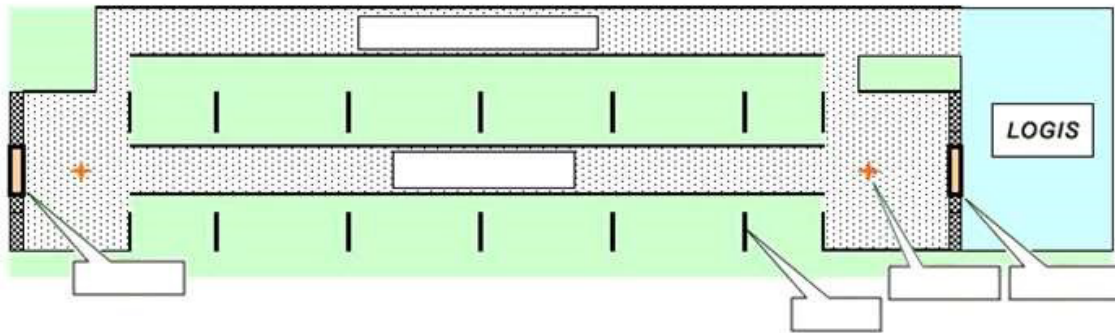
N° d'anonymat
:

Page 13 sur 16

N° d'anonymat
:

Question 13 : Beursault (20 points)

13-1 Donner les noms des différents éléments de ce Beursault. (6 pts)



NOM :

Prénom :

N° d'anonymat
:

Page 14 sur 16

N° d'anonymat
:

13-2 Un seul choix par question (10 pts : 0,5 pt par bonne réponse)

	QUESTION	VRAI	FAUX
1	En Beursault, le nombre de flèches marquantes tirées est : 40		
2	Le centre de la carte doit se situer à 1m du sol avec une tolérance de + ou - 10 cm		
3	les arcs à poulies (ou compounds) sont interdits en Beursault		
4	Sur un Bouquet Provincial, la marque se fait ainsi : honneurs, chapelets et noirs		
5	Le score maximum en Beursault est 160 points		
6	Le noir du marmot d'une carte de bouquet provincial mesure 56 mm		
7	Dans un peloton, les archers tirent toujours dans le même ordre		
8	Il n'y a pas d'incident médical en Beursault		
9	Le « jardin d'arc » est réservé aux benjamins et minimes		
10	Lors d'un tir de bouquet provincial le marqueur enregistre les points à l'arrivée de chaque flèche		
11	Dès qu'il a tiré sa flèche, l'archer se rend vers la butte opposée		
12	2 haltes d'essai sont autorisées avant le début de la compétition		
13	En Beursault, l'arc droit ne peut pas être démontable		
14	Il n'y a que 2 divisions d'arcs pour le tir au drapeau : recurve et compound		
15	Une égalité au tir au drapeau se résout d'abord par le plus petit nombre de ratés		
16	Au tir au drapeau, le temps pour une volée de 3 flèches est 2 minutes		
17	Les « dames recurve » en tir au drapeau tirent à 155 mètres		
18	Les « marmots » peuvent être gagnés sur n'importe quelle compétition Beursault		
19	En Beursault, dans la catégorie « benjamins » les filles tirent à 30 mètres		
20	Seule la catégorie « scratch » existe au Championnat de France Beursault		

13-3 En tir Beursault, un compétiteur a un problème à son viseur ; il doit s'arrêter pour le réparer.

Expliquez la procédure qu'il doit suivre. (2 POINTS)



NOM :

Prénom :

N° d'anonymat
:

Page 15 sur 16

N° d'anonymat
:

13-4 En tir Beursault, précisez quel est le rôle du garde-panton ? Où est-il positionné ? (2 POINTS)

Question 14 : Handisport (5 Pts : soit 0,5 pt/bonne réponse)

QUESTIONS	VRAI	FAUX
1- S'il veut participer à une compétition officielle de la FFTA un archer licencié FFH doit posséder en plus la licence FFTA (licence « convention handi »).		
2- La catégorie «jeunes » n'est pas ouverte en compétition FFH		
3- L'archer ayant besoin d'une assistance mécanique ou humaine doit présenter sa carte de classification à l'arbitre responsable		
4- Un archer tirant en fauteuil peut bénéficier d'un espace allant jusqu'à 1m25 de large		
5- Une aide humaine peut être accordée à un archer, dans ce cas cet assistant pourra rester derrière lui durant toute la compétition		
6- Durant le tir, un archer en fauteuil peut se servir de son fauteuil pour stabiliser son bras d'arc		
7- Les distances sont adaptées selon la saison et la catégorie de l'archer et peuvent aller de 10 à 70 mètres		
8- Lors d'une compétition TAE certaines catégories FFH prévoient un tir aux mêmes distances et blasons que la FFTA		
9- Il existe 2 types d'arcs en FFH : classique et compound		
10-Sur une compétition par équipe, l'archer en fauteuil tirera systématiquement en dernier		



NOM :

Prénom :

N° d'anonymat
:

Page 16 sur 16

N° d'anonymat
:

Question 15 :_Commune à toutes les options (10 points)

Que se passe-t-il lorsqu'un orage violent et potentiellement dangereux s'installe sur votre compétition ?

- Décisions à prendre
- Résultats

