

NOM :

Prénom :

N° d'anonymat

:

Page 1 sur 7

N° d'anonymat

:

**EXAMEN ÉCRIT D'ARBITRE FÉDÉRAL - Session 1-2021
"PASSERELLE" CIBLES ANGLAISES**

Madame, Mademoiselle, Monsieur

Cette épreuve vise à compléter les compétences relatives à l'option "Beursault" acquise afin d'obtenir l'option "Cible".

Pour répondre :

- Vous rendrez la liasse de feuilles support des questions après l'avoir complétée.
- Si les espaces dévolus aux réponses s'avéraient insuffisants vous utiliserez des feuilles blanches format A4, en repérant sans ambiguïté les questions auxquelles elles se rapportent.
- Ne rien écrire en dehors du cadre.
- Utiliser obligatoirement un stylo de couleur noire

Merci de penser aux correcteurs et d'écrire lisiblement
(une copie illisible ne sera pas corrigée)

Vos NOM et PRÉNOM doivent être portés sur toutes les feuilles réponse, **au recto et au verso**, les liasses devant être dissociées pour numérisation.

N'ÉCRIVEZ PAS DANS LES 4 CM SUPÉRIEURS DE VOS FEUILLES PERSONNELLES D'AUTRES ÉLÉMENTS QUE VOS NOM, PRÉNOM.

CES 4 CM SONT DÉTACHÉS DE LA COPIE AU MOMENT DE L'ANONYMISATION.

Les épreuves devant être "anonymes", il ne pourra être toléré de signes distinctifs apposés par le candidat arbitre sur aucune des feuilles.

Le temps alloué pour l'épreuve est de une heure (1h)

IMPORTANT

Les questions au nombre de cinq sont notées sur un total de 50 points

Toute non-réponse à une question ou à une sous question est éliminatoire

**Pour être admis, le candidat devra obtenir un minimum de 35 points, correspondant à
14/20**



NOM :

Prénom :

N° d'anonymat

:

Page 2 sur 7

N° d'anonymat

:

Question 1-1 (8 points)

Avant le début de la compétition, les arbitres vérifient l'équipement des archers :

A Parmi les situations suivantes lesquelles ne sont pas autorisées ?
(0,5 point par bonne réponse)

- 1 – deux clickers
- 2 – une nasette et une sucette
- 3 - des tubes de diamètre 9,4mm
- 4 – un poids monté sur un bare bow avec un joint caoutchouc évitant d'abimer la peinture de l'arc

Réponse : toutes

B Pour les arcs à poulies : quelle est la puissance maximale autorisée ?
(1point)

Réponse : 60lbs

C Lors du contrôle vous trouvez un arc à poulies avec une puissance supérieure à la limite autorisée. Vous demandez à l'archer de baisser sa puissance.

Êtes-vous autorisé à refaire un contrôle plus tard durant la compétition ?
(1point)

Réponse : oui

Si oui, précisez comment vous opérez ce nouveau contrôle ?
(1point)

Réponse : utiliser le même peson

Que se passe-t-il si la puissance relevée est à nouveau supérieure à la limite autorisée ? *(1point)*

Réponse : Perte des points obtenus jusqu'au moment du contrôle – disqualifié si 3° contrôle



NOM :

Prénom :

N° d'anonymat

:

Page 3 sur 7

N° d'anonymat

:

Question 1-2 (8 points)

Lors d'une épreuve par équipe régionale :

- A Dans quelles situations l'arbitre en charge d'un match (tir en simultané) est-il amené à montrer le carton jaune ? **(1 point par bonne réponse)**

Réponse : Passage de la ligne des 1 m avant le feu vert
Croisement sur ligne
Flèche sortie du carquois trop tôt
Décocheur accroché à la corde avant le passage de ligne

- B Dans quelles situations l'arbitre en charge du match est-il amené à montrer le carton rouge ? **(1 point par bonne réponse)**

Réponse : Flèche tirée alors qu'un carton jaune est montré
Flèche hors temps

- C A qui l'arbitre montre-t-il le carton jaune (si nécessaire) ? **(1 point)**

Réponse : Capitaine d'équipe

Dans le cas où l'équipe est composée d'un archer handicapé est-il autorisé à rester sur la ligne et comment le tir est-il organisé ? **(1 point)**

Réponse : Oui – il lève le bras/Go



NOM :

Prénom :

N° d'anonymat

:

Page 4 sur 7

N° d'anonymat

:

Question 1-3 (3 points)

Lors des phases éliminatoires d'un championnat départemental TAE, un archer vous signale que la 2^{ème} flèche qu'il vient de tirer a mal percuté la cible et s'y retrouve pendue. Que décidez-vous ?

Réponse : (Référence TAE B.6.2.8.)

Lors des épreuves éliminatoires et finales Arcs Classiques et Arcs à Poulies : une flèche rebondissant, passant à travers la cible ou y restant pendue n'arrête pas la compétition Je l'invite donc à continuer son tir.

Question 1.4 (6 Points)

- A- Un archer décide d'abandonner après la 11[°] volée de la phase de qualification d'une compétition sur cibles extérieures (sans duels). **(2,5 Points)**
Malgré cet abandon, le score établi le place sur le podium.
Peut-il prétendre à ce podium ou doit-il être considéré comme non classé car il n'a pas terminé la compétition ?

Réponse : Classé avec le score établi => podium possible

- B- Si pour une compétition, cette fois, avec duel, vous rencontrez le même cas de figure (l'archer arrête de tirer après la 11[°] volée) du qualificatif.
A la fin du qualificatif cet archer vient vous voir et vous demande si malgré cette volée non tirée il peut prétendre à participer aux duels ? Quelle sera alors votre réponse ? **(2,5 Points)**

Réponse : Oui, participation possible dès lors qu'au moins une flèche est tirée. Il sera classé avec son score



NOM :

Prénom :

N° d'anonymat

:

Page 5 sur 7

N° d'anonymat

:

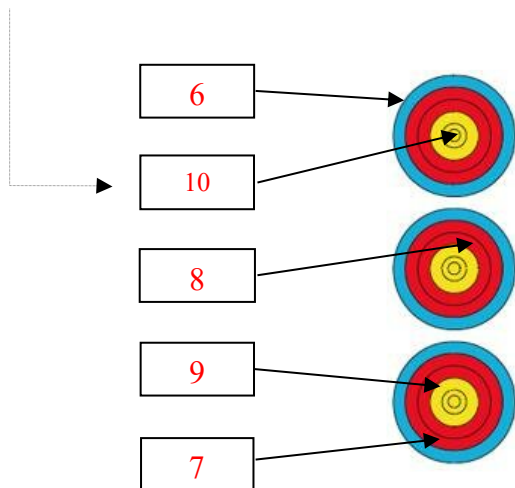
Question 1.5 (25 points)

Quelle est la valeur des volées ci-dessous ? Pour chacune des 5 situations suivantes, donnez la valeur des flèches et de la volée en expliquant comment vous avez procédé.

Une valorisation non justifiée sera considérée comme non valable.

Situation1 : 5 pts

Cette flèche a été tirée avant le signal sonore



L'archer a tiré 5 flèches, il a tiré avant le signal sonore il y a 2 flèches dans le blason du haut et 2 flèches dans celui du bas L'archer a commis 5 erreurs :

- 1) on retire la meilleure flèche du blason du haut le « 10 »*
- 2) on retire la meilleure flèche du blason du bas le « 9 »*
- 3-4)- il a tiré 5 flèches on enlève les 2 meilleures flèches restantes le « 7 et le 8 »*
- 5) il a tiré avant le signal on enlève la flèche restante le « 6 »*

Valeur de la volée : $M M M = 0$



NOM :

Prénom :

N° d'anonymat

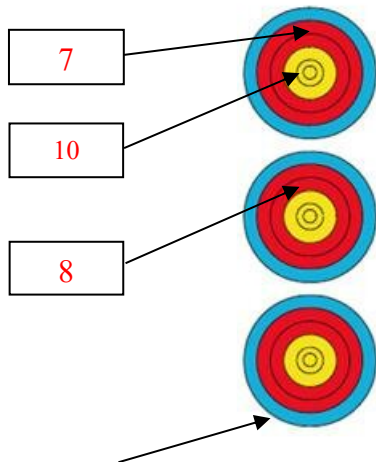
:

Page 6 sur 7

N° d'anonymat

:

Situation 2 : 5 pts



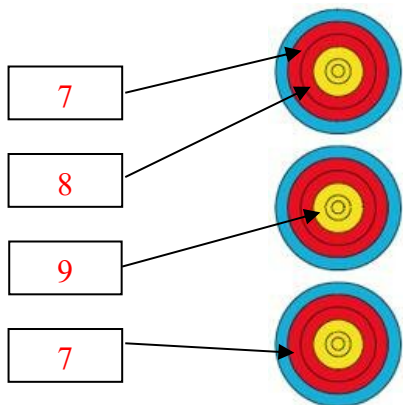
Cette flèche a été tirée hors temps et s'est plantée hors zone

L'archer a tiré 4 flèches dont une hors temps, l'archer a commis 3 erreurs :

- 1) 2 flèches dans le blason du haut on retire la meilleure flèche le « 10 »*
- 2) il a tiré 4 flèches on enlève la meilleure flèche le « 8 »*
- 3) il a tiré une flèche hors temps on enlève le « 7 »*

Valeur de la volée : $M M M = 0$

Situation 3 : 5 pts



L'archer a tiré 4 flèches, l'archer a commis 2 erreurs :

- 1) Il y a 2 flèches dans le blason du haut, on retire la meilleure flèche le « 8 »*
- 2) il a tiré 4 flèches on enlève la meilleure flèche le « 9 »*

Valeur de la volée : $7 7 M = 14$



NOM :

Prénom :

N° d'anonymat

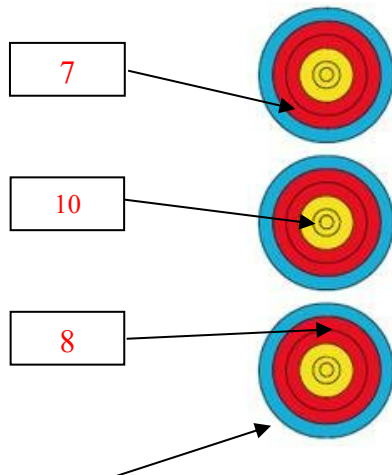
:

Page 7 sur 7

N° d'anonymat

:

Situation 4 : 5 pts



L'archer a commis 2 erreurs :

L'archer a tiré 4 flèches,

La flèche hors zone prend la valeur de la flèche percutée (8) ce qui donne 2 valeurs de flèches pour le blason du bas 8 et 8

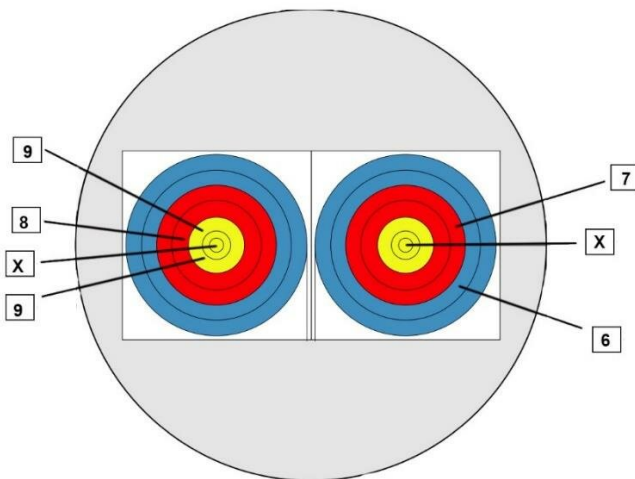
Il a tiré 2 flèches dans le blason du bas on retire un « 8 »

Il a tiré 4 flèches dans la volée on enlève la meilleure flèche le « 10 »

Cette flèche a percuté le 8 avant de se planter hors zone

Valeur de la volée : 8 7 M = 15

Situation 5 : 5 pts



Lors d'un tir par équipe poulies

Le 1^{er} archer a tiré le 9 et le 8 dans le blason de gauche.

Le 2^{ème} archer a tiré le 7 et le 6 dans le blason de droite

Le 3^{ème} archer a tiré X et 9 dans le blason de gauche. Cependant après s'être ravisé, il a tiré 1 flèche dans le blason de droite (c'est un X) mais il a tiré hors temps.

Valeur de la volée :

Il y a 3 erreurs :

- 4 flèches tirées dans le blason de gauche (il ne doit y en avoir que 3) : on enlève la meilleure flèche se trouvant dans le blason de gauche*
- 7 flèches tirées par l'équipe : on enlève la meilleure flèche des 6 restantes*
- 1 flèche tirée hors temps : on enlève la meilleure flèche des 5 restantes*

Valeur de la volée : 9-8-7-6-M-M

