

NOM :

Prénom :

N° d'anonymat  
:

Page 1 sur 8

N° d'anonymat  
:

**EXAMEN ÉCRIT D'ARBITRE FÉDÉRAL - Session 2-2021  
"PASSERELLE" CIBLES ANGLAISES**

Madame, Mademoiselle, Monsieur

Cette épreuve vise à compléter les compétences relatives à l'option "Beursault" acquise afin d'obtenir l'option "Cible".

Pour répondre :

- Vous rendrez la liasse de feuilles support des questions après l'avoir complétée.
- Si les espaces dévolus aux réponses s'avéraient insuffisants vous utiliserez des feuilles blanches format A4, en repérant sans ambiguïté les questions auxquelles elles se rapportent.
- Ne rien écrire en dehors du cadre.
- Utiliser obligatoirement un stylo de couleur noire

**Merci de penser aux correcteurs et d'écrire lisiblement**  
**(une copie illisible ne sera pas corrigée)**

Vos NOM et PRÉNOM doivent être portés sur toutes les feuilles réponse, **au recto et au verso**, les liasses devant être dissociées pour numérisation.

**N'ÉCRIVEZ PAS DANS LES 4 CM SUPÉRIEURS DE VOS FEUILLES PERSONNELLES D'AUTRES ÉLÉMENTS QUE VOS NOM, PRÉNOM.**

**CES 4 CM SONT DÉTACHÉS DE LA COPIE AU MOMENT DE L'ANONYMISATION.**

Les épreuves devant être "anonymes", il ne pourra être toléré de signes distinctifs apposés par le candidat arbitre sur aucune des feuilles.

**Le temps alloué pour l'épreuve est de une heure (1h)**

**IMPORTANT**

Les questions au nombre de cinq sont notées sur un total de 50 points

**Toute non-réponse à une question ou à une sous question est éliminatoire**

**Pour être admis, le candidat devra obtenir un minimum de 35 points, correspondant à  
14/20**



NOM :

Prénom :

N° d'anonymat  
:

Page 2 sur 8

N° d'anonymat  
:

### Question 1 (4 points)

**1-1** - Lors d'un Championnat Régional TAE individuel, en quoi consiste l'épreuve éliminatoire pour les arcs classiques ? (2 pts)

*A.7.5.1 : Pour les arcs classiques*

*L'épreuve éliminatoire dans laquelle les 32 meilleurs archers sont positionnés en fonction de leurs résultats obtenus lors de l'épreuve de qualification. Ils tirent une série de matchs. Chaque match se tire au meilleur des 5 sets de 3 flèches.*


**1-2** - Y a-t-il une différence pour les arcs à poulies ? (2 pts)

*A.7.5.2 : Ils tirent une série de matchs en duels. Chaque match se tire en 5 volées de 3 flèches (score cumulé aux points et non pas en sets).*

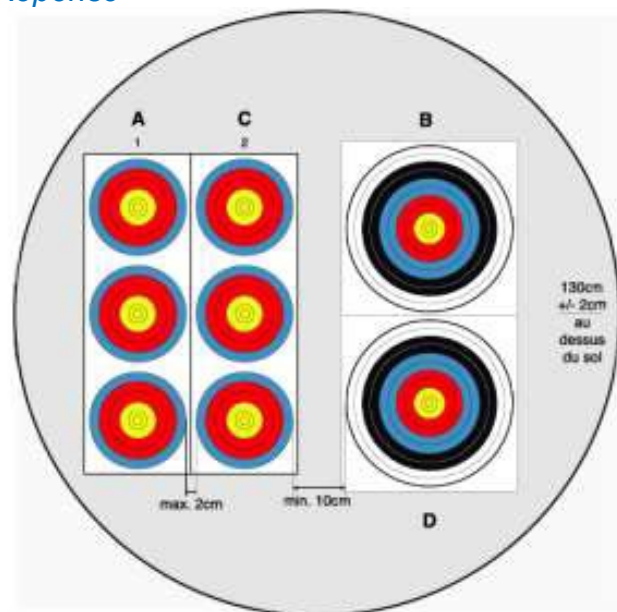
### Question 2 (4 points)

Lors d'un concours dominical, l'équipe organisatrice vous explique que sur le départ 2, rythme AB/CD, ils se retrouvent sur une même cible avec 2 arcs compounds et 1 arc classique qui tirera sur un blason de 40cm. Est-ce réglementaire ?

Si oui, dessinez la mise en place des blasons et indiquez les mesures qui s'y rapportent (hauteur blasons, écartement...).



Réponse



NOM :

Prénom :

N° d'anonymat  
:

Page 3 sur 8

N° d'anonymat  
:

**Question 3 (4 points)**

Le signal d'arrêt des tirs retentit avant la fin du temps de tir réglementaire alors qu'un archer n'a pas fini de tirer sa dernière flèche. Le DOS avoue avoir été gêné par un photographe.

\* Que faites-vous dans ce cas-là ? (2 pts)

\* Que faites-vous dans le cas où l'archer surpris par le signal sonore lâche sa flèche et fait une paille? (2 pts)

*Il est du ressort du DOS de bien vérifier que le pas de tir est entièrement dégagé avant de siffler*

*la fin de la volée (surtout avant le temps impart).*

*\* Dans le 1er cas j'accorde 40" à l'archer pour tirer sa 3ème flèche.*

*\* Dans le cas n°2, je lui réponds que je suis désolé pour lui mais que je ne peux l'autoriser à retirer sa flèche car le règlement dit qu'une flèche ne peut être tirée à nouveau sous aucun prétexte (sauf tombée dans la zone des 3 m ou que le blason se décroche ou que la cible tombe.).B.4.5.1*

**Question 4 (3 points)**

À l'issue d'un Championnat Départemental salle, deux archers se retrouvent à égalité de points. Comment les départagez-vous dans le cas :

- d'un concours sans finales ?
- pour les positionner dans l'épreuve éliminatoire ?

*B.6.5.1*

*\* plus grand nombre de 10 ;*

*\* plus grand nombre de 9*

*\* si l'égalité subsiste, les compétiteurs sont déclarés ex-æquo.*

*\* Pour des raisons de classement dans le tableau des matchs de l'épreuve éliminatoire, un tirage au sort décidera de la place.*



NOM :

Prénom :

N° d'anonymat  
:

Page 4 sur 8

N° d'anonymat  
:

**Question 5 (5 points)**

À l'aide d'un tableau, indiquer les blasons et distances par catégorie et arme sur une compétition sélective pour la Coupe de France de TAE (50 M + Disciplines Internationales et Olympique)

Tableau n°3 :

Catégories	Distances et blasons sélectifs pour la Coupe de France de Tir à l'Arc Extérieur							
	TAE 50 m sur blason de 122cm				TAE Disciplines Internationale et Olympique			
	Arc Classique		Arc à Poulies		Arc Classique		Arc à Poulies	
	Distances	Blasons	Distances	Blasons	Distances	Blasons	Distances	Blasons
Juniors	50 m	122 cm	50 m	122 cm				
Seniors 1	50 m	122 cm	50 m	122 cm	70 m	122 cm	50 m	80 cm (5-X)
Seniors 2	50 m	122 cm	50 m	122 cm	70 m	122 cm	50 m	80 cm (5-X)
Seniors 3	50 m	122 cm	50 m	122 cm	60 m	122 cm	50 m	80 cm (5-X)

**Question 6 (3 points)**

Au cours d'une compétition TAE, vous êtes appelé pour un jugement de cordon, en vous avançant vers la cible vous trouvez une flèche à 3 mètres devant la cible en question. Cette flèche n'a pas été déclarée perdue lors de l'entraînement et il y a 6 flèches identiques en cible appartenant à l'archer. Quelle sera votre réaction ?

*B.8.2.6 : Si plus de 3 flèches (ou 6 flèches selon le cas) appartenant au même archer se trouvent dans la cible ou sur le sol dans les couloirs de tir, seules les 3 ou 6 flèches les plus mauvaises seront comptabilisées.*

*Après avoir rayé le score de la meilleure flèche sur la feuille de marque et l'avoir remplacé par un « M » (manqué) l'arbitre apposera sa signature.*



NOM :

Prénom :

N° d'anonymat  
:

Page 5 sur 8

N° d'anonymat  
:

**Question 7 (2 points)**

Ce blason appelé « Vegas » est-il autorisé sur les compétitions nationales ou, comme son nom l'indique, uniquement sur les championnats « made in USA » (ou internationaux).



*Ce blason, à l'instar d'un blason triple vertical, est réglementaire et peut être utilisé sur toute compétition sélective organisée par la FFTA. (Regl Tir en salle – annexes)*

**Question 8 (3 points)**

Vous arbitrez un barrage entre 2 archers arcs classiques sur un TAE. En arrivant aux cibles, vous constatez qu'ils ont tous les deux fait un « 10 » comment allez-vous juger ?

*B.6.5.2.2 : TAE*

*✓ Un seul tir de barrage d'une flèche, pour le score (1Pt)*

*✓ Si l'égalité subsiste, la flèche la plus près du centre donne la victoire. (1Pt)*

*✓ Si l'égalité subsiste encore, on répète le barrage avec la flèche la plus près du centre jusqu'à résolution de l'égalité. (1Pt)*

*✓ Si les deux archers manquent la zone marquante de la cible, tous deux tireront une flèche supplémentaire ;*

**Question 9 (2 points)**

Au cours des tirs par équipes d'une épreuve de DR, vous êtes amené à donner un carton jaune pour mauvais franchissement de la ligne des 1m. Le coach de l'équipe sanctionnée n'est pas d'accord et à l'issue du match, il vient vous annoncer son intention de faire appel. Quelle sera la procédure ?

*J'annonce au coach qu'il n'y a pas de procédure à engager car lors des épreuves par équipes, la décision prise par un arbitre concernant l'utilisation du carton jaune (Cf. article B.8.3.1) est sans appel possible (B.10.7)*



NOM :

Prénom :

N° d'anonymat  
:

Page 6 sur 8

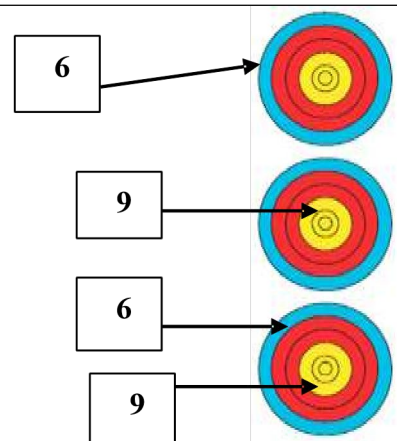
N° d'anonymat  
:

**Question 10 (20 points)**

Quelle est la valeur des volées ci-dessous ? Pour chacune des 4 situations suivantes, donnez la valeur des flèches et de la volée en justifiant votre décision.

**Attention, une valorisation non justifiée sera considérée comme non valable.**

La flèche dans le 9 en bas a été tirée hors temps.



*L'archer a tiré 4 flèches dont une hors temps, il y a deux flèches dans le blason du bas : l'archer a commis 3 erreurs:*

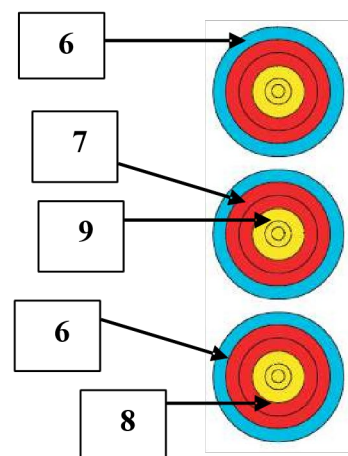
*1 on retire la meilleure flèche du blason du bas le 9*

*2 il a tiré 4 flèches on enlève la meilleure flèche qui reste de la volée soit le 9.*

*3 il a tiré une flèche hors temps on enlève le 6.*

*Valeur de la volée : 6 M M = 6*

La flèche dans le 9 a été tirée avant le signal sonore de début de volée.



NOM :

Prénom :

N° d'anonymat

:

Page 7 sur 8

N° d'anonymat

:

*L'archer a tiré 5 flèches, il en a tiré une avant le signal sonore, il y a 2 flèches dans le blason du milieu et 2 flèches dans celui du bas. L'archer a commis 5 erreurs :*

*1 on retire la meilleure flèche du blason du milieu le 9*

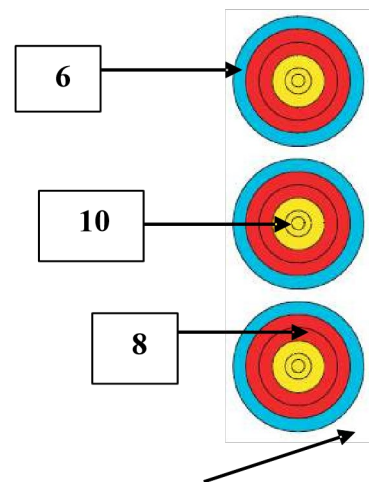
*2 on retire la meilleure flèche du blason du bas le 8*

*3 il a tiré 5 flèches on enlève les 2 meilleures flèches restantes le 6 et le 7*

*4 il a tiré avant le signal on enlève la meilleure flèche restante le 6*

*Valeur de la volée : M M M = 0*

La flèche en bas a percuté le 8 avant de se planter hors zone



*L'archer a commis 2 erreurs :*

*L'archer a tiré 4 flèches, La flèche hors zone prend la valeur de la flèche percutée 8 ce qui donne 2 valeurs de flèches pour le blason du bas*

*1 Il a tiré 2 flèches dans le blason du bas on retire un 8*

*2 il a tiré 4 flèches dans la volée on enlève la meilleure flèche le 10*

*Valeur de la volée : 8 6 M = 14*



