

NOM :

Prénom :

N° d'anonymat :

Page 1 sur 8

N° d'anonymat :

**EXAMEN ÉCRIT D'ARBITRE FÉDÉRAL - Session 1-2022
OPTION TIR EN CAMPAGNE**

Madame, Mademoiselle, Monsieur

Cette épreuve concrétise les compétences relatives aux modules TIR EN CAMPAGNE acquises au cours de votre formation d'Arbitre Fédéral.

Si vous remplissez ce questionnaire c'est que vous êtes titulaire des modules X et XIV des formations d'Arbitres Fédéraux, félicitations et bon travail.

La C.N.A.

Pour répondre :

- Vous rendrez la liasse de feuilles support des questions après l'avoir complétée.
- Si les espaces dévolus aux réponses s'avéraient insuffisants vous utiliserez des feuilles blanches format A4, en repérant sans ambiguïté les questions auxquelles elles se rapportent.
- Ne rien écrire en dehors du cadre.
- Utiliser obligatoirement un stylo de couleur noire

***Merci de penser aux correcteurs et d'écrire lisiblement
(une copie illisible ne sera pas corrigée)***

Vos NOM et PRÉNOM doivent être portés sur toutes les feuilles réponse, **au recto et au verso**, les liasses devant être dissociées pour numérisation.

**N'ÉCRIVEZ PAS DANS LES 4 CM SUPÉRIEURS DE VOS FEUILLES
PERSONNELLES D'AUTRES ÉLÉMENTS QUE VOS NOM, PRÉNOM. CES 4 CM
SONT DÉTACHÉS DE LA COPIE AU MOMENT DE L'ANONYMISATION.**

Les épreuves devant être totalement "anonymes", il ne pourra être toléré de signes distinctifs apposés par le candidat arbitre sur aucune des feuilles.

Le temps alloué pour l'épreuve est de deux heures (2h)

IMPORTANT

Toute non-réponse à une question ou à une sous question est éliminatoire

**Pour être admis, le candidat devra obtenir un minimum de 70 points,
correspondant à 14/20**



NOM :

Prénom :

N° d'anonymat :

Page 2 sur 8

N° d'anonymat :

A – Questions diverses (28 points)

- Citez les catégories qui tirent au piquet bleu : (5 points)

- Quel(s) blason(s) peut-on trouver à 20 m : (2 points)

20 cm

40 cm

60 cm

80 cm

- Quel(s) blason(s) peut-on trouver à 30 m : (2 points)

20 cm

40 cm

60 cm

80 cm

- Quel(s) blason(s) peut-on trouver à 40 m : (2 points)

20 cm

40 cm

60 cm

80 cm

- Quel est le score maximal lors d'un concours sur 24 Cibles (12 connues + 12 inconnues) ? (2 points)



NOM :

Prénom :

N° d'anonymat :

Page 3 sur 8

N° d'anonymat :

- Combien de zones de score comporte un blason de tir campagne de 60 cm : (2 points)

5

6

7

- Lorsque je chronomètre un peloton, je me positionne : (2 points)

Derrière l'arbre le plus proche

Devant les archers

De côté afin que je puisse les voir correctement et qu'ils puissent me voir

- Lors d'un championnat de France, lorsque je chronomètre des duels, comment j'indique les 30 secondes : (2 points)

Je siffle un coup

Je lève mon carton jaune

Si les archers le désirent, j'annonce "30"

- Quel est la tolérance de distance pour une cible située à 15m : (2 points)

- Un organisateur, pour des contraintes de place, ne peut pas placer la cible en distance connue à 40 m mais à 38,5 m. Peut-il le faire ? Argumentez. (5 points)

- Un organisateur fait le plein sur son concours. Il doit ajouter des pelotons bis. Le peloton 12 bis doit se positionner à la cible : (2 points)

12

13

Entre les deux



NOM :

Prénom :

N° d'anonymat :

Page 4 sur 8

N° d'anonymat :

B – Etude de cas (22 points)

1) En arrivant au pas de tir d'une cible avec des blasons de 20cm, les deux premiers archers tirent sur les blasons des deuxième et troisième colonnes. Que faites-vous ? (5 points)

2) Alors que vous chronométrez les archers sur une cible longue de 80, vous vous apercevez en vous retournant que les archers d'un précédent peloton qui sont deux cibles plus loin ne tirent pas du même côté du piquet que lors du passage à votre cible. Ils tirent désormais sur des blasons de 40 cm. Que faites-vous ? (8 points)

3) Un archer junior (U21) est classé premier dans sa catégorie et cinquième au classement national scratch. A quel championnat de France peut-il participer ? (4 points)

4) Il fait beau et le soleil encore bas, alors que vous chronométrez les archers à une cible, un concurrent vient au pas de tir à la demande d'un des tireurs et procure une ombre à l'archer à l'aide d'une casquette. Que faites-vous ? (5 points)



NOM :

Prénom :

N° d'anonymat :

Page 5 sur 8

N° d'anonymat :

C - Affirmations (25 points)

vrai faux

1	Un poussin avec un arc classique en dernière année (10 ans) surclassé peut faire du tir en campagne au piquet blanc		
2	Lors d'un championnat les archers peuvent s'entraîner sur les parcours installés pour la compétition		
3	Il doit y avoir au minimum 15cm entre le bas de la zone marquante du blason et le sol.		
4	Sur le terrain d'entraînement d'un concours dominical, un archer peut être en tongs		
5	En campagne 4 catégories d'arc sont reconnues		
6	Les fûts multicolores et les marques de fabrique sur la face interne de la branche supérieur sont autorisés en arc nu		
7	Un concours valable pour le classement national comprend 24 cibles inconnues.		
8	Au piquet rouge en distance inconnue sur blason de 60 la fourchette des distances est de 25 à 45 mètres		
9	Aux distances connues le piquet bleu un blason de 40 doit se trouver à 15-20-25 mètres		
10	Les fûts multicolores et les marques de fabrique sur la face interne de la branche supérieur sont autorisés en arc classique		
11	Un archer peut tirer à 0.80 mètre à droite du piquet.		
12	Un archer peut prendre des photos avec son téléphone après que tous les archers aient tiré.		
13	Les fûts multicolores et les marques de fabrique sur la face interne de la branche supérieur sont autorisés en arc à poulies		
14	Un temps de 30 minutes est accordé à un archer pour résoudre un problème matériel		
15	Il n'y a que 15 minutes pour un problème médical lors des épreuves finales		
16	Si mon arc se brise je peux emprunter celui de mon adversaire direct		
17	Lors d'un concours dominical, le départage des égalités se fait au nombre de 6 puis au nombre de 5		
18	Le temps de tir pour une équipe est de 9 minutes		
19	Un archer a 30 minutes pour se présenter à un barrage après l'annonce de celui-ci		
20	Un archer peut déposer un appel écrit après 15 minutes que les tirs soient finis		
21	Au piquet bleu le total des distances inconnues doit être compris entre 300 et 330 mètres		
22	Le piquet orange doit être présent à toutes les cibles uniques de 60 et 80 s'il y a des benjamins sur la compétition		
23	Le classement national des équipes se fait sur la moyenne des 2 meilleurs scores de celle-ci		
24	Sur blason unique les équipes tirent 6 flèches dans la cible 2 par archers en sélectif		
25	Un archer peut tirer à genoux		



NOM :

Prénom :

N° d'anonymat :

Page 6 sur 8

N° d'anonymat :

D - valeurs de flèches (15 points)

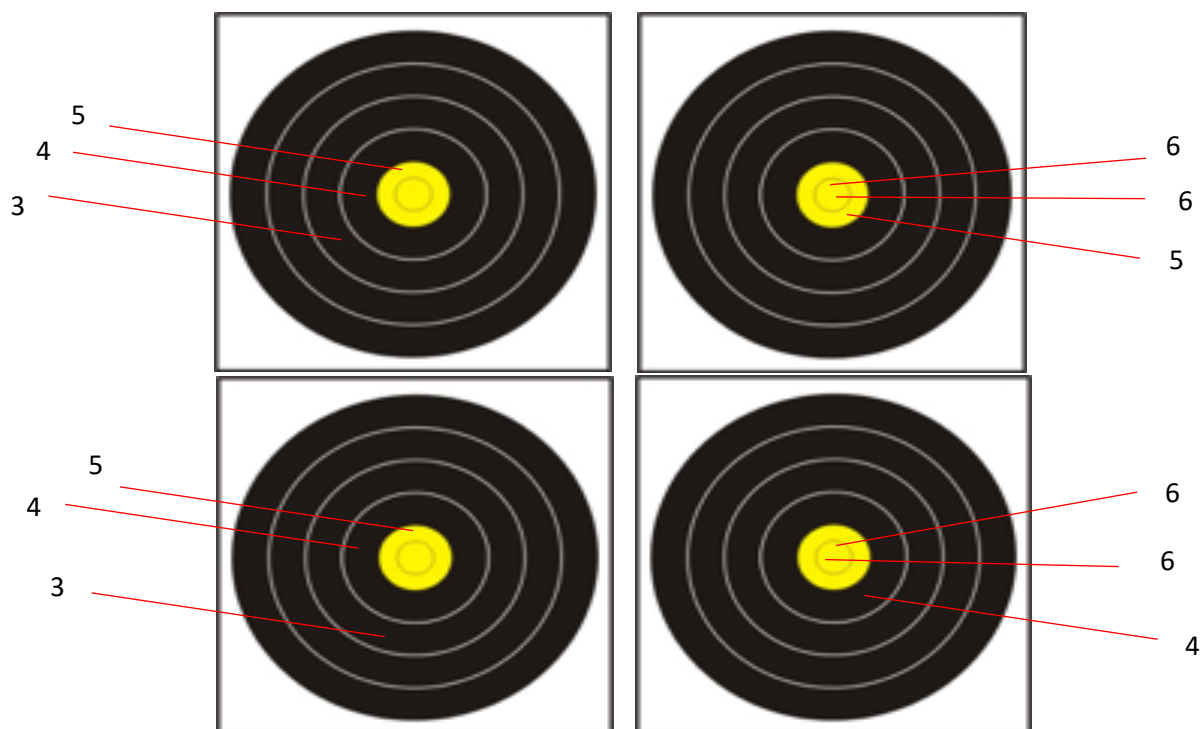
Situation A : Donnez la valeur de cette volée pour chaque archer et expliquez comment vous avez procédé : (5 points)

l'archer A a tiré sur le blason du bas à gauche

l'archer B a tiré sur le blason du haut à droite, mais 1 flèche en dépassement de temps, (il en avait déjà 2 avertissements).

l'archer C a tiré sur le blason du haut à gauche et une flèche hors temps (il avait déjà 1 seul avertissement)

l'archer D a tiré sur le blason du bas à droite



NOM :

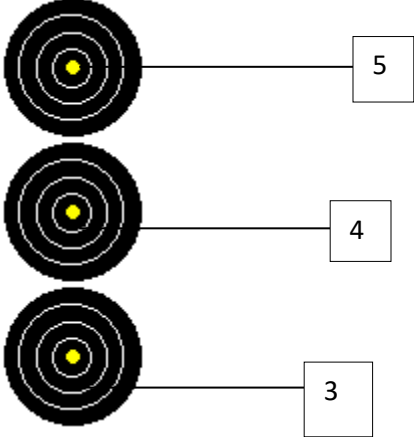
Prénom :

N° d'anonymat :

Page 7 sur 8

N° d'anonymat :

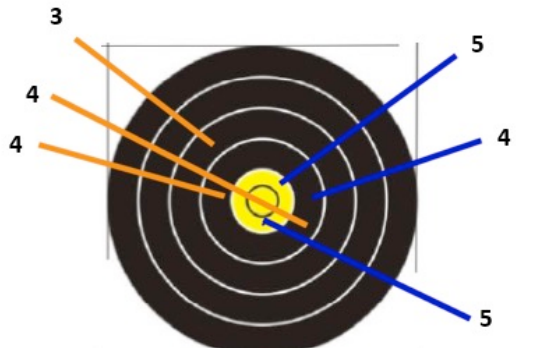
Situation B (5 points)



L'arbitre, pas très éloigné de la cible, a vu de façon très nette que la flèche, avant de se planter dans le 3, a ricoché sur un rocher placé à 1 m de la butte de tir

Situation C (5points) Donnez les points des archers A et B.

ARCHER A ARCHER B



Archer A : 3 flèches tirées en 3 minutes

Valeur des flèches : 3, 4, 4

Archer B : 3 flèches dont la dernière hors temps, c'est le premier dépassement de temps de l'archer



NOM :

Prénom :

N° d'anonymat :

Page 8 sur 8

N° d'anonymat :

Commune à toutes les options (10 points)

Votre président de club, content maintenant de disposer d'un arbitre dans son club à la suite de votre réussite à l'examen, veut organiser sa première compétition. Il vous demande de l'aider à préparer le mandat de cette compétition

Quelles sont les indications qui doivent y figurer ?

