

NOM :

Prénom :

N° d'anonymat

:

N° d'anonymat

:

Page 1 sur 12

**EXAMEN ÉCRIT D'ARBITRE FÉDÉRAL - Session 1-2022
OPTION CIBLES**

Madame, Mademoiselle, Monsieur

Cette épreuve concrétise les compétences relatives aux modules CIBLES acquises au cours de votre formation d'Arbitre Fédéral.

Si vous remplissez ce questionnaire c'est que vous êtes titulaire des modules VI, VII, IX et XIII des formations d'Arbitres Fédéraux, félicitations et bon travail.

La C.N.A.

Pour répondre :

- Vous rendrez la liasse de feuilles support des questions après l'avoir complétée.
- Si les espaces dévolus aux réponses s'avéraient insuffisants vous utiliserez des feuilles blanches format A4, en repérant sans ambiguïté les questions auxquelles elles se rapportent.
- Ne rien écrire en dehors du cadre.
- Utiliser obligatoirement un stylo de couleur noire

**Merci de penser aux correcteurs et d'écrire lisiblement
(une copie illisible ne sera pas corrigée)**

Vos NOM et PRÉNOM doivent être portés sur toutes les feuilles réponse, **au recto et au verso**, les liasses devant être dissociées pour numérisation.

N'ÉCRIVEZ PAS DANS LES 4 CM SUPÉRIEURS DE VOS FEUILLES PERSONNELLES D'AUTRES ÉLÉMENTS QUE VOS NOM, PRÉNOM.

CES 4 CM SONT DÉTACHÉS DE LA COPIE AU MOMENT DE L'ANONYMISATION.

Les épreuves devant être complètement "anonymes", il ne pourra être toléré de signes distinctifs apposés par le candidat arbitre sur aucune des feuilles.

Le temps alloué pour l'épreuve est de deux heures (2h)

IMPORTANT

Les questions sont regroupées en quatre groupes plus une question commune à toutes les options :

- Groupes de questions de 1 à 12 notées sur 90 points
- Question 13, commune à toutes les options, notée sur 10 points
soit un total maximum de 100 points

Toute non-réponse à une question ou à une sous question est éliminatoire

**Pour être admis, le candidat devra obtenir un minimum de 70 points, correspondant à
14/20**



NOM :

Prénom :

N° d'anonymat

:

N° d'anonymat

:

Page 2 sur 12

Question 1 : Contrôle du matériel (6 Pts 1 point par bonne réponse)

Avant le début de la compétition, les arbitres vérifient l'équipement des archers – indiquer par oui ou par non si ces situations sont autorisées

Situation rencontrée	Autorisée : OUI/NON
L'archer se présente en tongs, car il fait très chaud	
Un arc classique équipé de deux cliqueurs	
Un arc classique d'initiation avec tir par l'intérieur de la poignée	
Un arc à poulie avec tir par l'intérieur de la poignée	
Un arc classique équipé d'un stop corde : la corde ne touche pas le stop corde en position de repos	
Un arc nu avec un poids monté sur la poignée avec un gros joint caoutchouc	

Question 2 : Tir par équipe (8 Pts)

A Reproduisez ci-dessous une feuille de marque (1/8 finale) pour une équipe en arc classique (3 points)



NOM :

Prénom :

N° d'anonymat

:

N° d'anonymat

:

Page 3 sur 12

B Reproduisez ci-dessous une feuille de marque pour une équipe mixte en arc à poulies
(3 points)

C En tir par équipe, une équipe est constituée de 3 archers plus un remplaçant
(2points)

C1- Le remplaçant est-il autorisé à entrer en jeu au milieu d'une volée en cas de problème technique rencontré par un de ses camarades ?

C2- Le remplaçant est-il autorisé à entrer en jeu sur la dernière volée du match ?



NOM :

Prénom :

N° d'anonymat

:

N° d'anonymat

:

Page 4 sur 12

Question 3 : Catégories et blasons pour le tir en salle (6 points)

Indiquer à l'aide d'un tableau les catégories ouvertes pour un tir en salle en précisant pour chaque catégorie la taille du blason et la (les) distance(s) possible(s)



NOM :

Prénom :

N° d'anonymat

:

N° d'anonymat

:

Page 5 sur 12

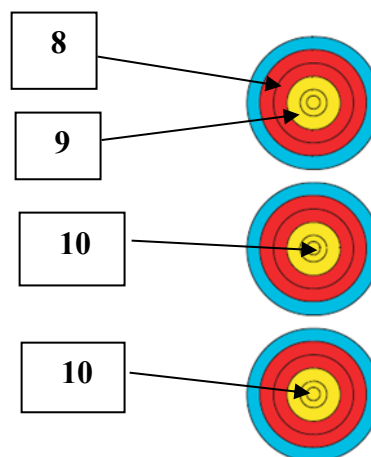
Question 4 : Situations et valeurs des volées (25 Pts)

Quelle est la valeur des volées ci-dessous ? soit **5 Pts par situation**

Pour chacune des 5 situations suivantes, donnez la valeur des flèches et le total de la volée en expliquant comment vous avez procédé. **Une valorisation non justifiée sera considérée comme non valable.**

Situation 1 (5 points)

La flèche de valeur 10 dans le spot du milieu a été tirée hors temps.



NOM :

Prénom :

N° d'anonymat

:

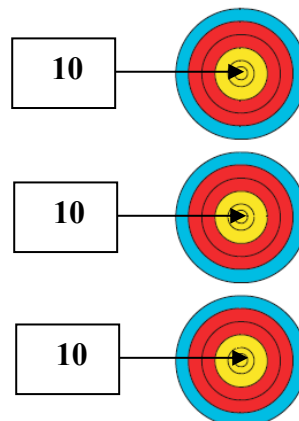
N° d'anonymat

:

Page 6 sur 12

Situation 2 (5 points)

Une quatrième flèche est trouvée au sol, l'encoche de la flèche dans le spot du haut est cassée

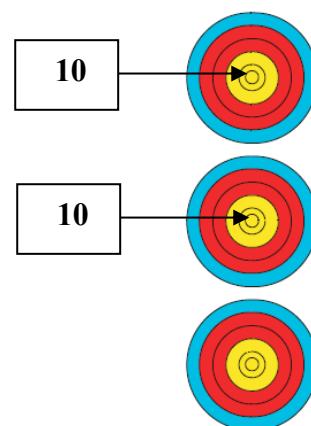


Flèche au sol



Situation 3 (5 points)

Une flèche est trouvée au sol. L'encoche de la flèche dans le spot du milieu est cassée



Flèche au sol



NOM :

Prénom :

N° d'anonymat

:

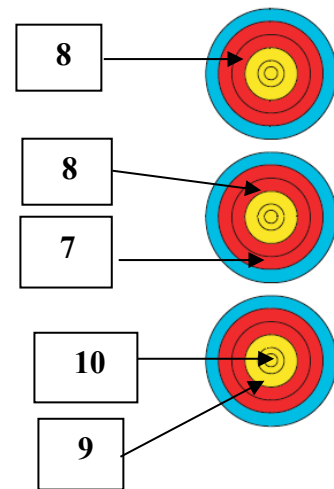
Page 7 sur 12

N° d'anonymat

:

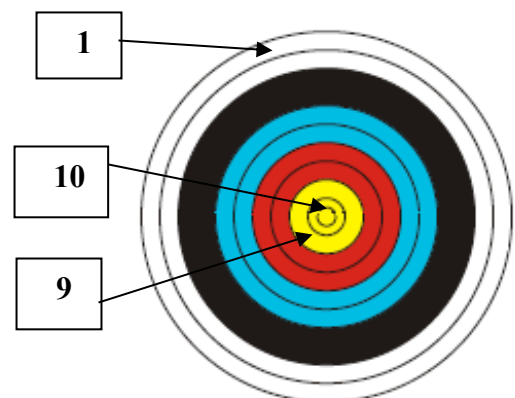
Situation 4 (5 points)

La dernière flèche est tirée après le signal sonore



Situation 5 (5 points)

L'encoche de la flèche dans le 10 est cassée



NOM :

Prénom :

N° d'anonymat

:

N° d'anonymat

:

Page 8 sur 12

Question 5 : (5 Pts)

Quel est la composition, le rôle et le fonctionnement d'un jury d'appel

Question 6 (5 Pts)

Quelles sont les cas où une flèche est considérée comme non tirée ?
Détailler les circonstances de ces situations



NOM :

Prénom :

N° d'anonymat

:

Page 9 sur 12

N° d'anonymat

:

Question 7 (5 Pts)

Lors d'une compétition dominicale avec duels, l'organisateur décide de faire tirer la finale S1HCI en tir alterné. Un archer, peu habitué à cet exercice vous demande de lui expliquer le déroulement d'un match individuel et alterné. Que lui expliquez-vous ?

Question 8 (5 Pts)

L'organisateur de la compétition que vous devez arbitrer lors du prochain Week end vous appelle et vous demande comment faire pour équerrer le terrain ? Que lui répondez-vous ?
(3 pts)

Il vous indique également qu'en parcourant le règlement il n'a vu aucune tolérance pour la ligne des 3 mètres et vous demande conseil pour tracer cette ligne. Que lui répondez-vous ?
(2pts)



NOM :

Prénom :

N° d'anonymat

:

N° d'anonymat

:

Page 10 sur 12

Question 9 (5 Pts)

Vous contrôlez les blasons mis à disposition par l'organisateur avant une compétition. Quelles sont les tolérances qui doivent être respectées pour les différentes zones de point des blasons – comment les blasons sont-ils mesurés et ces tolérances vérifiées (3points)

Vous trouvez des différences de couleurs de bleu entre plusieurs rouleaux, comment réagissez-vous ? (2 pts)

Question 10 (5 Pts)

Vous arbitrez un match par équipe en salle à 18m. A l'issue de ce match, les deux équipes se retrouvent à égalité. Un barrage est nécessaire pour déterminer le vainqueur :

Comment placez-vous les blasons pour ce tir de barrage ? (3 points)

Quels sont les consignes que vous donnez aux deux équipes ? (2 points)



NOM :

Prénom :

N° d'anonymat

:

N° d'anonymat

:

Page 11 sur 12

Question 11 (5 Pts)

Lors d'un TAE international avec des duels qui démarrent au 1/16 de finale, l'organisateur réalise le classement à l'issue du tir qualificatif et vous demande comment départager les archers à égalité

Deux archers à égalité de points à la 9° et 10° place (2,5pts)

Deux archers à égalité de points à la 32° et 33° place (2,5pts)

Question 12 En tir Beursault (10 Pts) (1 point/bonne réponse)

A quelle hauteur du sol se situe la carte (blason) ?	
Combien d'archer constituent en général un peloton ?	
Les archers doivent-ils toujours tirer dans le même ordre ?	
Combien y a t'il de halte d'essai avant le début d'une compétition ?	
Combien de haltes marquantes sont tirées durant une compétition ?	
Sous quelles conditions une flèche tombée est considérée comme non tirée ?	
Comment se positionne l'archer sur le pas de tir ?	
Combien de points vaut le « noir » en tir de bouquet ?	
Combien de points sont attribués pour une flèche qui touche le cordon extérieur de la carte ?	
Combien de temps dispose-t-on pour tirer une flèche ?	



NOM :

Prénom :

N° d'anonymat

:

Page 12 sur 12

N° d'anonymat

:

Question 13 : Commune à toutes les options (10 points)

Votre président de club, content maintenant de disposer d'un arbitre dans son club à la suite de votre réussite à l'examen, veut organiser sa première compétition. Il vous demande de l'aider à préparer le mandat de cette compétition
Quels sont les indications qui doivent y figurer ?

