

TIR EN CAMPAGNE SESSION AVRIL 2022

A – Questions diverses (28 + 2 points de bonus)

- Citez les catégories qui tirent au piquet bleu : (5 + 2 avec U)
 - Cadets (U18) Arc Classique
 - Cadets (U18) Arc Poulies
 - Juniors (U21) Arc nus
 - Senior 1 Arc Nus
 - Senior 2 Arc Nus
 - Senior 3 Arc Nus
 - Senior 1 Arc Chasse (jusqu'au championnat régional)

- Quel(s) blason(s) peut-on trouver à 20 m : (2 points)
 - 20 cm
 - 40 cm
 - 60 cm
 - 80 cm

- Quel(s) blason(s) peut-on trouver à 30 m : (2 points)
 - 20 cm
 - 40 cm
 - 60 cm
 - 80 cm

- Quel(s) blason(s) peut-on trouver à 40 m : (2 points)
 - 20 cm
 - 40 cm
 - 60 cm
 - 80 cm

- Quel est le score maximal lors d'un concours sur 24 Cibles (12 connues + 12 inconnues) ? (2 points)
432 points

- Combien de zones de score comporte un blason de tir campagne de 60 cm : (2 points)
 - 5
 - 6
 - 7

- Lorsque je chronomètre un peloton, je me positionne : (2 points)
 - Derrière l'arbre le plus proche
 - Devant les archers
 - De côté afin que je puisse les voir correctement et qu'ils puissent me voir

- Lors d'un championnat de France, lorsque je chronomètre des duels, comment j'indique les 30 secondes : (2 points)
 - Je siffle un coup
 - Je lève mon carton jaune
 - Si les archers le désirent, j'annonce "30"

- Quel est la tolérance de distance pour une cible située à 15m (2 points)
+/- 25 cm

- Un organisateur, pour des contraintes de place, ne peut pas placer la cible en distance connue à 40 m mais à 38,5 m. Peut-il le faire ? Argumentez. (5 points)

La tolérance est de 1m, mais le règlement permet d'aller jusqu'à 2m. Il suffit à l'organisateur d'indiquer la distance exacte sur le piquet

- Un organisateur fait le plein sur son concours. Il doit ajouter des pelotons bis. Le peloton 12 bis doit se positionner à la cible : (2 points)

12

13

Entre les deux

B – Etude de cas (22 points)

- 1) En arrivant au pas de tir d'une cible avec des blasons de 20cm, les deux premiers archers tirent sur les blasons des deuxième et troisième colonnes. Que faites-vous ? (5 points)

Rien tant que les autres archers n'ont pas tous tiré, sauf si l'archer de gauche du second binôme de tir ne demande d'enlever les flèches de ses spots. Avant de retirer lesdites flèches il faut noter les points de l'archer qui a bien tiré dans la 3^{ème} colonne.

Si aucun archer ne se plaint laisser le second binôme tirer et veiller à ce qu'ils marquent les points des bonnes colonnes, le tireur A doit avoir MMM sur sa feuille de marque, il aurait dû tirer dans la colonne la plus à gauche.

- 2) Alors que vous chronométrez les archers sur une cible longue de 80, vous vous apercevez en vous retournant que les archers d'un précédent peloton qui sont deux cibles plus loin ne tirent pas du même côté du piquet que lors du passage à votre cible. Ils tirent désormais sur des blasons de 40 cm. Que faites-vous ? (8 points)

- Regarder le numéro de peloton du départ

- Si les archers sont à la bonne place, on ne fait rien, s'ils ne sont pas à la bonne place (entre droite et gauche du piquet) annulation des points (MMM) car ils n'ont pas tiré dans les bons blasons.

- 3) Un archer junior (U21) est classé premier dans sa catégorie et cinquième au classement national scratch. A quel championnat de France peut-il participer ? (4 points)

Les Juniors(U21) devront choisir :

• Soit s'inscrire pour le championnat de France « jeunes »

• Soit s'inscrire pour le championnat de France Elite « Toutes catégories »

En aucun cas ils ne pourront participer aux 2 championnats.

- 4) Il fait beau et le soleil encore bas, alors que vous chronométrez les archers à une cible, un concurrent vient au pas de tir à la demande d'un des tireurs et procure une ombre à l'archer à l'aide d'une casquette. Que faites-vous ? (5 points)

Rien B.7.2.5 : En cas de soleil aveuglant, une ombre protectrice, de la taille maximale d'une feuille de papier de format A4 (environ 30cm x 20cm), peut être fournie par les autres concurrents du peloton ou sera mise en place par l'organisateur.

Aucune protection n'est autorisée lors des matchs, aussi bien pour les individuels que pour les équipes.

C) Affirmations (25 points)

vrai faux

1	Un poussin avec un arc classique en dernière année (10 ans) surclassé peut faire du tir en campagne au piquet blanc	x	
2	Lors d'un championnat les archers peuvent s'entraîner sur les parcours installés pour la compétition		x
3	Il doit y avoir au minimum 15cm entre le bas de la zone marquante du blason et le sol.	x	
4	Sur le terrain d'entraînement d'un concours dominical, un archer peut être en tongs		x
5	En campagne 4 catégories d'arc sont reconnues	x	
6	Les fûts multicolores et les marques de fabrique sur la face interne de la branche supérieur sont autorisés en arc nu		x
7	Un concours valable pour le classement national comprend 24 cibles inconnues.		x
8	Au piquet rouge en distance inconnue sur blason de 60 la fourchette des distances est de 25 à 45 mètres		x
9	Aux distances connues le piquet bleu un blason de 40 doit se trouver à 15-20-25 mètres	x	
10	Les fûts multicolores et les marques de fabrique sur la face interne de la branche supérieur sont autorisés en arc classique	x	
11	Un archer peut tirer à 0.80 mètre à droite du piquet.	x	
12	Un archer peut prendre des photos avec son téléphone après que tous les archers aient tiré.		x
13	Les fûts multicolores et les marques de fabrique sur la face interne de la branche supérieur sont autorisés en arc à poulies	x	
14	Un temps de 30 minutes est accordé à un archer pour résoudre un problème matériel	x	
15	Il n'y a que 15 minutes pour un problème médical lors des épreuves finales		x
16	Si mon arc se brise je peux emprunter celui de mon adversaire direct	x	
17	Lors d'un concours dominical, le départage des égalités se fait au nombre de 6 puis au nombre de 5	x	
18	Le temps de tir pour une équipe est de 9 minutes		x
19	Un archer a 30 minutes pour se présenter à un barrage après l'annonce de celui-ci	x	
20	Un archer peut déposer un appel écrit après 15 minutes que les tirs soient finis		x
21	Au piquet bleu le total des distances inconnues doit être compris entre 300 et 330 mètres		x
22	Le piquet orange doit être présent à toutes les cibles uniques de 60 et 80 s'il y a des benjamins sur la compétition	x	
23	Le classement national des équipes se fait sur la moyenne des 2 meilleurs scores de celle-ci	x	
24	Sur blason unique les équipes tirent 6 flèches dans la cible 2 par archers en sélectif		x
25	Un archer peut tirer à genoux	x	

D) valeurs de flèches (15 points)

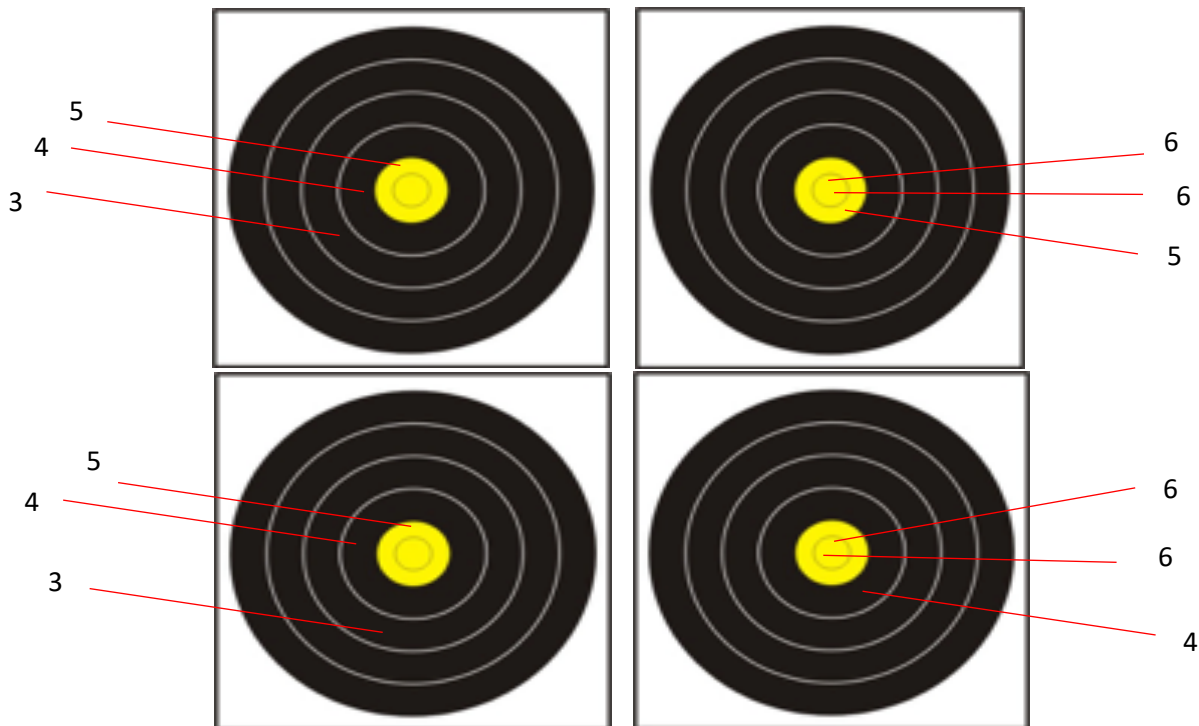
Situation A : Donnez la valeur de cette volée pour chaque archer et expliquez comment vous avez procédé.(5 points)

l'archer A a tiré sur le blason du bas à gauche

l'archer B a tiré sur le blason du haut à droite, mais 1 flèche en dépassement de temps, (il en avait déjà 2 avertissements).

l'archer C a tiré sur le blason du haut à gauche et une flèche hors temps (il avait déjà 1 seul avertissement)

l'archer D a tiré sur le blason du bas à droite



Réponse :

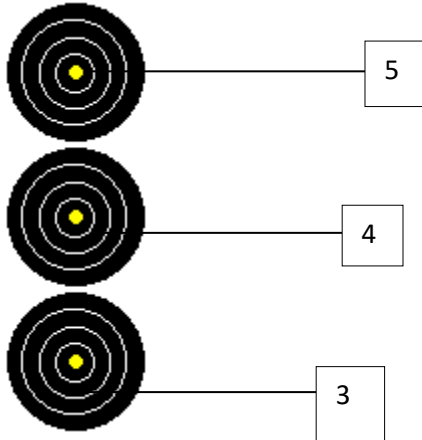
Archer A: son score sera de M M M = 0 (pas le bon blason)

Archer B: son score sera de 6 5 M = 11 car on lui enlève un 6 pour le 3eme dépassement de temps

Archer C son score sera de M M M = 0 (pas le bon blason) en plus un avertissement pour dépassement de temps

Archer D son score sera de 6 6 4 = 16

Situation B (5 points)

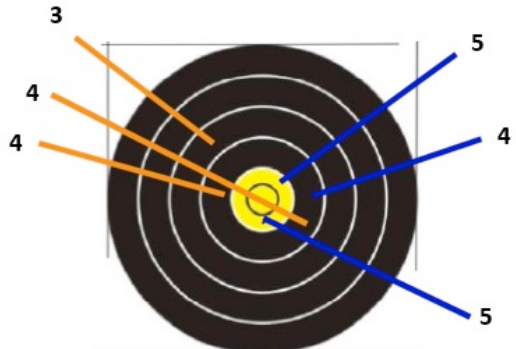


L'arbitre, pas très éloigné de la cible, a vu de façon très nette que la flèche, avant de se planter dans le 3, a ricoché sur un rocher placé à 1 m de la butte de tir

Réponse :
 L'archer a commis 0 erreur
 Valeur des flèches : 5 4 3
 Valeurs de la volée : 12 pts

Situation C (5points) Donnez les points des archers A et B.

ARCHER A **ARCHER B**



Archer A : 3 flèches tirées en 3 minutes
 Valeur des flèches : 3, 4, 4

Archer B : 3 flèches dont la dernière hors temps, c'est le premier dépassement de temps de l'archer

Réponse : Archer A : $4 + 4 + 3 = 11$
 Archer B : $5 + 5 + 4 = 14$ (+ un avertissement pour dépassement de temps)