

NOM :

Prénom :

N° d'anonymat

:

N° d'anonymat

:

Page 1 sur 8

EXAMEN ÉCRIT D'ARBITRE FÉDÉRAL - Session 2-2022
OPTION CIBLES

Madame, Mademoiselle, Monsieur

~~Cette épreuve concrétise les compétences relatives aux modules CIBLES acquises au cours de votre formation d'Arbitre Fédéral.~~

~~Si vous remplissez ce questionnaire c'est que vous êtes titulaire des modules VI, VII, IX et XIII des formations d'Arbitres Fédéraux, félicitations et bon travail.~~

~~La C.N.A.~~

Pour répondre :

- ~~• Vous rendrez la liasse de feuilles support des questions après l'avoir complétée.~~
- ~~• Si les espaces dévolus aux réponses s'avéraient insuffisants vous utiliserez des feuilles blanches format A4, en repérant sans ambiguïté les questions auxquelles elles se rapportent.~~
- ~~• Ne rien écrire en dehors du cadre.~~
- ~~• Utiliser obligatoirement un stylo de couleur noire~~

Merci de penser aux correcteurs et d'écrire lisiblement
(une copie illisible ne sera pas corrigée)

~~Vos NOM et PRÉNOM doivent être portés sur toutes les feuilles réponse, au recto et au verso, les liasses devant être dissociées pour numérisation.~~

~~**N'ÉCRIVEZ PAS DANS LES 4 CM SUPÉRIEURS DE VOS FEUILLES PERSONNELLES D'AUTRES ÉLÉMENTS QUE VOS NOM, PRÉNOM.**~~

~~**CES 4 CM SONT DÉTACHÉS DE LA COPIE AU MOMENT DE L'ANONYMISATION.**~~

~~Les épreuves devant être complètement "anonymes", il ne pourra être toléré de signes distinctifs apposés par le candidat arbitre sur aucune des feuilles.~~

Le temps alloué pour l'épreuve est de deux heures (2h)

IMPORTANT

~~Les questions sont regroupées en quatre groupes plus une question commune à toutes les options :~~

- ~~➤ groupes de questions de 1 à 14 notées sur 90 points~~
 - ~~➤ question 15, commune à toutes les options, notée sur 10 points~~
- ~~soit un total maximum de 100 points~~

Toute non-réponse à une question ou à une sous question est éliminatoire

Pour être admis, le candidat devra obtenir un minimum de 70 points, correspondant à 14/20



NOM :

Prénom :

N° d'anonymat

:

N° d'anonymat

:

Page 2 sur 8

A – Questions diverses (30 points)

● Citez les catégories qui tirent au piquet rouge : (5 points)

● Citez les catégories qui tirent au piquet blanc : (4 points)

● Quel(s) blason(s) peut-on trouver à 15 m : (2 points)

- 20 cm
- 40 cm
- 60 cm
- 80 cm

● Quel(s) blason(s) peut-on trouver à 25 m : (2 points)

- 20 cm
- 40 cm
- 60 cm
- 80 cm

● Quel(s) blason(s) peut-on trouver à 45 m : (2 points)

- 20 cm
- 40 cm
- 60 cm
- 80 cm

● Combien de flèches sont tirées par une équipe lors d'un barrage à l'issue des qualifications pour rentrer dans le « cut » lors du championnat de France par équipes de clubs en cas d'égalité ? (2 points)



NOM :

Prénom :

N° d'anonymat

:

N° d'anonymat

:

Page 3 sur 8

- Combien de zones de score comporte la partie jaune d'un blason de tir campagne de 60 cm : (2 points)
 - 1
 - 2
 - 3

- Quelle est la tolérance de distance pour une cible située à 35m (2 points)

- Sur la feuille de marque, je commence à noter : (2 points)
 - A la ligne correspondant au numéro de cible ou j'ai commencé
 - A la première ligne

- Quel est l'overdraw (distance entre le point de pression et le point pivot) autorisé pour un arc classique : (2 points)
 - 0
 - 2
 - 4
 - 6

- Donner la composition d'une équipe de tir en campagne (3 points)

- Peut-on emporter un appareil photo lors d'un concours de tir en campagne et prendre des photos avec ? (2 points)

B – Etudes de cas (20 points)

1) Lors d'une phase éliminatoire d'un championnat de France, l'organisateur a changé l'orientation d'une cible par rapport au plan initial. Lors de l'inspection rien n'a été remarqué par les arbitres. Lors du début des tirs vous vous trouvez à la cible modifiée et vous constatez que l'on voit passer les archers d'une autre cible lorsqu'ils vont compter leurs points. Comment réagissez-vous ? (5 points)



NOM :

Prénom :

N° d'anonymat

:

N° d'anonymat

:

Page 4 sur 8

2) Quel est le rôle d'un capitaine d'équipe ? (4 points)

3) Durant la compétition, l'organisateur remplace les blasons usagés. Vous vous apercevez que la taille du blason n'est plus la bonne, que faites-vous ? (4 points)

4). Lors de l'inspection du matériel sur le parcours vous voyez un arc classique avec un dispositif de visée qui vous interpelle. En mettant votre main devant, vous constatez que ce dispositif à un effet grossissant. Que faites-vous ? (3 points)

5). Un archer gaucher se trouve en place B dans le peloton, il n'aime pas tirer face à un autre archer. Peut-il changer de place dans le peloton ? (4 points)



NOM :

Prénom :

N° d'anonymat

:

N° d'anonymat

:

Page 5 sur 8

C) Affirmations (25 points)

		Vrai	Faux
1	La tolérance pour une cible à 15m est de + ou – 25cm		
2	Le tir assis est autorisé		
3	Le tir à genoux est autorisé		
4	Les U11 (poussins) peuvent participer à une compétition dominicale de tir en campagne		
5	Par équipe le temps limite d'une volée de qualification est de 6 minutes		
6	Sur un blason de 20cm, je tire mes flèches dans le(s) spot(s) que je veux		
7	Un concours valable pour le classement national comprend 24 cibles connues.		
8	Un archer peut tirer à 25cm en avant du piquet.		
9	La FFTA reconnaît quatre catégories d'arc en tir en campagne		
10	Au championnat de France Elite, les deux premiers après les qualifications sont directement qualifiés pour les 1/2 finales.		
11	En phase éliminatoire, le tir de barrage a lieu sur la première cible tirée.		
12	Le total des distances de tir à respecter sur les distances inconnues au piquet bleu est comprise entre 192 et 212 m.		
13	Si une équipe femme gagne le championnat de France par équipe de club une année impaire, elle organisera la prochaine édition.		
14	Sur un parcours de qualification normal, il y a 6 cibles de 60cm		
15	Un temps de 30 minutes est accordé pour un incident médical en phase éliminatoire		
16	Une flèche tombée à terre peut être retirée si l'archer peut la toucher avec son arc sans bouger de sa place.		
17	En individuel, sur une cible de 40 cm, les 2 premiers archers du peloton tirent dans la colonne de gauche.		

NOM :

Prénom :

N° d'anonymat

:

N° d'anonymat

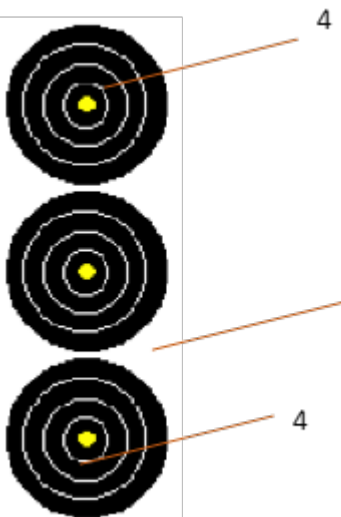
:

Page 6 sur 8

18	On peut rencontrer des pelotons de 3 archers ou 4 archers sur une même compétition.		
19	Le capitaine d'une équipe n'est pas obligatoirement un archer du club.		
20	Un archer doit tirer avec les mêmes flèches tout au long d'un parcours.		
21	Les marcassins et les écureuils sont les écussons du tir en campagne		
22	Lors d'un concours Arrow Head la réglementation internationale sera appliquée concernant le chronométrage		
23	Le piquet orange est toujours obligatoire pour les cibles de 60 cm et 80 cm lorsqu'il y a des benjamins en compétition		
24	Un blason peut se trouver à 10 cm du sol		
25	Un archer U18 (cadet) arc classique tire au piquet rouge		

D) Valeurs de volées (15 points)

A. La flèche située entre les blasons deux et trois est plantée hors zone marquante après avoir percuté la flèche du blason du haut. (5 points)

	<p>Valeur de la volée (expliquez votre démarche)</p> <p>Réponse :</p>
---	---



NOM :

Prénom :

N° d'anonymat

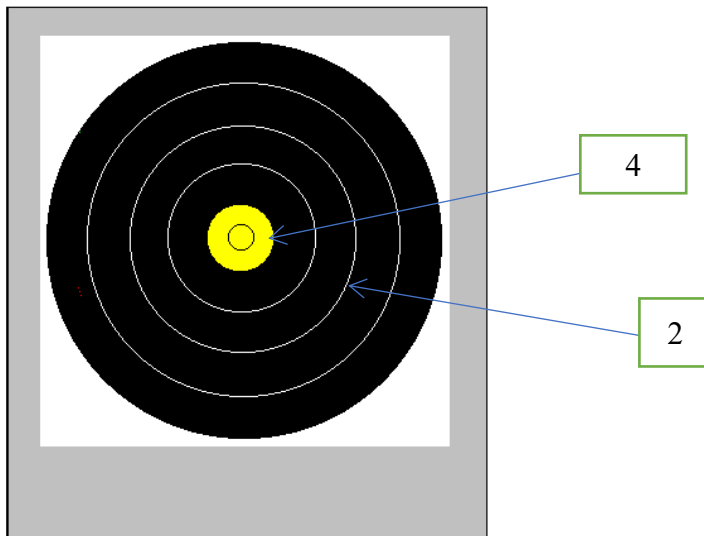
:

N° d'anonymat

:

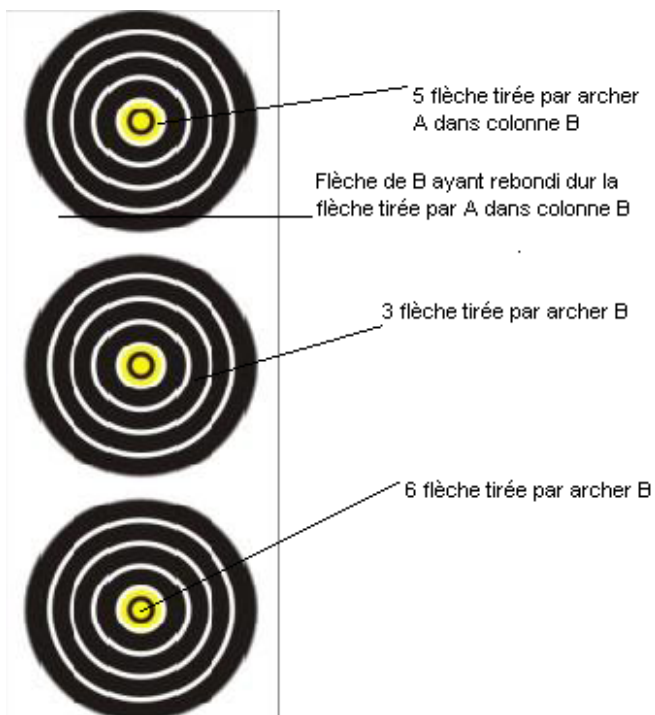
Page 7 sur 8

B) La troisième flèche a heurté la flèche dans le 4 avant de se planter dans le sol, la deuxième flèche est un 2. L'archer a mis 4 minutes pour tirer cette volée et c'est la première fois qu'il met plus de 3 minutes pour tirer une volée. (5 points)



Réponse :

C) Voici la colonne de tir d'un archer B sur blasons de 20cm. L'archer A s'est trompé de blason en tirant sa première flèche dans la deuxième colonne. Donnez le résultat de l'archer B. (5 points)



NOM :

Prénom :

N° d'anonymat

:

Page 8 sur 8

N° d'anonymat

:

Réponse :

