

TIR EN CAMPAGNE SESSION NOVEMBRE 2022

A – Questions diverses (30 points)

- Citez les catégories qui tirent au piquet rouge : (5 points)

- Juniors (U21) Arc Classique
- Seniors 1-2-3 Arc Classique
- Juniors (U21) Arc à poulies
- Seniors 1-2-3 Arc à poulies
- Senior 1 Arc à poulies sans viseur

- Citez les catégories qui tirent au piquet blanc : (4 points)

- Minimes / Cadet (U18) Arc Nu
- Benjamins (U13) Arc Classique pour les blasons 20 et 40
- Minimes (U15) Arc Classique
- Arc Droit (regroupés)

- Quel(s) blason(s) peut-on trouver à 15 m : (2 points)

- 20 cm
- 40 cm
- 60 cm
- 80 cm

- Quel(s) blason(s) peut-on trouver à 25 m : (2 points)

- 20 cm
- 40 cm
- 60 cm
- 80 cm

- Quel(s) blason(s) peut-on trouver à 45 m : (2 points)

- 20 cm
- 40 cm
- 60 cm
- 80 cm

- Combien de flèches sont tirées par une équipe lors d'un barrage à l'issue des qualifications pour rentrer dans le « cut » lors du championnat de France par équipes de clubs en cas d'égalité ? (2 points)

3 flèches (une par archer)

- Combien de zones de score comporte la partie jaune d'un blason de tir campagne de 60 cm : (2 points)

- 1
- 2
- 3

- Quelle est la tolérance de distance pour une cible située à 35m (2 points)

+/- 1 m

- Sur la feuille de marque, je commence à noter : (2 points)

- A la ligne correspondant au numéro de cible ou j'ai commencé
- A la première ligne

● Quel est l'overdraw (distance entre le point de pression et le point pivot) autorisé pour un arc classique : (2 points)

- 0
- 2
- 4
- 6

● Donner la composition d'une équipe de tir en campagne (3 points)

- 1 arc nu – 1 arc classique – 1 arc à poulies. Les équipes sont féminines ou masculines. Pas de mixité

● Peut-on emporter un appareil photo lors d'un concours de tir en campagne et prendre des photos avec ? (2 points)

Un appareil de photographies peut être emporté. Son utilisation n'est autorisée qu'une fois le tir de la volée de 3 flèches terminée et lorsque le compétiteur a quitté le pas de tir. Ne sont permis que les appareils strictement photos, les autres appareils restent interdits, notamment les téléphones mobiles.

B – Etudes de cas (20 points)

1) Lors d'une phase éliminatoire d'un championnat de France, l'organisateur a changé l'orientation d'une cible par rapport au plan initial. Lors de l'inspection rien n'a été remarqué par les arbitres. Lors du début des tirs vous vous trouvez à la cible modifiée et vous constatez que l'on voit passer les archers d'une autre cible lorsqu'ils vont compter leurs points. Comment réagissez-vous ? (5 points)

- J'avertis l'arbitre responsable et/ou l'organisateur
- Je demande aux archers arrivant à cette cible d'attendre mon signal pour commencer à tirer.
- Ensuite, je me poste entre les deux cibles de manière à ne pas gêner les archers et organise la circulation et les tirs sur ces deux cibles afin de respecter les règles de sécurité.

2) Quel est le rôle d'un capitaine d'équipe ? (4 points)

- Il participe à la réunion des capitaines d'équipe
- Il peut accompagner ses archers à tous les piquets de tir. L'ordre des tirs, à chaque cible, reste au choix de chaque équipe ;
- La communication entre le Capitaine et son équipe est libre : il peut conseiller le tireur sur sa technique de tir, sur les difficultés de tir, sur l'estimation des distances. Il peut donner la valeur des impacts. Il peut utiliser des jumelles avec les mêmes restrictions que pour les compétiteurs.
- En cas d'infraction au présent règlement, il peut se voir retirer son badge et le suivi de son équipe (mais possibilité d'utiliser le parcours visiteurs). En cas de récidive, il sera exclu du terrain de compétition.
- Il est responsable de son équipe :
 - en ce qui concerne la tenue vestimentaire et l'équipement (arc, flèches, ...)
 - il accompagne son équipe au contrôle du matériel
 - en cas de désaccord, il peut déposer un recours devant le Jury d'Appel

3) Durant la compétition, l'organisateur remplace les blasons usagés. Vous vous apercevez que la taille du blason n'est plus la bonne, que faites-vous ? (4 points)

Cette cible ne peut plus servir pour le classement de tous les concurrents. On la supprime des résultats pour l'ensemble des participants et le nombre restant de cibles est considéré comme une épreuve complète.

Je le signale sur le rapport d'arbitrage et le fait remonté à la FFTA pour expliquer les scores.

4). Lors de l'inspection du matériel sur le parcours vous voyez un arc classique avec un dispositif de visée qui vous interpelle. En mettant votre main devant, vous constatez que ce dispositif à un effet grossissant. Que faites-vous ? (3 points)

Règlement : Il n'y sera pas incorporé de prisme, ni de lentille, ni de verre grossissant, ni d'appareil de nivellement, ni électronique, ni électrique. De même, il n'offrira qu'un seul point de visée.

Je demande à l'archer de le retirer, ou de changer de viseur, sinon il ne sera pas classé.

5). Un archer gaucher se trouve en place B dans le peloton, il n'aime pas tirer face à un autre archer. Peut-il changer de place dans le peloton ? (4 points)

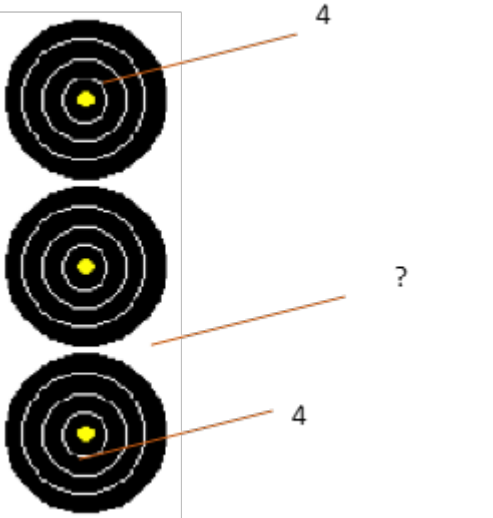
Oui à partir du moment où les autres archers sont d'accord, qu'il change avant de tirer une flèche, qu'il garde sa nouvelle place pour toute la compétition, qu'il prévienne un arbitre de ce changement dès qu'il en rencontre un et qu'il montre sa feuille de marque modifiée à l'arbitre pour qu'il la signe.

C) Affirmations (25 points)

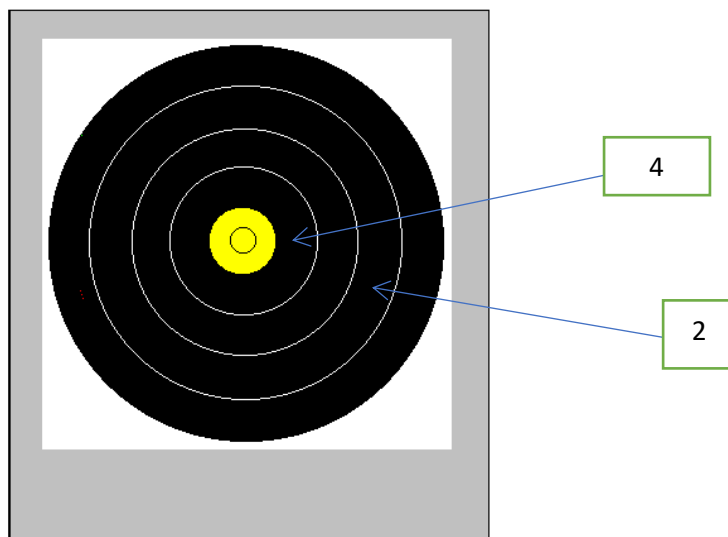
		vrai	faux
1	La tolérance pour une cible à 15m est de + ou – 25cm	x	
2	Le tir assis est autorisé		x
3	Le tir à genoux est autorisé	x	
4	Les U11 (poussins) peuvent participer à une compétition dominicale de tir en campagne		x
5	Par équipe le temps limite d'une volée de qualification est de 6 minutes	x	
6	Sur un blason de 20cm, je tire mes flèches dans le(s) spot(s) que je veux		x
7	Un concours valable pour le classement national comprend 24 cibles connues.		x
8	Un archer peut tirer à 25cm en avant du piquet.		x
9	La FFTA reconnaît quatre catégories d'arc en tir en campagne	x	
10	Au championnat de France Elite, les deux premiers après les qualifications sont directement qualifiés pour les 1/2 finales.	x	
11	En phase éliminatoire, le tir de barrage a lieu sur la première cible tirée.		x
12	Le total des distances de tir à respecter sur les distances inconnues au piquet bleu est comprise entre 192 et 212 m.		x
13	Si une équipe femme gagne le championnat de France par équipe de club une année impaire, elle organisera la prochaine édition.	x	
14	Sur un parcours de qualification normal, il y a 6 cibles de 60cm	x	
15	Un temps de 30 minutes est accordé pour un incident médical en phase éliminatoire		x
16	Une flèche tombée à terre peut être retirée si l'archer peut la toucher avec son arc sans bouger de sa place.	x	
17	En individuel, sur une cible de 40 cm, les 2 premiers archers du peloton tirent dans la colonne de gauche.		x
18	On peut rencontrer des pelotons de 3 archers ou 4 archers sur une même compétition.	x	
19	Le capitaine d'une équipe n'est pas obligatoirement un archer du club.	x	
20	Un archer doit tirer avec les mêmes flèches tout au long d'un parcours.		x
21	Les marcassins et les écureuils sont les écussons du tir en campagne	x	
22	Lors d'un concours Arrow Head la réglementation internationale sera appliquée concernant le chronométrage	x	
23	Le piquet orange est toujours obligatoire pour les cibles de 60 cm et 80 cm lorsqu'il y a des benjamins en compétition	x	
24	Un blason peut se trouver à 10 cm du sol		x
25	Un archer U18 (cadet) arc classique tire au piquet rouge		x

D) Valeurs de volées (15 points)

A. La flèche située entre les blasons deux et trois est plantée hors zone marquante après avoir percuté la flèche du blason du haut. (5 points)

	<p>Valeur de la volée (expliquez votre démarche)</p> <p>La flèche ayant percuté une flèche en cible prend la valeur de celle-ci si elle se plante en zone non marquante. Dans cette situation la valeur de la flèche est un 4 de ce fait on retrouve 2 quatre dans le blason du haut, il faut supprimer un 4 ce qui donne comme valeur 4 + 4 + 0 = 8 points</p>
---	--

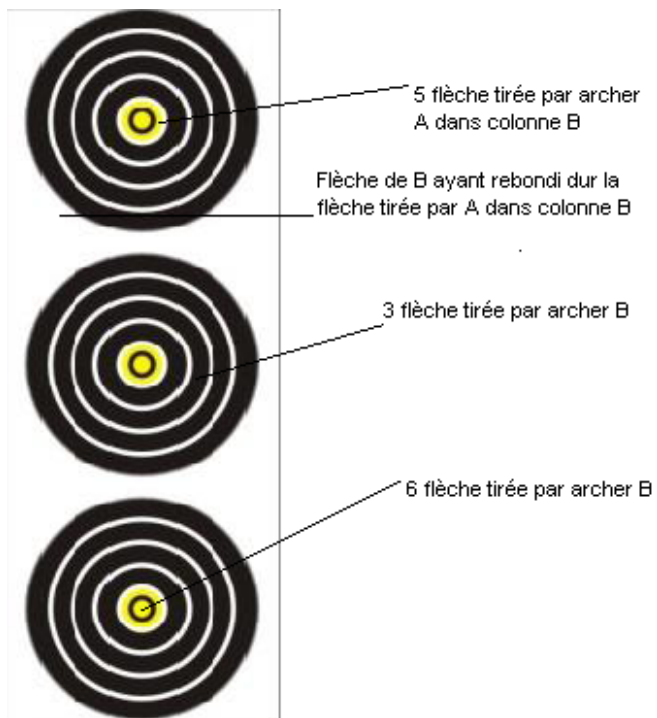
B) La troisième flèche a heurté la flèche dans le 4 avant de se planter dans le sol, la deuxième flèche est un 2. L'archer a mis 4 minutes pour tirer cette volée et c'est la première fois qu'il met plus de 3 minutes pour tirer une volée. (5 points)



Réponse : 4+4+2+10

Noter un avertissement pour dépassement de temps sur les feuilles de marque

C) Voici la colonne de tir d'un archer B sur blasons de 20cm. L'archer A s'est trompé de blason en tirant sa première flèche dans la deuxième colonne. Donnez le résultat de l'archer B. (5points)



Réponse : $6+5+3=14$