

NOM :

Prénom :

N° d'anonymat :

--

Page 1 sur 11

N° d'anonymat :

**EXAMEN ÉCRIT D'ARBITRE FÉDÉRAL - Session 1-2023
OPTION CIBLES**

Madame, Mademoiselle, Monsieur

Cette épreuve concrétise les compétences relatives aux modules CIBLES acquises au cours de votre formation d'Arbitre Fédéral.

Si vous remplissez ce questionnaire c'est que vous êtes titulaire des modules VI, VII, IX et XIII des formations d'Arbitres Fédéraux, félicitations et bon travail.

La C.N.A.

Pour répondre :

- Vous rendrez la liasse de feuilles support des questions après l'avoir complétée.
- Si les espaces dévolus aux réponses s'avéraient insuffisants vous utiliserez des feuilles blanches format A4, en repérant sans ambiguïté les questions auxquelles elles se rapportent.
- Ne rien écrire en dehors du cadre.
- Utiliser obligatoirement un stylo de couleur noire

Merci de penser aux correcteurs et d'écrire lisiblement
(une copie illisible ne sera pas corrigée)

Vos NOM et PRÉNOM doivent être portés sur toutes les feuilles réponse, **au recto et au verso**, les liasses devant être dissociées pour numérisation.

N'ÉCRIVEZ PAS DANS LES 4 CM SUPÉRIEURS DE VOS FEUILLES PERSONNELLES D'AUTRES ÉLÉMENTS QUE VOS NOM, PRÉNOM.

CES 4 CM SONT DÉTACHÉS DE LA COPIE AU MOMENT DE L'ANONYMISATION.

Les épreuves devant être complètement "anonymes", il ne pourra être toléré de signes distinctifs apposés par le candidat arbitre sur aucune des feuilles.

Le temps alloué pour l'épreuve est de deux heures (2h)

IMPORTANT

Les questions sont regroupées en quatre groupes plus une question commune à toutes les options :

- groupes de questions de 1 à 14 notées sur 90 points
- question 15, commune à toutes les options, notée sur 10 points
soit un total maximum de 100 points

Toute non-réponse à une question ou à une sous question est éliminatoire

**Pour être admis, le candidat devra obtenir un minimum de 70 points, correspondant à
14/20**



NOM :

Prénom :

N° d'anonymat :

Page 2 sur 11

N° d'anonymat :

Question 1 (3 Pts).

Vous êtes arbitre sur une compétition sélective au Championnat de France et vous devez expliquer à votre stagiaire la fonction de la zone des 3 m et la manière dont il faut la tracer. Aidez-vous d'un dessin si nécessaire.

Question 2 (5 Pts)

2-1 : Lors d'un Championnat Régional individuel de tir en salle, en quoi consiste l'épreuve éliminatoire pour les arcs classiques ? **(3 Pts)**

2-2 : Y a-t-il une différence pour les arcs à poulies ? **(2 Pts)**



NOM :

Prénom :

N° d'anonymat :

Page 3 sur 11

N° d'anonymat :

Question 3 (5 Pts)

Au cours d'une phase éliminatoire sur un championnat régional à 18 m, un archer se retrouve seul sur la ligne de tir au moment du départ. Décrivez la situation : que devra faire l'archer, quelles sont ses possibilités ?

Question 4 (5 Pts)

Lors d'un concours dominical à 18M, l'équipe organisatrice vous explique que sur le départ 2, rythme AB/CD, ils se retrouvent sur une même cible avec 2 arcs compounds et 1 arc classique. Dessinez la mise en place des blasons et indiquez les mesures qui s'y rapportent (hauteur blasons, écartement...).



NOM :

Prénom :

N° d'anonymat :

Page 4 sur 11

N° d'anonymat :

Question 5 (8 Pts : 1 pt par élément de réponse)

Expliquer les différentes sanctions possibles lors d'un match par équipe (quand et pourquoi sont-elles données, comment sont-elles matérialisées ?) et expliquer ce que l'archer doit faire si une telle sanction est donnée.

Question 6 (5 Pts : 1 pt par élément de réponse)

Citer les éléments que vous pouvez être amenés à vérifier sur les flèches d'un archer lors du contrôle de matériel d'une compétition.

Question 7 (4 Pts)

Vous arbitrez une compétition en salle, l'archer B de la cible 12 qui tire avec un arc à poulies vous appelle car l'archer A, à côté de lui, s'est trompé de blason et a tiré dans son spot du milieu dans la zone 10. Il vous dit que ça le gêne pour tirer sa 3ème flèche, que faites-vous ?



NOM :

Prénom :

N° d'anonymat :

Page 5 sur 11

N° d'anonymat :

Question 8 (2 Pts)

Un parent d'un archer de catégorie U11 vous demande si son fils pourrait participer au Championnat Départemental TAE Discipline Internationale et s'il y a des particularités, que lui répondez-vous ?

Question 9 : (2 Pts)

Sur un concours TAE 50 M sélectif au Championnat de France, un archer U18 arc nu vient vous voir avant le début des tirs car il souhaiterait être ponctuellement surclassé en U21 arc nu. Quelle sera votre réponse ?

Question 10 (2 Pts)

Au cours d'un Championnat Régional à 18m, à la fin des 1/8 de finales, un archer en posant son arc dans la zone de matériel trébuche et fait tomber 2 arcs. Quelques minutes plus tard, l'arbitre siffle le départ des ¼ de finales et l'un des archers ayant eu son arc endommagé vient vous voir et vous demande du temps supplémentaire pour réparer. Que décidez-vous ?

Question 11 (2 Pts)

Au cours d'une manche de DR, 2 équipes arcs classiques se retrouvent à égalité, un tir de barrage est annoncé. Le coach d'une des 2 équipes (pour qui c'est sa 1^{ère} épreuve en tant que coach) vous demande de lui expliquer le déroulement.



NOM :

Prénom :

N° d'anonymat :

Page 6 sur 11

N° d'anonymat :

Question 12 (3 Pts)

Sur un Championnat Départemental en tir à 18m que vous arbitrez, suite au tir qualificatif, deux archers sont à égalité au cut prévu (16ème). Comment désignez-vous l'archer qui tirera les épreuves éliminatoires, sachant que L'archer B a plus de 10 que l'archer A ?

Question 13 (6 Pts)

Quelles sont les catégories d'armes autorisées pour une compétition sélective en tir à 18M en salle ?

Pour chacune de ces catégories indiquer les catégories d'âge ouvertes à la compétition ?

Question 14 (3 Pts)

Vous êtes appelé à une cible sur laquelle se sont produits deux rebonds (refus) dans la même volée, de deux compétiteurs différents. Les deux flèches sont à terre, devant la cible. Vous constatez :

- 2 impacts non cochés sur le blason, l'un au 9, l'autre au 7
- 3 autres impacts non marqués sur le blason, hors des zones marquantes

Comment déterminez-vous la valeur des deux flèches ayant rebondi ?



NOM :

Prénom :

N° d'anonymat :

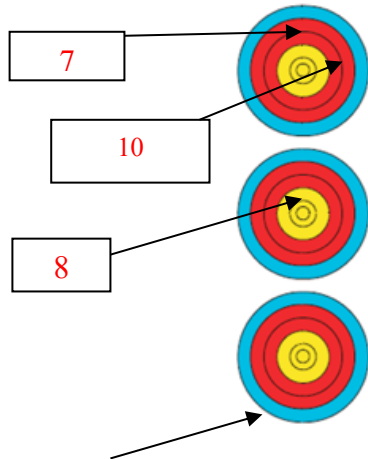
Page 7 sur 11

N° d'anonymat :

Question 15 : Valeur des volées (20 Pts)

Pour chacune des 5 situations suivantes, donnez la valeur des flèches et de la volée en expliquant comment vous avez procédé : **(1pt / bon total + 3pts / justification)**

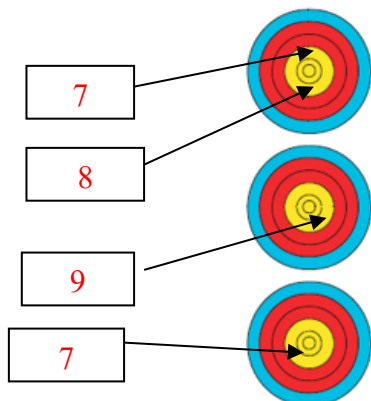
Situation 1 (4 points)



Valeur de la volée :

Cette flèche a été tirée hors temps et s'est plantée hors zone

Situation 2 (4 points)



Valeur de la volée :



NOM :

Prénom :

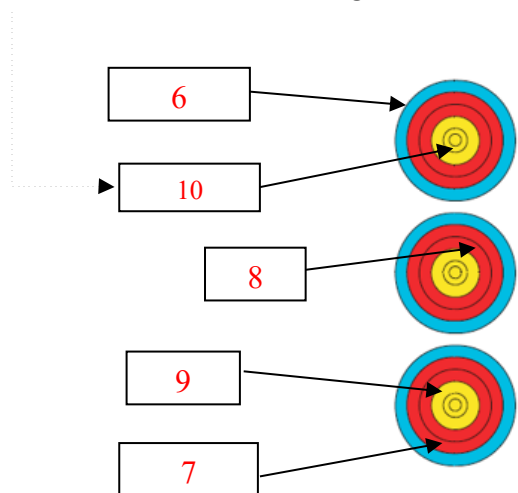
N° d'anonymat :

Page 8 sur 11

N° d'anonymat :

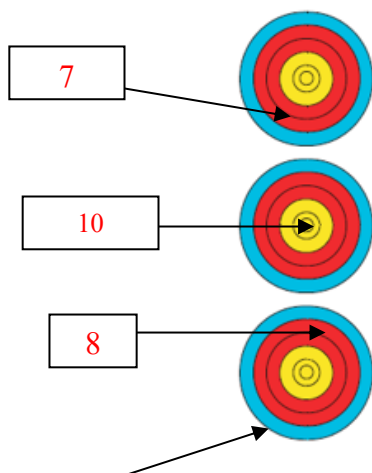
Situation 3 (4 points)

Cette flèche a été tirée avant le signal sonore



Valeur de la volée :

Situation 4 (4 points)



Valeur de la volée :

Cette flèche a percuté le 8 avant de se planter hors zone



NOM :

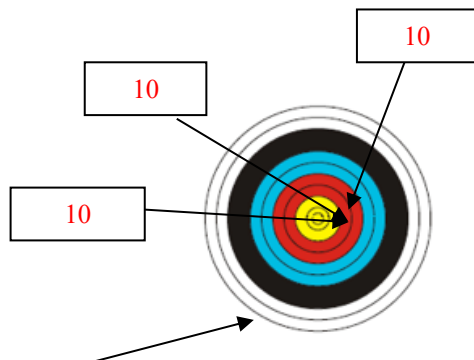
Prénom :

N° d'anonymat :

Page 9 sur 11

N° d'anonymat :

Situation 5 (4 points)



Valeur de la volée :

Cette flèche a été tirée hors temps et a percuté un 10 avant de se planter hors zone

Question 16 : PARA TIR à l'ARC (7 points)

Lors d'une compétition TAE Nationale se déroulant sur un week end, l'organisateur vous indique que le Club de la commune voisine a demandé à inscrire 10 archers PARA TIR A L'ARC au départ du samedi matin (le moins fréquenté). Le tir a lieu en Rythme AB/CD. Il y a suffisamment de place sur le terrain pour les accueillir dans de bonnes conditions. Parmi les affirmations suivantes lesquelles sont exactes et lesquelles sont fausses :

0,5 pt par réponse exacte = 5 points

	VRAI	FAUX
Si la mention PARA n'est pas portée sur la licence ou sur résultat'arc il pourra malgré tout concourir aux conditions PARA		
Vous vous assurez que les archers à mobilité réduite n'aient pas à devoir sortir du pas de tir lors des rotations AB/CD (Si l'archer PARA est en A, alors aucun archer ne sera positionné en C)		
Vous vérifiez que les aides utilisées par les archers correspondent à celles indiquées sur la carte de classification		
Les catégories PARA ne diffèrent en rien des catégories valides : les archers sont uniquement classés selon leur arme, leur âge et leur sexe)		
Les archers PARA font l'objet d'un classement national spécifique		
Les archers PARA peuvent bénéficier d'un agent pour les représenter en cible (pour le marquage des points)		
L'entraîneur d'un archer PARA dont le handicap l'oblige à rester sur le pas de tir en permanence		
<ul style="list-style-type: none">Est autorisé à se placer à coté de lui durant les phases de tirEst autorisé à le rejoindre lors des pauses entre les volées		
Un archer déficient auditif ne peut pas être considéré comme PARA		
L'arc à poulies n'est pas autorisé pour les déficients visuels		



NOM :

Prénom :

N° d'anonymat :

Page 10 sur 11

N° d'anonymat :

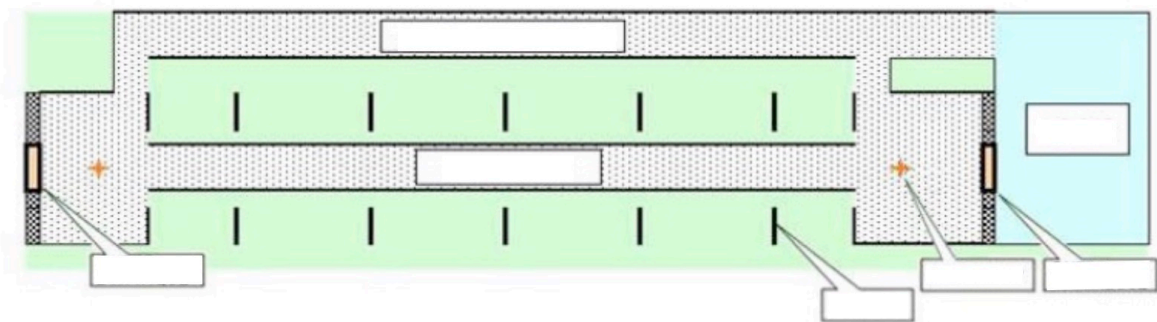
Lors de la compétition les deux situations suivantes se produisent : expliquer votre action :
(1 pt par situation = 2 points)

Un des archers PARA tirant en arc à poulie à la bouche utilise un système de décoche. Il vous explique que son système s'est encrassé à cause de la salive et qu'il ne déclenche plus correctement. Il vous demande 30 mn pour réparer, que lui répondez-vous ?

Après avoir réparé, il vous explique que pour une utilisation normale de son système il est indispensable de bénéficier d'une volée supplémentaire pour le réglage du décocheur. Selon lui il s'agit d'une règle spécifique au para.

Question 17 : BEURSAULT (8 points)

Donner les noms des différents éléments de ce Beursault. **(3 pts : soit 0,5 pt par réponse)**



QCM : (5 pts : soit 0,5 pt par réponse)



NOM :

Prénom :

N° d'anonymat :

--

Page 11 sur 11

N° d'anonymat :

N°	Énumération	oui	non
1	La distance entre deux buttes de tir au beursault est de 60 mètres		
2	Le marmot de la cible du bouquet a un diamètre de 62 millimètres		
3	Une flèche dans le 3 correspond à un chapelet		
4	Les pelotons sont de 5 archers		
5	On appelle halte 1 aller et 1 retour		
6	Les archers doivent tirer à cheval sur la ligne		
7	Le temps imparti pour tirer une flèche ne doit pas excéder 60 secondes		
8	En cas d'incident matériel l'archer a 30 minutes pour réparer		
9	Si égalité, le départage se fait au plus grand nombre de 4 et 3		
10	Si une flèche atteint le marmot après avoir ricoché elle compte 4 points		

Question 18 : Commune à toutes les options (10 points)

Interruption de la compétition. Qui prend la décision, pourquoi, sous quelles conditions, conséquences ?

