

NOM :

Prénom :

N° d'anonymat :

Page 1 sur 12

N° d'anonymat :

**EXAMEN ÉCRIT D'ARBITRE FÉDÉRAL - Session 2023-2
OPTION CIBLES**

Madame, Mademoiselle, Monsieur

Cette épreuve concrétise les compétences relatives aux modules CIBLES acquises au cours de votre formation d'Arbitre Fédéral.

Si vous remplissez ce questionnaire c'est que vous êtes titulaire des modules VI, VII, IX et XIII des formations d'Arbitres Fédéraux, félicitations et bon travail.

La C.N.A.

Pour répondre :

- Vous rendrez la liasse de feuilles support des questions après l'avoir complétée.
- Si les espaces dévolus aux réponses s'avéraient insuffisants vous utiliserez des feuilles blanches format A4, en repérant sans ambiguïté les questions auxquelles elles se rapportent.
- Ne rien écrire en dehors du cadre.
- Utiliser obligatoirement un stylo de couleur noire

**Merci de penser aux correcteurs et d'écrire lisiblement
(une copie illisible ne sera pas corrigée)**

Vos NOM et PRÉNOM doivent être portés sur toutes les feuilles réponse, **au recto et au verso**, les liasses devant être dissociées pour numérisation.

N'ECRIVEZ PAS DANS LES 4 CM SUPERIEURS DE VOS FEUILLES PERSONNELLES D'AUTRES ELEMENTS QUE VOS NOM, PRENOM.

CES 4 CM SONT DETACHES DE LA COPIE AU MOMENT DE L'ANONYMISATION.

Les épreuves devant être complètement "anonymes", il ne pourra être toléré de signes distinctifs apposés par le candidat arbitre sur aucune des feuilles.

Le temps alloué pour l'épreuve est de deux heures (2h)

IMPORTANT

Les questions sont regroupées en quatre groupes plus une question commune à toutes les options :

- groupes de questions de 1 à 14 notées sur 90 points
- question 15, commune à toutes les options, notée sur 10 points
soit un total maximum de 100 points

Toute non-réponse à une question ou à une sous question est éliminatoire

**Pour être admis, le candidat devra obtenir un minimum de 70 points, correspondant à
14/20**



NOM :

Prénom :

N° d'anonymat :

Page 2 sur 12

N° d'anonymat :

Question 1 (3 Pts – 0,5 pt / réponse).

Parmi les situations ci-dessous, indiquez lesquelles sont conformes au règlement et les quelles ne le sont pas.

Les cibles positionnées pour les S1H Classique en TAE international sont à 70,40 m	
Les cibles positionnées pour les S2D Compound en TAE international sont à 50,05 m	
Les cibles positionnées pour un tir en salle sont à 17,95 m	
La distance de tir pour les U15 au Beursault est mesurée à 50,10 m	
La hauteur des basons de 122 en TAE national est de 1,36cm	
La hauteur du spot central d'un trispots en salle est de 1,29 cm	

Question 2 (5 Pts)

Lors d'un Championnat Régional individuel de tir en salle avec duels, l'organisateur décide de tirer les finales « Or » des catégories S1 H et D en alterné – les finales « or » pour les autres catégories étant tirés en simultané.

2-1 (2 Pts): est-il possible de procéder ainsi ou toutes finales doivent-elles être tirées en alterné (équité entre catégorie) ?

2-2 (3 Pts) : Si le tir est fait en alterné

* le quel des 2 archers débute le match ?

* le quel des 2 archers débute la 2° volée/set ?

* lequel des deux archers débute en cas de barrage ?

Question 3 (5 Pts)

Lors d'un championnat départemental, vous devez désigner un jury d'appel. Quels sont les éléments que vous devez prendre en compte (répondez aux questions ci-dessous) ?

- Quelle est la condition principale pour être désigné dans le jury d'appel ?
- Qui ne peut pas faire partie du jury d'appel ?
- Combien de personnes devez-vous prévoir pour ce jury ?



NOM :

Prénom :

N° d'anonymat :

Page 3 sur 12

N° d'anonymat :

- Combien de personnes peuvent siéger dans le jury si celui-ci se réunit ?
- Quand la composition du jury doit-elle être faite : en cas d'appel uniquement ou en début de compétition ?

Question 4 (3 Pts)

Lors d'un championnat régional en salle pour lequel l'organisateur a décidé de retenir 16 archers par catégorie pour l'entrée dans les phases éliminatoires, comment gérer vous les égalités suivantes

- Une égalité entre le 2° et 3° des qualifications (1 Pt)
- Une égalité entre les 15°- 16° et 17° des qualifications (2 Pts)

Question 5 (8 Pts)

Expliquer le déroulement d'un match par équipe en arc à poulies ?

(Nombre de volées, nombre de flèches, temps de tir, qui gagne le match, comment est déterminé le vainqueur en cas de barrage (6 Pts)



NOM :

Prénom :

N° d'anonymat :

Page 4 sur 12

N° d'anonymat :

Expliquer les différences avec un tir par équipe en arc classique (2 Pts)

Question 6 (4 Pts : 1 pt par élément de réponse)

Quels sont les points à vérifier sur le viseur/ système de visée d'un arc classique lors d'un contrôle de matériel



NOM :

Prénom :

N° d'anonymat :

Page 5 sur 12

N° d'anonymat :

Question 7 (4 Pts)

Lors d'un contrôle de matériel vous constatez les situations suivantes

Sont-elles conformes au règlement ou non ?

- Un arc à poulies pesé à 62 livres pour un TAE international =>
- Une palette pour arc classique équipée d'un déclencheur mécanique pour un tir en salle
=>
- Un arc nu équipé d'un clicker pour le tir en salle
=>
- Une paire de jumelle pour un tir Beursault
=>

Question 8 (2 Pts)

Un archer U13 se présente au greffe d'une compétition TAE national sélective et explique souhaiter concourir dans la même catégorie que son frère qui possède une licence U18 car il a fait le pari de battre son frère en compétition.

Pouvez-vous accepter cette demande ? – expliquez le motif de votre décision

Question 9 : (2 Pts)

Même question que la question 8 pour un archer S3 qui souhaite concourir en catégorie S1 et se mesurer à l'élite locale.



NOM :

Prénom :

N° d'anonymat :

Page 6 sur 12

N° d'anonymat :

Question 10 (2 Pts)

Vous êtes arbitre sur une compétition sélective et vous demandez à un stagiaire d'équerrer le terrain. Il vous répond ne pas connaître la procédure pour réaliser ce contrôle.

Comment lui expliquez-vous en quoi consiste ce contrôle ?

Question 11 (2 Pts)

Avant le début d'une compétition, les archers s'installent sur le terrain et montent leur équipement. Vous observez alors un archer qui après avoir mis sa corde sur son arc classique, bande son arc dans la zone de repos des archers (à vide - sans flèche) pour s'assurer que le positionnement de la corde est bon

Est-ce que vous intervenez auprès de cet archer ou alors son action ne pose pas souci ?

Question 12 (3 Pts)

Lors de la finale de la catégorie S1H arc classique du championnat régional tir à 18m, les deux archers sont à égalité à l'issue de leur duel. Un barrage est nécessaire pour déterminer le vainqueur. L'arbitre responsable de la compétition vous confie la gestion de ce barrage. Quels sont les points que vous devez faire avant de procéder au tir de barrage ?



NOM :

Prénom :

N° d'anonymat :

Page 8 sur 12

N° d'anonymat :

3- Un archer décide de son propre chef de changer la corde de son arc entre les deux séries d'une compétition de TAE. Durant la pose entre les 2 distances et afin de vérifier la bonne position de son point d'encoche il se rend sur la ligne de tir (sans en demander la permission à un arbitre) et tire une flèche. Quelle est votre réaction ?

4- Un concurrent vous interpelle lors d'une volée de TAE national (3 archers sur la cible) en vous indiquant qu'il a eu un rebond. Que faites-vous ?



NOM :

Prénom :

N° d'anonymat :

Page 9 sur 12

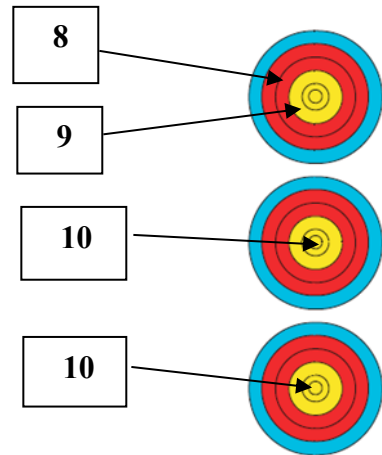
N° d'anonymat :

Question 14 : Valeur des volées (20 Pts)

Pour chacune des 5 situations suivantes, donnez la valeur des flèches et de la volée en expliquant comment vous avez procédé : **(1pt / bon total + 3pts / justification)**

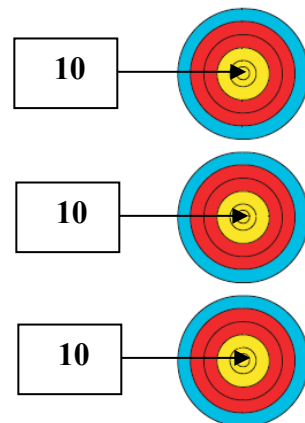
Situation 1 (4 points)

La flèche de valeur 10 dans le spot du milieu a été tirée hors temps.



Situation 2 (4 points)

Une quatrième flèche est trouvée au sol, l'encoche de la flèche dans le spot du haut est cassée



NOM :

Prénom :

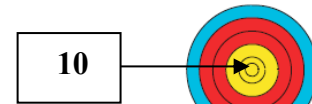
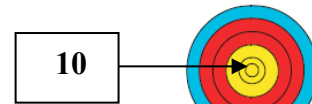
N° d'anonymat :

Page 10 sur 12

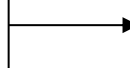
N° d'anonymat :

Situation 3 (4 points)

Une flèche est trouvée au sol. L'encoche de la flèche dans le spot du milieu est cassée

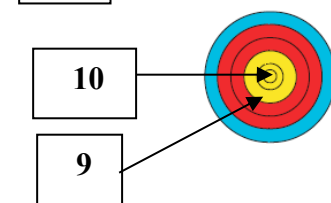
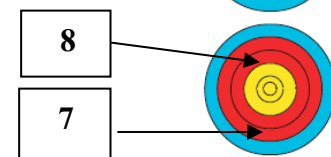
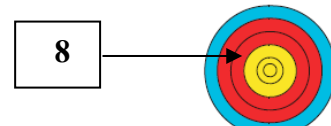


Flèche au sol



Situation 4 (4 points)

La dernière flèche est tirée après le signal sonore



NOM :

Prénom :

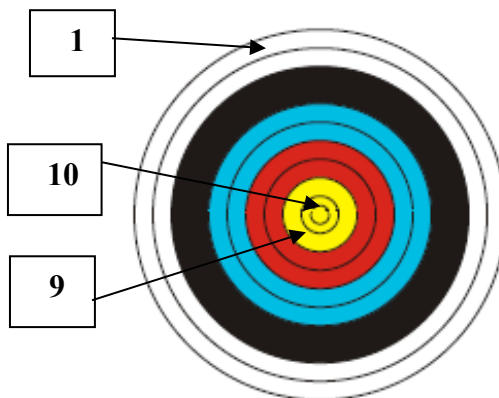
N° d'anonymat :

Page 11 sur 12

N° d'anonymat :

Situation 5 (4 points)

L'encoche de la flèche dans le 10 est cassée



Question 15 : PARA TIR à l'ARC (10 Pts)

Répondez par vrai ou faux aux différentes situations ci-après :

Pour prétendre à intégrer un classement para tir à l'arc un archer doit être préalablement classifié par son médecin traitant ?	
Un archer para tir a l'arc dispose d'une carte de classification	
La carte de classification précise l'ensemble des aides autorisées	
Un archer para tir à l'arc peut tirer avec un arc nu	
La FFTA reconnait le para tir à l'arc en tir nature	
Un archer para tir à l'arc peut être membre d'une équipe de DRE	
Un archer par tir à l'arc ne peut pas bénéficier de dérogation pour porter des chaussures ouvertes	
Les équipements autorisés pour les archers sont dépendants des classifications des archers	
Un archer non voyant ne peut pas prétendre à une licence FFTA	
La distance maximale pour un archer para tir à l'arc est de 60 m	



NOM :

Prénom :

N° d'anonymat :

--

Page 12 sur 12

N° d'anonymat :

--

Question 17 : BEURSAULT (5 Pts)

Répondez par vrai ou faux aux différentes situations ci-après

Le tir Beursault est possible en arc nu jusqu'au championnat régional	
Le diamètre de la zone de points (intérieur du cordon) est de 45 cm	
Le noir d'une carte de bouquet est identique à celui d'une carte de championnat de France	
En Beursault, une flèche tombée au sol est obligatoirement considérée comme tirée car il n'existe pas de « zone de 3m » semblable à celle du TAE ou du tir à 18m	
La carte est positionnée à 1,3m du sol	

Question 18 : Commune à toutes les options (10 points)

Indiquez quel est l'équipement dont doit disposer un arbitre lorsqu'il officie lors d'une compétition et celui qui doit être mis à disposition de l'arbitre par l'organisateur.

